

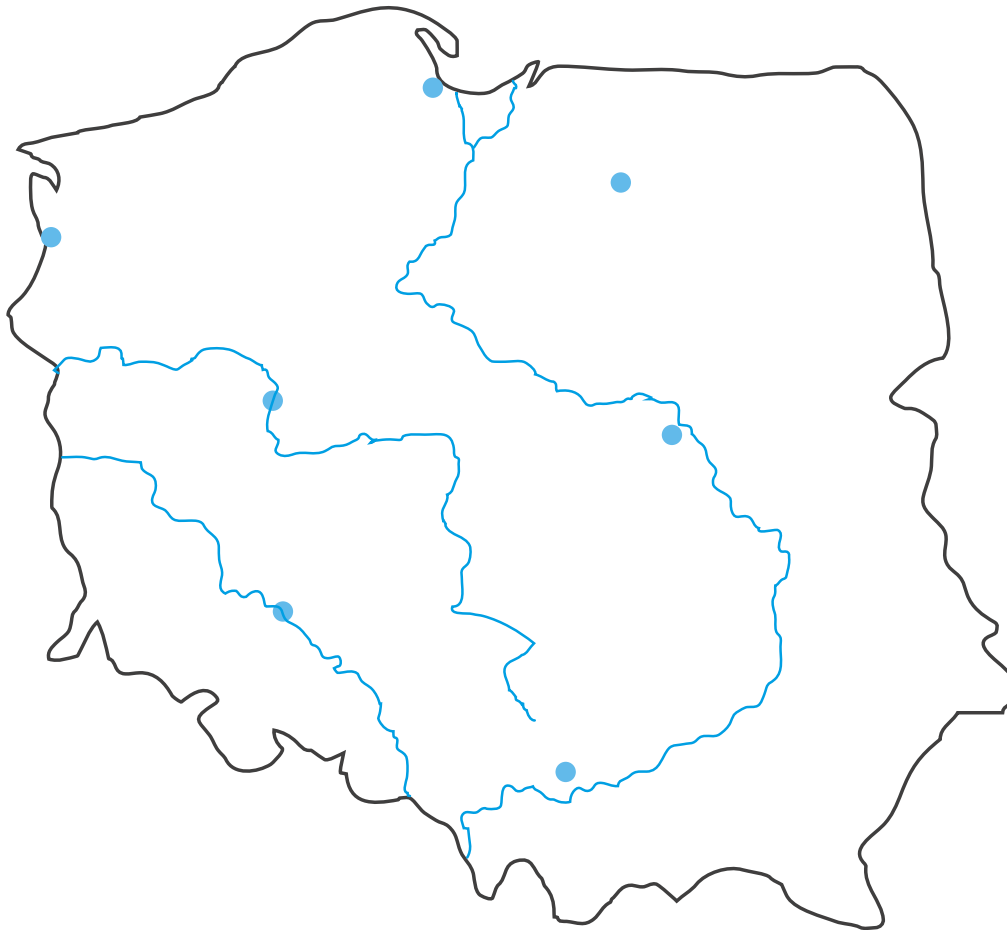


KARTA:

Z KLASY:

Moja mała ojczyzna

1 Pokoloruj na mapie Polski region, w którym mieszkasz.



2 Narysuj na mapie Polski fale tam, gdzie jest morze.

3 Narysuj na mapie Polski trójkąty tam, gdzie są Tatry.



KAPITAŁ LUDZKI
NARODOWA STRATEGIA SPÓJNOŚCI



OŚRODEK
ROZWOJU
EDUKACJI



UNIA EUROPEJSKA
EUROPEJSKI
FUNDUSZ SPOŁECZNY





KARTA:

Z KLASY:

- 4 Narysuj znak + przy obrazkach zachęcających do odwiedzenia jakiejś miejscowości, a znak – przy obrazkach zniechęcających do jej odwiedzenia.




- 5 Narysuj tyle drzew, ile w Twojej miejscowości jest naprawdę ciekawych zakątków przyrodniczych. Jeżeli jest ich bardzo dużo, narysuj taki znak – ! Jest to wykrzyknik.



KARTA:

Z KLASY:

6 Narysuj po śladzie kruzganki, okna i drzwi.



7 Popraw czerwoną kredką wszystkie łuki na obrazku z zadania 7.



8 Narysuj kwadrat pod co drugim łukiem z zadania 7.



KARTA:

Z KLASY:




Moja mała ojczyzna

1 Narysuj drogę, którą Ada idzie do Jasia.

Tak idzie Ada:

- 2 kratki w prawo,
- 3 w dół,
- 5 w lewo,
- 7 w dół,
- 2 w prawo,
- 3 w dół.




2 Zaznacz na rysunku strzałkę wskazującą, w jakim kierunku Jaś musiałby iść do Ady.

KARTA:
Z KLASY:



3 W miejscowości, w której mieszka babcia Jasia, kiedyś stał piękny zamek. Niestety, został po nim tylko mur. Narysuj tyle pionowych kresek, ile jest okien w tym murze.



--	--	--	--	--	--	--	--	--	--	--	--	--	--	--	--	--	--	--	--	--	--	--	--

4 Dorysuj na rysunku z zadania 3 dwie wieże. Pierwszą wieżę narysuj z prawej strony. Powinna być ona wyższa od drugiej wieży, która ma się znajdować z lewej strony.



KAPITAŁ LUDZKI
NARODOWA STRATEGIA SPÓJNOŚCI



OŚRODEK
ROZWOJU
EDUKACJI



UNIA EUROPEJSKA
EUROPEJSKI
FUNDUSZ SPOŁECZNY



KARTA:

Z KLASY:



- 5 Babcia Jasia wybrała się na wycieczkę. Pomóż jej dojść do wzgórza zamkowego.



- 6 Otocz kółkiem rysunek znajdujący się w lewym górnym rogu tej kartki, a kwadratem – rysunek znajdujący się w prawym górnym rogu tej kartki.

Praca
domowa



KARTA:

Z KLASY:



- 1 Dziadek Andrzej pracował w ogrodzie. Kiedy się odwrócił, przez jego świeżo zgrabioną grządkę przebiegły zwierzęta. Czy potrafisz powiedzieć, ile ich było?



Razem
z Rodzicami



Porozmawiajcie o tym, skąd pochodzą Twoi rodzice. Wejdźcie na stronę www.matematycznawyspa.pl i wykonajcie razem zadanie z pomocy multimedialnej *Mieszkam w Polsce*.



KAPITAŁ LUDZKI
NARODOWA STRATEGIA SPÓJNOŚCI



OŚRODEK
ROZWOJU
EDUKACJI



UNIA EUROPEJSKA
EUROPEJSKI
FUNDUSZ SPOŁECZNY

