

KARTA:

Z KLASY:



Jajko mądrzejsze od kury

- 1 Otocz pętlą na obrazku te elementy, w których nazwach występuje ś.

Ś ś



świeca

Si si

7 siedem



- 2 Przeczytaj zdania. Podkreśl w wyrazach ś oraz si.

Mama niesie świeże jajka.

Jaś jest śpiochem, a Ada nie.

Basia ma siedem lat.

KARTA:

Z KLASY:



3 Napisz po śladzie.

Ś Ś Ś Ś Ś Ś Ś Ś Ś Ś Ś Ś Ś Ś Ś

ś ś ś ś ś ś ś ś ś ś ś ś ś ś ś

ś ś ś ś ś ś ś ś ś ś ś ś ś ś ś

Si Si Si Si Si Si Si Si Si Si Si

si si si si si si si si si si si

si si si si si si si si si si si

4 Wpisz brakujące litery **ś**, **si** w odpowiednich miejscach.
Przeczytaj wyrazy.

redni

miały

lny

liski

odło

edzi



KARTA:

Z KLASY:

5 Odczytaj, jakie to wyrazy. Zapisz je w liniach.

Si

atka

lnik

tko


Ś

redni

winka

limak

6 Dokończ rysunek.




KARTA:

Z KLASY:



Jajko mądrzejsze od kury

1 Dokończ ozdabianie mazurka.



2 Oblicz i zapisz wyniki.

$$9 - 3 = \begin{array}{|c|c|c|c|c|c|} \hline & & & & & \\ \hline & & & & & \\ \hline \end{array}$$

$$3 + 5 = \begin{array}{|c|c|c|c|c|c|} \hline & & & & & \\ \hline & & & & & \\ \hline \end{array}$$

$$8 - 1 = \begin{array}{|c|c|c|c|c|c|} \hline & & & & & \\ \hline & & & & & \\ \hline \end{array}$$

$$7 + 3 = \begin{array}{|c|c|c|c|c|c|} \hline & & & & & \\ \hline & & & & & \\ \hline \end{array}$$

$$10 - 0 = \begin{array}{|c|c|c|c|c|c|} \hline & & & & & \\ \hline & & & & & \\ \hline \end{array}$$

$$0 + 7 = \begin{array}{|c|c|c|c|c|c|} \hline & & & & & \\ \hline & & & & & \\ \hline \end{array}$$




KARTA:

Z KLASY:

**1** Rozwiąż krzyżówkę. Odczytaj i przepisz hasło.

1. Opowiada na przykład o Kopciuszku.
2. Zielone warzywo z dużymi liśćmi. Jajko chciało je udawać.
3. Potrawa, którą smaży się z jajek na patelni. Może być na przykład ze szczypiorkiem.
4. Mama jajka.
5. Najlepiej pić jej 2 litry dziennie.



Hasło: _____

2 Policz, ile liter i ile głosek ma najdłuższy wyraz w krzyżówce. Zapisz wynik i wstaw odpowiedni znak.

litery

--

głoski

