



KARTA:

Z KLASY:

Czym jest dla nas przyroda?

- 1 Otocz pętlą na obrazkach z zadania 1 elementy, w których nazwach występuje dwuznak **rz**.

Rz rz



rzeka

- 2 Podkreśl w zdaniach dwuznak **rz**.

Wisła jest najdłuższą rzeką Polski.

Polskie morze to Bałtyk.

Przyrodę trzeba chronić.



KARTA:

Z KLASY:

3 Napisz po śladzie dwuznaki **Rz, rz**.

Rz Rz Rz Rz Rz Rz Rz Rz Rz Rz Rz

rz rz rz rz rz rz rz rz rz rz rz rz

Rz rz Rz rz Rz rz Rz rz Rz rz Rz rz

4 Wpisz brakujący dwuznak **rz**. Odczytaj wyrazy. Czy widzisz jakąś zasadę?

p___yroda g___yb d___azga
 wie___ba
 k___ew p___ygoda

5 Pokoloruj rysunek według legendy, a dowiesz się, gdzie lubią jeździć Ada i Jaś.

- 1 -
- 2 -
- 3 -
- 4 -
- 5 -
- 6 -





KARTA:

Z KLASY:



Czym jest dla nas przyroda?

- 1 Jeżeli informacja jest prawdziwa, połącz ją z wyrazem TAK.
Jeżeli jest nieprawdziwa, połącz ją z wyrazem NIE.

W lesie można głośno krzyżeć.

W parku narodowym chodzi się po wyznaczonych ścieżkach.

Na plaży można zostawiać śmieci.

TAK

W morzu można się kąpać nawet wtedy, gdy jest sztorm.

NIE

Las to dobre miejsce do wykopywania głębokich dołów.

W parku narodowym można zrywać tylko kwiaty.



KAPITAŁ LUDZKI
NARODOWA STRATEGIA SPÓJNOŚCI



OŚRODEK
ROZWOJU
EDUKACJI



UNIA EUROPEJSKA
EUROPEJSKI
FUNDUSZ SPOŁECZNY



KARTA:

Z KLASY:



Czym jest dla nas przyroda?

Zadanie:

Ania zbiera żabki. Miała ich 10. Na urodziny dostała 3 nowe.
Ile żabek ma Ania teraz?

Można zamienić na:

- Ania miała 3 żabki. Dostała 10 nowych. Ile ma teraz żabek?
lub
- Ania ma 13 żabek. Na urodziny dostała 3 żabki. Ile żabek miała Ania przed urodzinami?
lub
- Ania ma 13 żabek. Przed urodzinami miała 10 żabek.
Ile żabek dostała Ania na urodziny?

1 Ułóż zadanie do jednego z działań. Następnie zamień je tak jak w przykładzie.

$$10 + 4$$

$$10 + 5$$

$$10 + 6$$

$$10 + 7$$

$$10 + 8$$

$$10 + 9$$






KARTA:

Z KLASY:

2 Ułóż zadanie do rysunków. Zapisz pytanie.











KARTA:

Z KLASY:

3 Zaznacz na osiach następujące liczby:

- większe od 14.



- mniejsze od 5.



- większe od 11,
ale mniejsze od 16.



- jednocyfrowe.




- takie, których cyfrą
jedności jest 7.



- takie, których cyfry po
dodaniu są równe 5.



4 Co mają wspólnego te dwa obrazki?



Praca
domowa



KARTA:

Z KLASY:





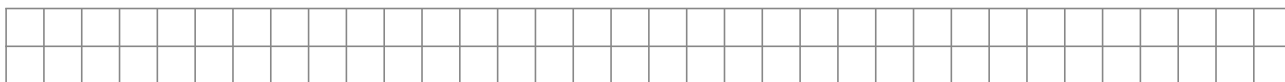

1 Dokończ pisanie dwuznaków **Rz**, **rz**.

Rz

Rz

rz

2 Ułóż zadania do obrazków. Zapisz obliczenia.



Razem
z Rodzicami



Porozmawiaj z rodzicami o tym, co myślą o przyrodzie.
Co jest dla nich w przyrodzie najważniejsze?



KAPITAŁ LUDZKI
NARODOWA STRATEGIA SPÓJNOŚCI



OŚRODEK
ROZWOJU
EDUKACJI



UNIA EUROPEJSKA
EUROPEJSKI
FUNDUSZ SPOŁECZNY

