

KARTA:

Z KLASY:



Polska leży w Europie

- 1 Przeczytaj tekst. Podkreśl wyrazy zapisane wielką literą. Zapisz ten wyraz, który jest nazwą państwa.

Polska leży w Europie.

Polska należy do Unii Europejskiej.

Unia Europejska ma swoją flagę i hymn.

Stolicą Unii jest Bruksela.

- 2 Przepisz uważnie. Zapisz, ile liter jest w każdym wyrazie i wstaw odpowiedni znak.

Unia Europejska

- 3 Napisz po śladzie. Podkreśl wielkie litery.

Niemcy

Czechy

Belgia

Francja

Litwa

Słowacja





KARTA:

Z KLASY:

- 4 Oblicz. Następnie zapisz wyniki od najmniejszego do największego.

$20 \text{ kg} - 2 \text{ kg} =$

 $6 \text{ kg} + 11 \text{ kg} =$

$13 \text{ kg} + 3 \text{ kg} =$

 $17 \text{ kg} - 4 \text{ kg} =$

$19 \text{ kg} - 5 \text{ kg} =$

 $4 \text{ kg} + 8 \text{ kg} =$

--	--	--	--	--	--	--	--

- 5 Otocz pętlą w swoim ulubionym kolorze szalkę, na której znajdują się lżejsze przedmioty.



- 6 Napisz w kratkach, ile ważą zakupy na każdej wadze. Połącz strzałkami wagi z jednakowymi wynikami.





KARTA:

Z KLASY:

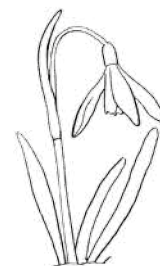





Sprawdzian

- 1 Otocz czerwonymi pętlami rysunki przedstawiające obiekty, w których nazwie występuje **ż**. Otocz niebieskimi pętlami rysunki przedstawiające obiekty, w których nazwie występuje **rz**.



- 2 Pokoloruj kwiaty, które zakwitają wiosną.



- 3 Uzupełnij zdania podanymi wyrazami.

życia, Księżyc, zimno, Słońce, ciepło, mycia

Kiedy przychodzi wiosna, zaczyna być

.....

coraz mocniej grzeje.

Przyroda budzi się do



KARTA:

Z KLASY:



4 Połącz nazwy z odpowiednimi obrazkami.

energia wiatru

energia słoneczna

energia wodna



5 Połącz strzałkami śmieci z odpowiednimi pojemnikami.





KARTA:

Z KLASY:



- 1 Pokoloruj na mapie Europy Polskę. Napisz, na jakim kontynencie leży nasz kraj.



- 2 Policz na mapie z zadania 1, z iloma krajami sąsiaduje Polska. Zapisz wynik.

- 3 Napisz, co jest większe: Polska czy Europa.

