



KARTA: .....

Z KLASY: .....

## Bezpieczne wakacje

- 1 Pokoloruj **TAK**, jeżeli informacja jest prawdziwa, lub **NIE**, jeżeli jest nieprawdziwa.

W czasie wakacji można się kąpać w każdej rzece i w każdym jeziorze.

TAK

NIE

Podczas burzy najlepiej jest się schronić pod drzewem.

TAK

NIE

Nie wolno się bawić na placu budowy.

TAK

NIE

W górach można chodzić, gdzie się chce.

TAK

NIE

Trąbę powietrzną można oglądać z balkonu.

TAK

NIE

Do wody należy skakać z pomostu.

TAK

NIE

W lesie nie można się oddalać od rodziców.

TAK

NIE

W czasie upałów należy pić więcej wody niż zazwyczaj.

TAK

NIE



KARTA: .....

Z KLASY: .....

2 Wpisz w prostokąty pod samochodami odpowiednie numery ratunkowe.



[Empty box for emergency number]

[Empty box for emergency number]

[Empty box for emergency number]

3 Wpisz na wyświetlaczu telefonu uniwersalny numer alarmowy.



4 Dokończ zdania.

W czasie wakacji można się kąpać

\_\_\_\_\_

\_\_\_\_\_

\_\_\_\_\_

\_\_\_\_\_

Nie powinno się długo opalać, ponieważ

\_\_\_\_\_

\_\_\_\_\_

\_\_\_\_\_

\_\_\_\_\_

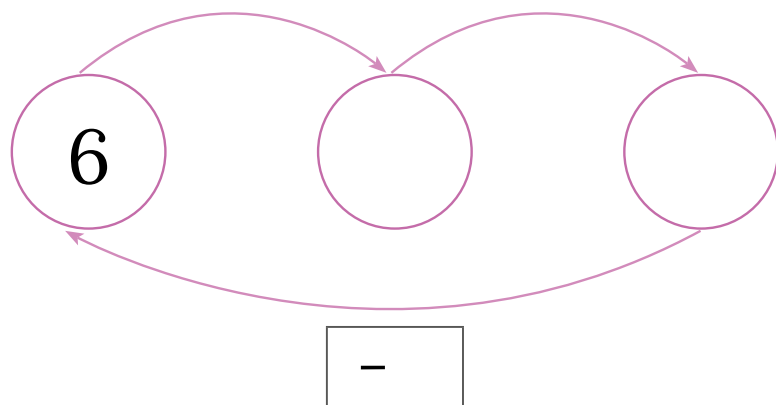
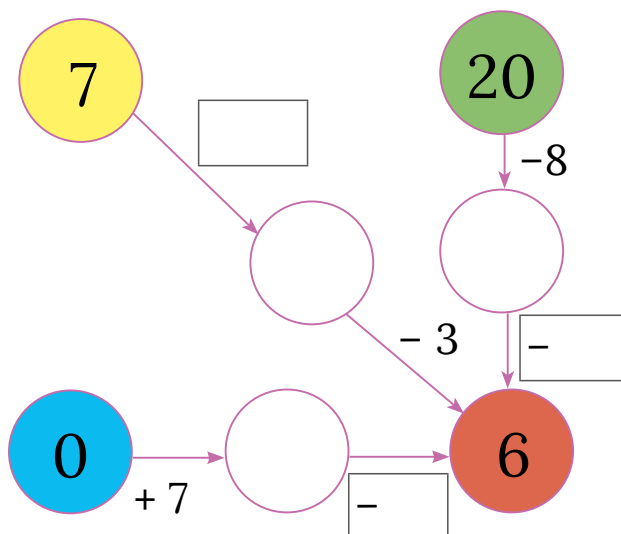
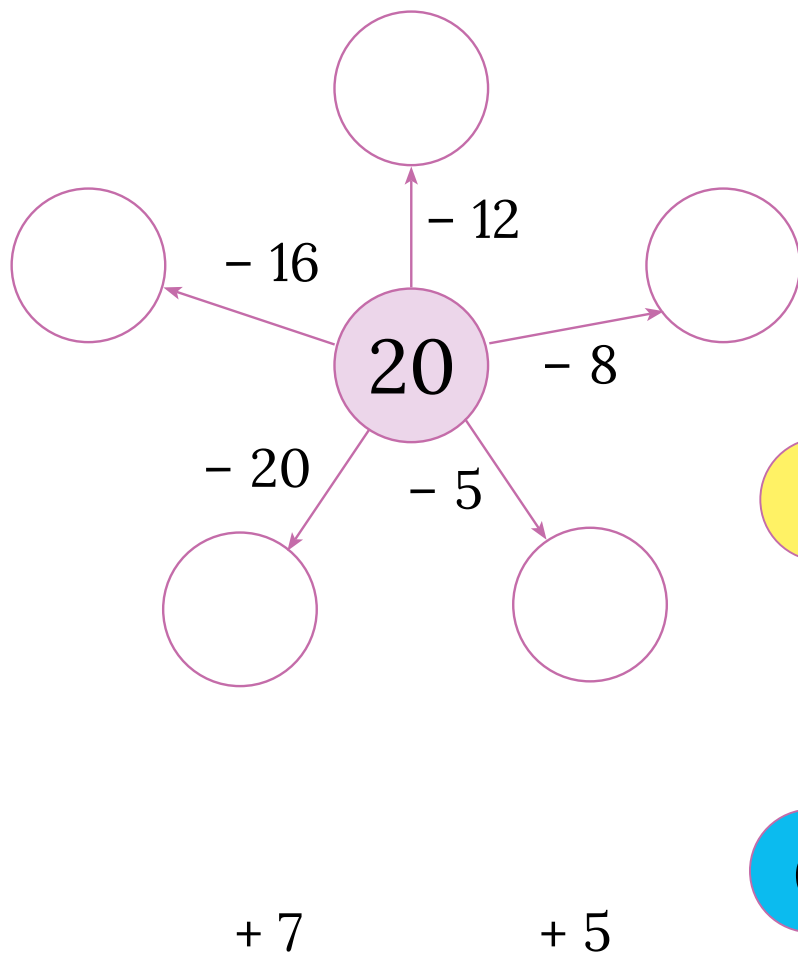


KARTA: .....

Z KLASY: .....

## Bezpieczne wakacje

1 Uzupełnij grafy odpowiednimi liczbami.

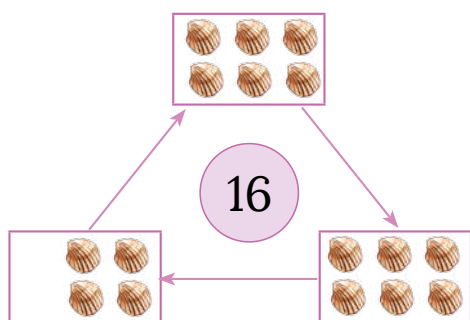


KARTA: .....

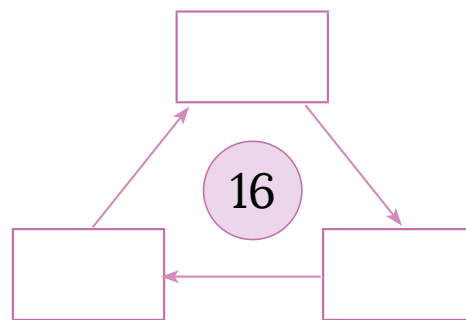
Z KLASY: .....



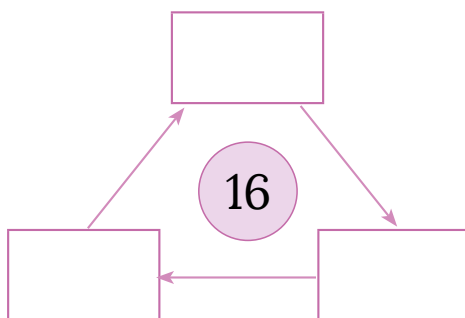
2 Uzupełnij według wzoru.



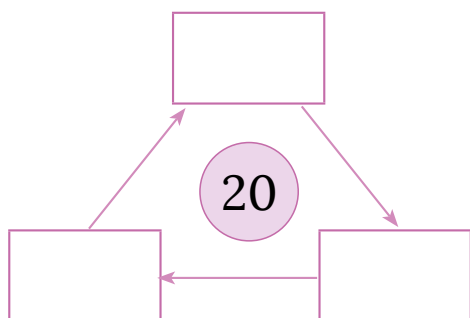
$$16 = 4 + 6 + 6$$



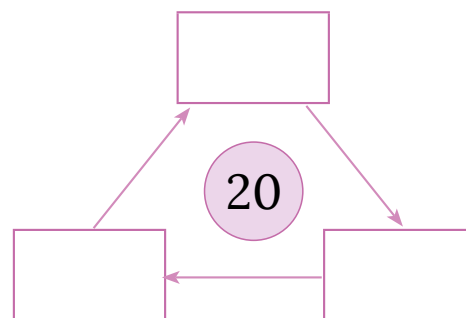
$$16 = \quad + \quad + \quad$$



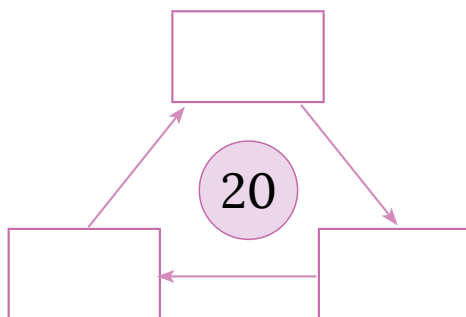
$$16 = \quad + \quad + \quad$$



$$20 = \quad + \quad + \quad$$



$$20 = \quad + \quad + \quad$$



$$20 = \quad + \quad + \quad$$





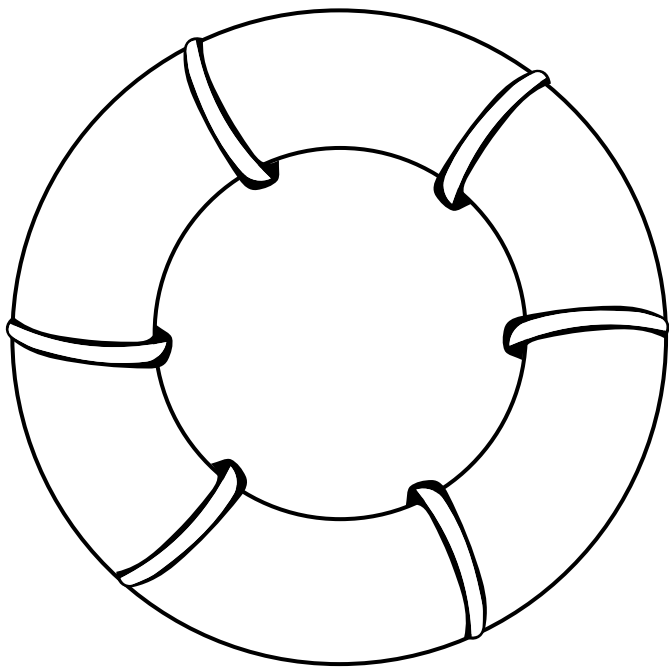


KARTA: .....

Z KLASY: .....



1 Pokoloruj koło ratunkowe. Napisz, gdzie znajdują się koła ratunkowe na co dzień.



Handwriting practice lines consisting of alternating blue and pink horizontal lines.

