


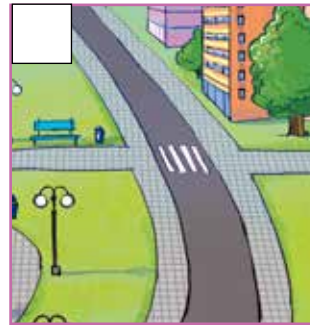



KARTA: .....

Z KLASY: .....

## Skrzyżowanie ulic

1 Wstaw X przy ilustracjach przedstawiających skrzyżowanie ulic.



2 Uzupełnij tabelę odpowiednimi symbolami znaków drogowych.



I.



II.



III.



IV.



V.



VI.



VII.

Znaki ostrzegawcze	Znaki zakazu	Znaki nakazu	Znaki informacyjne

3 Napisz, którą stroną drogi należy chodzić, jeżeli nie ma chodnika.

---



---



---



KAPITAŁ LUDZKI  
NARODOWA STRATEGIA SPÓJNOŚCI



OŚRODEK  
ROZWOJU  
EDUKACJI



UNIA EUROPEJSKA  
EUROPEJSKI  
FUNDUSZ SPOŁECZNY



KARTA: .....

Z KLASY: .....



## Skrzyżowanie ulic

- 1 Zapisz wnioski dotyczące bezpiecznego poruszania się po drogach.

---

---

---

---

---

---

---

---

---

---

- 2 Wykreśl sylaby: **ga, de, ry, po, lu, ki**, a dowiesz się, jak nazywa się zestaw przepisów drogowych. Zapisz nazwę w liniach.

GAKDEORYDPOELUKKISGADDERRYOPOGLUOKIWGAY

---

---

---

---

---

---

---

---

---

---

- 3 Uzupełnij tekst podanymi wyrazami.

pojazdów, jezdnię, kodeksu, dorośli, drogach

Ruch na \_\_\_\_\_ jest coraz większy. Ulicami jeździ

dużo \_\_\_\_\_. Dzieci i \_\_\_\_\_ muszą bardzo

uwagać. Nie wolno wbiegać na \_\_\_\_\_. Wszyscy powinni

przestrzegać zasad \_\_\_\_\_ drogowego.

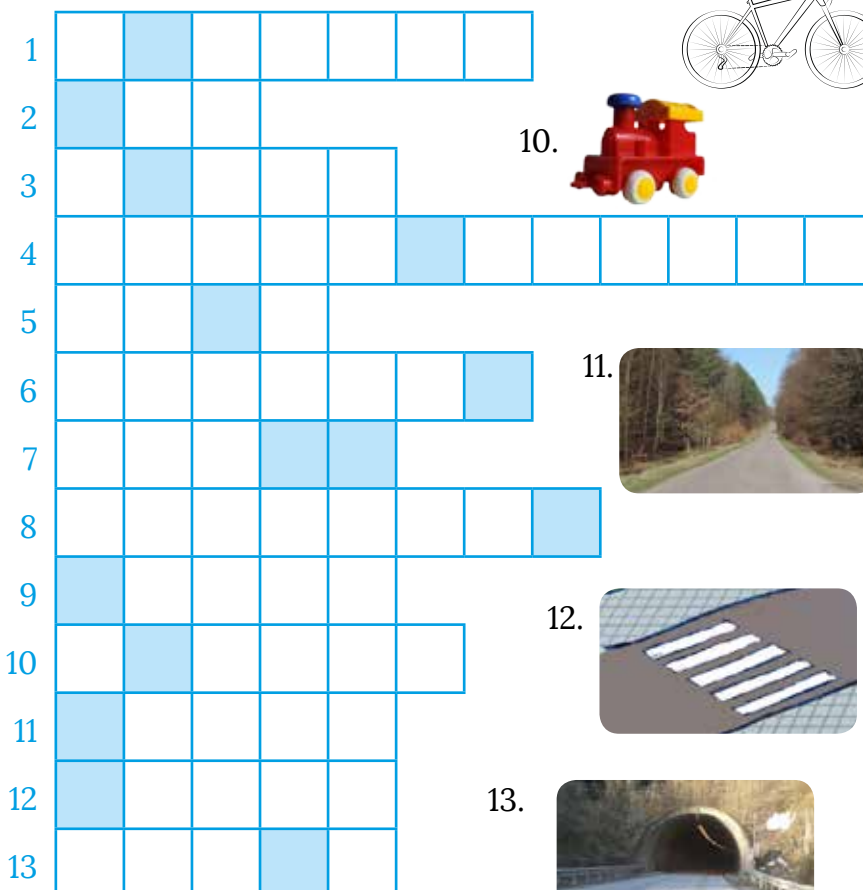
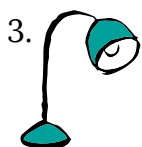




KARTA: .....

Z KLASY: .....

4 Rozwiąż krzyżówkę. Odgadnij hasło.



Hasło: \_\_\_\_\_

5 Zapisz wyrazy w kolejności alfabetycznej. Podkreśl ten wyraz, który ma najwięcej liter.

znak, droga, światła, kodeks, tory

\_\_\_\_\_

\_\_\_\_\_

\_\_\_\_\_



KARTA: .....

Z KLASY: .....

## Skrzyżowanie ulic


- 1 Napisz pod każdym kołem „Stój!”, a pod każdym kwadratem – „Jedź!”.



---

---


---



---

---

---



---

---


---



---

---


---



---

---


---



---

---

---



Ma trzy boki.

Ma wszystkie boki równe.




Ma wszystkie boki równe i nie jest kwadratem.



KARTA: .....

Z KLASY: .....

2 Wytnij figury i opisy z poprzedniej strony. Wklej je w odpowiednich miejscach tabeli.

FIGURA	OPIS
	Nie ma żadnego boku.
	
	Ma dwa boki dłuższe i dwa krótsze.
	
	Ma cztery boki. Każdy bok może mieć inną długość.
	




KARTA: .....

Z KLASY: .....

3 Policz wszystkie znaki i wszystkie samochody znajdujące się na obrazku. Wpisz odpowiednie liczby.









4 Skreśl czerwoną kredką co trzecią liczbę, a niebieską kredką te liczby, w których występuje 3.

1	2	<del>3</del>	4	5	<del>6</del>	7	8	9	10
11	12	13	14	15	16	17	18	19	20

