

KARTA:

Z KLASY:



Zawsze dbam o bezpieczeństwo swoje i innych

- 1 Przeczytaj uważnie tekst opowiadania. Zwróć uwagę na znaki przestankowe.

Powrót ze zbiórki

Tomek od roku należał do zuchów. Bardzo lubił zbiórki swego zastępu. Szczególnie podobały mu się wyjazdy na łono natury. Często wtedy cały zastęp nocował gdzieś u gospodarzy i można było poznać nowych ludzi oraz ich zwyczaje.

Tego dnia wracali właśnie z wyprawy do lasu, na której rozpoznawali różne gatunki drzew i tropy zwierząt. Bawili się wspaniale, dopóki nie popsła się pogoda. Zaczął wiać silny wiatr, zrobiło się chłodno i zbierało się na deszcz. Zastępowy Waldek zdecydował, że muszą szybko wrócić do miejsca noclegu.

Droga powrotna biegła wzdłuż lasu, czasami przejeżdżał nią jakiś samochód. Tomek z innymi chłopakami szedł w wyznaczonym kierunku. Zaczęło padać, więc przyspieszyli kroku. Nagle Tomek zwrócił uwagę, że idą niewłaściwą stroną jezdni. Zastępowy przyznał mu rację i dzieci szybko przeszły na lewą stronę drogi. W ostatniej chwili! Z tyłu właśnie nadjechał samochód, który tak źle wszedł w zakręt, że aż wjechał trochę na pobocze z prawej strony! Strach pomyśleć, co by się mogło stać, gdyby zuchy były wtedy po niewłaściwej stronie drogi!



KARTA:

Z KLASY:



2 Zapisz krótkie odpowiedzi na pytania.

- Kto od roku należał do zuchów?
- Gdzie zwykle nocował zastęp podczas wyjazdów?
- Dlaczego zuchy musiały wracać do miejsca noclegu?
- Kto przyznał Tomkowi rację?

3 Uzupełnij zasady bezpiecznego zachowania właściwymi wyrazami.

wycieczki, tramwaju, drodze, szkole

Nie biegaj po _____! W czasie _____

nie oddalaj się od grupy! Bądź uważny na _____!

W autobusie lub _____ trzymaj się poręczy!

4 Zamień dwa zdania rozkazujące z zadania 3 na zdania oznajmujące.



KAPITAŁ LUDZKI
NARODOWA STRATEGIA SPÓJNOŚCI



OŚRODEK
ROZWOJU
EDUKACJI



UNIA EUROPEJSKA
EUROPEJSKI
FUNDUSZ SPOŁECZNY



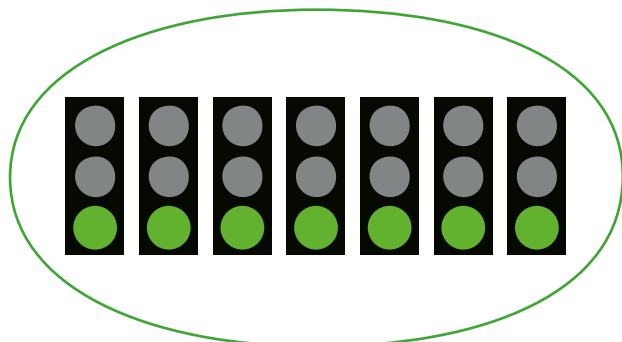



KARTA:


Z KLASY:


Zawsze dbam o bezpieczeństwo swoje i innych

1 Policz, ile jest elementów w czerwonej pętli, ile jest elementów w zielonej pętli, a ile – w obu pętlach.













KARTA:
 Z KLASY:

Zawsze dbam o bezpieczeństwo swoje i innych

1 Wytnij tytuły, a następnie wklej je nad odpowiednimi plakatami.

- Egzotyczne zwierzęta!
- Pokazy karmienia zwierząt!
- Park linowy!
- Tańsze bilety dla rodzin!

ZAJĘCIA:
 KAŻDY WTOREK I CZWARTEK,
 GODZ. 17.00.

Przyjdź
 i przekonaj się sam,
 jak jest fajnie!

W rolach głównych
 Ewelina Drozd i Bartosz Kosiński

Reżyseria: Tomasz Pająk

Scenariusz: Wioletta Maj

Muzyka: Adam i Ewa Skowrońscy

Dołącz do naszej drużyny!
 Eh, te dzieciaki! Pokaz premierowy
 Zapraszamy do ZOO!





KARTA:

Z KLASY:



1 Ponumeruj figury geometryczne od najmniejszej do największej, a otrzymasz hasło.

ko środ mu

ka ni ki cji

Hasło: _____

2 Zamień zdania oznajmujące na zdania rozkazujące.

Proszę, nie wchodź na tę górę.

Nie biegamy po lodowisku.

Trzeba by otworzyć okno.

