

KARTA:

Z KLASY:



Gniezno – pierwsza stolica Polski

1 Przeczytaj legendę o Gnieźnie.

Jak powstało Gniezno?

Dawno, dawno temu, w czasach, gdy ludzie oddawali cześć bogu o czterech twarzach – Świątowitowi – w słowiańskiej* osadzie** żyli trzej bracia. Jak się nazywali? Jeden – ten zawsze miły i szczerzy – Lech. Drugi – bardzo poważny i małomówny – Czech, a trzeci – ciągle brojący – Rus.

Chłopcy wyrosli na silnych wodzów. I tak jak każdy dobry wódz, chcieli, aby ich lud żył szczęśliwie i spokojnie. Dlatego pewnego dnia wyruszyli na poszukiwanie miejsca, gdzie mogliby założyć bezpieczne osady. Nikt się nie spodziewał, że Lech znajdzie odpowiednie miejsce na cichej i pięknej polanie, na końcu olbrzymiej puszczy. Tam właśnie bracia zatrzymali się, by odpocząć. Nagle Lech coś zauważył:

- Bracia, spójrzcie, jaki ogromny ptak – powiedział cicho, by nie spłoszyć zwierzęcia.
- Ma piękne, białe pióra – z podziwem powiedział Czech.
- Pewnie ma gniazdo na tym drzewie – Rus wskazał na dąb, pod którym stali, a który wyróżniał się spośród innych drzew wielkością.

Lech pomyślał, że skoro tak piękny i silny ptak wybrał to miejsce na swój dom, on także tu zostanie ze swoim ludem. Pożegnał się braćmi, którzy ruszyli w dalszą drogę.

Wokół dębu z gniazdem orła powstała w niedługim czasie osada, w której lud Lecha żył długo i szczęśliwie. Nazwano ją Gnieznom. Znasz tę nazwę, prawda?

* Słowianie – grupa ludów zamieszkujących przed wiekami duże obszary Europy.
 ** Osada – to inaczej gród, czyli miejsce obronne, w którym mieszkał niegdyś wódz ze swym ludem.



KARTA:

Z KLASY:



2 Zapisz w punktach wydarzenia omówione w legendzie.

1.

2.

3.

4.

5.

3 Podkreśl w legendzie nazwy odnoszące się do ludzi, a następnie zapisz je poniżej.

4 Połącz w pary.

Lech, Czech i Rus •

Lech •

orzeł •

• założył gród

• uwił gniazdo

• jechali konno





KARTA:

Z KLASY:

Gniezno – pierwsza stolica Polski

1 Oblicz.

$28 - 19 =$

$24 - 15 =$

$27 - 18 =$

$23 - 14 =$

$26 - 17 =$

$22 - 13 =$

$25 - 16 =$

$21 - 12 =$

2 Uzupełnij krzyżówkę. W każdą kratkę wpisz jedną cyfrę.

Poziomo:

$24 - 7 =$

$30 - 12 =$

$17 - 9 =$

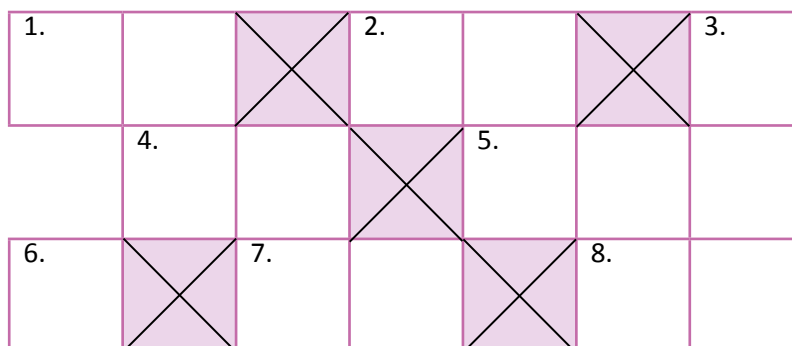
$15 + 8 =$

$6 + 11 =$

$4 + 5 =$

$26 - 13 =$

$21 - 0 =$





KARTA:

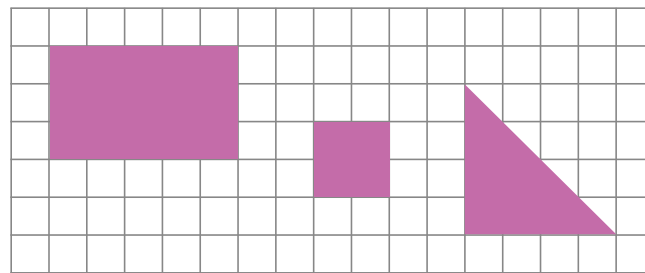
Z KLASY:

3 Znajdź i wykreśl w diagramie poznane do tej pory pojęcia. Pozostałe litery utworzą hasło. Zapisz je pod spodem.



B	R	S	U	M	A	A	W
R	Ó	Ż	N	I	C	A	O
S	K	Ł	A	D	N	I	K
J	O	D	J	E	M	N	A
E	S	T	E	Ś	W	I	E
O	D	J	E	M	N	I	K
L	K	L	I	T	R	I	!
K	I	L	O	G	R	A	M

4 Z ilu kraterek składają się wszystkie figury?



--	--	--	--	--	--	--	--	--	--	--	--	--	--	--	--	--	--	--	--

Odpowiedź:





KARTA:

Z KLASY:

- 5 Wykonaj obliczenia i wykreśl z tabelki uzyskane wyniki. Litery spod pozostałych liczb utworzą rozwiązanie. Zapisz je pod spodem.

$16 - 12 =$

$30 - 9 =$

$17 - 8 =$

$0 + 18 =$

$27 - 27 =$

$12 + 18 =$

$30 - 23 =$

$28 - 5 =$

$20 + 5 =$

$12 + 7 =$

$26 - 15 =$

4	15	9	0	7	14	25	22	16	11	21	17	5	18	30	1	23	19
U	G	M	I	E	N	M	I	E	Z	I	N	O	C	Z	R	Y	Ć

- 6 Uzupełnij kratki odpowiednimi liczbami.

1	6	11				
---	---	----	--	--	--	--

				7	9	11		
--	--	--	--	---	---	----	--	--

							18	21	24	
--	--	--	--	--	--	--	----	----	----	--

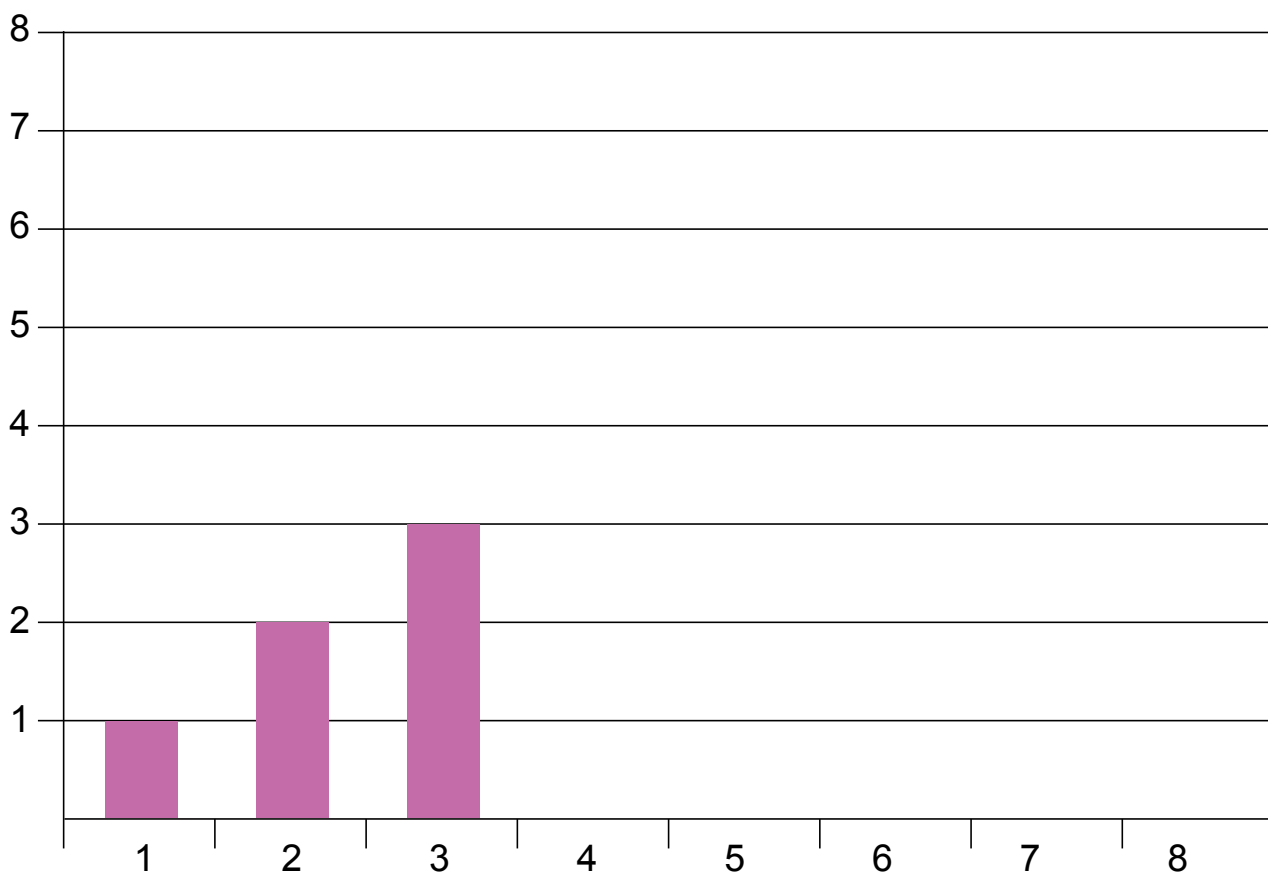


KARTA:

Z KLASY:



7 Dokończ rysowanie.






KARTA:

Z KLASY:



1 Przyporządkuj herby do odpowiednich nazw miast.



Warszawa

Kraków

Gniezno

2 Wyobraź sobie, że zakładasz miasto. Wymyśl dla niego nazwę i narysuj jego herb.

Nazwa miasta:

