



KARTA:

Z KLASY:



Tradycje świąteczne

- 1 Przeczytaj zdania. Następnie dorysuj każdej osobie przedmiot pokazujący, co należy do jej obowiązków przed świętami.

Rodzina Jasia spędza święta bardzo tradycyjnie. Dlatego wszyscy lubią się do nich przygotowywać. Mama Jasia przygotowuje wigilijne potrawy. Tata Jasia piecze makowca i kupuje choinkę. Starszy brat Jasia chodzi do sklepu, kiedy mama czegoś zapomni, a Jaś odkurza całe mieszkanie.



KARTA:

Z KLASY:



Tradycje świąteczne

1 Przeczytaj wiersz.

Pierwsza gwiazdka

Pierwsza gwiazdka, gdy zaświeci,
to choinkę stroją dzieci.
W wigilijny piękny czas
taki zwyczaj woła nas.



Już z opłatkiem w dłoni białym
stary z młodym, duży z małym
spiesz się chętny do spotkania –
to jest symbol pojednania.

Stół dziś dźwiga dań dwanaście.
Każdy tu swój talerz znajdzie –
biedny, smutny, zabłąkany
mile będzie dziś witany.



2 Napisz, jaki Twoim zdaniem jest nastrój wiersza.

Wiersz ma nastrój _____ .














KARTA:

Z KLASY:



3 Podkreśl w wierszu wszystkie rymy.

4 Odczytaj i zapisz zakodowane wyrazy. Ułóż z nimi zdania i zapisz je w zeszycie.

												
a	d	e	ę	f	i	m	o	r	s	ś	t	w



1.

2.

3.

5 Zapisz wyrazy według wzoru.

książka – księga

każę – _____

mężny – _____

pieniązek – _____

pobłażać – _____

skażenie – _____



KARTA:

Z KLASY:

- 4 Liczbę kraterów w prostokącie można policzyć tak: $4 + 4 + 4 = 12$.



Oblicz w podobny sposób liczbę kraterów w narysowanych poniżej prostokątach.

