

KARTA:

Z KLASY:



Kraina wiecznego lodu

1 Uzupełnij.

_____ Alina i Czesław Centkiewiczowie

Tytuł: _____

Bohaterowie: _____

2 W pobliżu którego z biegunów rozgrywa się akcja „Zaczarowanej zagrody”? Wskaż ten biegun na globusie strzałką i wpisz jego nazwę.



3 Otocz czerwoną pętlą na globusie z zadania 2 Antarktydę i Arktykę.



KAPITAŁ LUDZKI
NARODOWA STRATEGIA SPÓJNOŚCI



OŚRODEK
ROZWOJU
EDUKACJI



UNIA EUROPEJSKA
EUROPEJSKI
FUNDUSZ SPOŁECZNY





KARTA:

Z KLASY:

4 Połącz wyrazy z odpowiednimi wyjaśnieniami.

kontynent

Zakładanie ptakom specjalnych obrączek, dzięki którym można lepiej poznać życie ptaków.

stacja badawcza

Duży obszar lądowy, który jest otoczony ze wszystkich stron wodami mórz i oceanów.

obrączkowanie

Miejsce, w którym prowadzi się badania naukowe.

5 Zapisz nazwy kontynentów w kolejności alfabetycznej.

6 Podkreśl w zadaniu 5 nazwę kontynentu, na którym leży Polska.



KAPITAŁ LUDZKI
NARODOWA STRATEGIA SPÓJNOŚCI



OŚRODEK
ROZWOJU
EDUKACJI



UNIA EUROPEJSKA
EUROPEJSKI
FUNDUSZ SPOŁECZNY

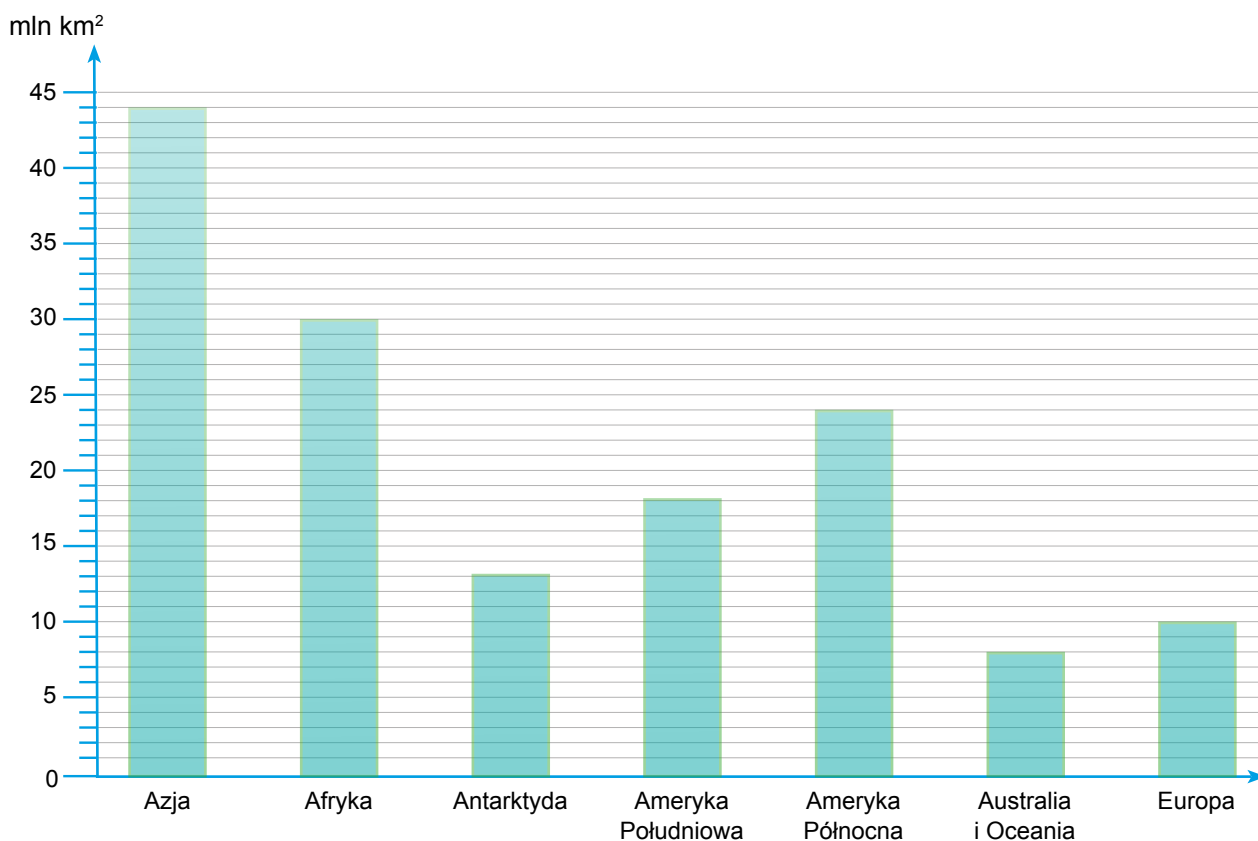


KARTA:

Z KLASY:



- 7 Na wykresie pokazano, jak duże są kontynenty. Najwyższy słupek oznacza największy kontynent, a najniższy słupek – najmniejszy kontynent. Ponumeruj słupki od najmniejszego do największego kontynentu.



- 8 Skreśl w tabeli niepotrzebne wyrazy.

Charakterystyka Antarktydy

najmniejszy kontynent na Ziemi	TAK / NIE
kontynent zamieszkały przez ludzi	TAK / NIE
temperatura powietrza przez cały rok	WYSOKA / NISKA
opady atmosferyczne	DESZCZ / ŚNIEG



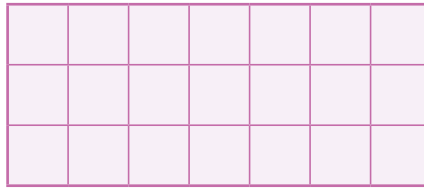
KARTA:

Z KLASY:

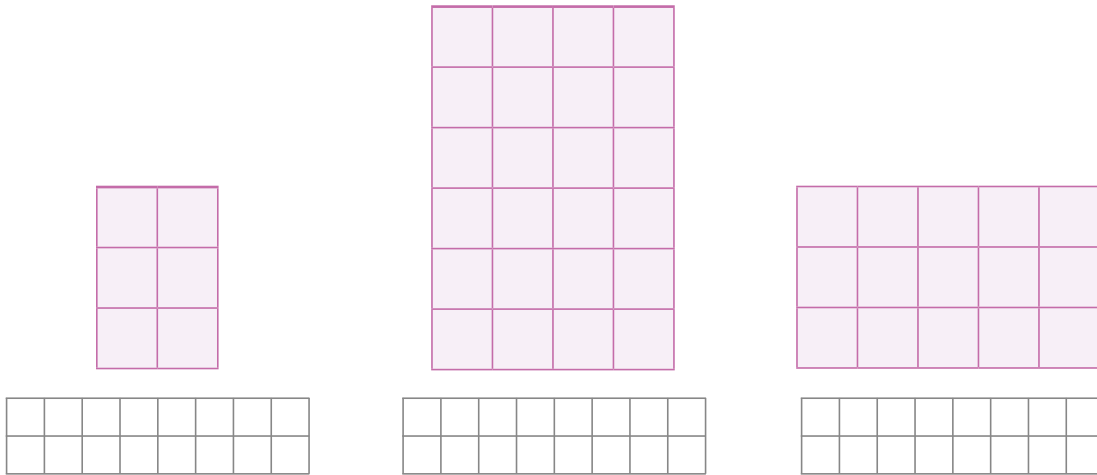
Kraina wiecznego lodu

- 1 Oblicz liczbę kratek, z których składają się prostokąty, dwoma sposobami: przez mnożenie i dodawanie.

Przykład:




$$7 + 7 + 7 = 21 \quad \text{lub} \quad 3 \cdot 7 = 21$$



- 2 Narysuj prostokąty, które składają się z:

- 14 kratek,
- 8 kratek,
- 9 kratek.





KARTA:

Z KLASY:

3 Narysuj kropki według opisu. Potem oblicz w pamięci, ile ich jest. Czy udało Ci się coś zauważyć?

3 rzędy po 2 kropki	2 rzędy po 3 kropki
2 rzędy po 5 kropek	5 rzędów po 2 kropki
4 rzędy po 3 kropki	3 rzędy po 4 kropki

4 Wpisz wyniki działań. Skorzystaj z tabeli.

$5 \cdot 6 = 30$	$7 \cdot 4 = 28$	$2 \cdot 4 = 8$	$4 \cdot 6 = 24$	$9 \cdot 2 = 18$	$3 \cdot 4 = 12$	$5 \cdot 4 = 20$	$2 \cdot 5 = 10$	$5 \cdot 3 = 15$	$6 \cdot 3 = 18$
------------------	------------------	-----------------	------------------	------------------	------------------	------------------	------------------	------------------	------------------

$$4 \cdot 7 = 7 \cdot 4 = 28$$

$5 \cdot 2 =$

--	--	--	--	--	--	--	--	--	--	--	--	--	--	--	--	--	--	--	--

$4 \cdot 2 =$

--	--	--	--	--	--	--	--	--	--	--	--	--	--	--	--	--	--	--	--

$3 \cdot 6 =$

--	--	--	--	--	--	--	--	--	--	--	--	--	--	--	--	--	--	--	--

$6 \cdot 4 =$

--	--	--	--	--	--	--	--	--	--	--	--	--	--	--	--	--	--	--	--

$6 \cdot 5 =$

--	--	--	--	--	--	--	--	--	--	--	--	--	--	--	--	--	--	--	--

$2 \cdot 9 =$

--	--	--	--	--	--	--	--	--	--	--	--	--	--	--	--	--	--	--	--

$3 \cdot 5 =$

--	--	--	--	--	--	--	--	--	--	--	--	--	--	--	--	--	--	--	--

$4 \cdot 3 =$

--	--	--	--	--	--	--	--	--	--	--	--	--	--	--	--	--	--	--	--

$4 \cdot 5 =$

--	--	--	--	--	--	--	--	--	--	--	--	--	--	--	--	--	--	--	--





KARTA:

Z KLASY:

Razem
z Rodzicami

1

Zagrajcie w grę „Elegancik i spółka”.

Zasady:

- I. Grę zaczyna najmłodszy zawodnik.
- II. Czerwone pola oznaczają, że trzeba się cofnąć o 2 pola.
- III. Zielone pola oznaczają, że trzeba się przesunąć o 2 pola do przodu.
- IV. Jeżeli gracz stanie na polu ze ?, losuje jedną z karteczek i odpowiada na zapisane na niej pytanie. Jeżeli odpowie poprawnie, zyskuje dodatkowy rzut kostką. Jeżeli odpowie niepoprawnie, traci jeden rzut.

Uwaga: Przed rozpoczęciem gry wytnijcie karteczki i ułóżcie je pytaniami do dołu. Przygotujcie pionki i kostkę do gry.

Jak nazywała się stacja badawcza, w której pracował profesor z „Zaczarowanej zagrody”?

Jak nazywali się pomocnicy profesora?

Po co profesor chciał zaobrączkować pingwiny?

W jaki sposób pingwinki uciekły z zagrody?

Jak profesor nazwał pingwinka z czarną łatką?

Jakie zwierzę zagrażało pingwinom i fokom?



Praca
domowa



KARTA:

Z KLASY:



The graphic features a central image of a penguin on a snowy landscape. Surrounding this is a circular path of question marks and colored circles (red, green, blue) leading from a blue circle labeled 'START' to a pink circle labeled 'META'.



KAPITAŁ LUDZKI
NARODOWA STRATEGIA SPÓJNOŚCI



OŚRODEK
ROZWOJU
EDUKACJI



UNIA EUROPEJSKA
EUROPEJSKI
FUNDUSZ SPOŁECZNY

