





KARTA:

Z KLASY:

Zimowa olimpiada sportowa



- 1 Przerysuj koła olimpijskie według wzoru.



- 2 Rozpoznaj dyscypliny sportowe przedstawione na piktogramach. Zaprojektuj własny piktogram do dowolnej dyscypliny.



KAPITAŁ LUDZKI
NARODOWA STRATEGIA SPÓJNOŚCI



OŚRODEK
Rozwoju
EDUKACJI



www.ager.press.pl

UNIA EUROPEJSKA
EUROPEJSKI
FUNDUSZ SPOŁECZNY





KARTA:

Z KLASY:

Zimowa olimpiada sportowa

- 1 Ułóż z rozsypanki literowej hasło. Wyjaśnij, jak je rozumiesz.

OPSRT OT RDEOIZW

Rozwiązanie: _____

- 2 Połącz nazwy dyscyplin sportowych z odpowiednimi rysunkami.

skoki narciarskie



łyżwiarstwo figurowe



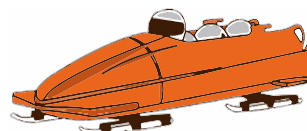
biegi narciarskie



saneczkarstwo



snowbord



hokej





KARTA:

Z KLASY:



3 Spośród podanych cech wybierz i zapisz na schemacie te, którymi powinien odznaczać się sportowiec.

brawura, uroda, cierpliwość, odporność, upór, siła, wytrwałość, ambicja, gadatliwość, spryt, szybkość



4 Zaproponuj kilka pytań do wywiadu ze znanym sportowcem.

Jaki _____ ?

Gdzie _____ ?

Ile _____ ?

Dlaczego _____ ?

Co _____ ?

5 Uzupełnij według wzoru. Podkreśl w wyrazach **rz** i **r**.

wzgórze – górski

dworzec – _____

orzeł – _____

chorzy – _____

starzec – _____

mędrzec – _____



KAPITAŁ LUDZKI
NARODOWA STRATEGIA SPÓJNOŚCI



OŚRODEK
ROZWOJU
EDUKACJI



UNIA EUROPEJSKA
EUROPEJSKI
FUNDUSZ SPOŁECZNY





KARTA:

Z KLASY:



Zimowa olimpiada sportowa

- 1** Na zimowej olimpiadzie wystartowało 30 łyżwiarzy. Tworzyli oni 6 drużyn liczących tyle samo zawodników. Ilu łyżwiarzy było w jednej drużynie? Wykonaj prosty rysunek i zapisz obliczenia. Sprawdź, czy udało Ci się dobrze policzyć.

$$30 : 6 = \begin{array}{|c|c|c|c|} \hline & & & \\ \hline & & & \\ \hline \end{array}$$

- 2** Połowa z 30 łyżwiarzy wystartowała w zawodach w brązowych łyżwach. Ilu to było łyżwiarzy?

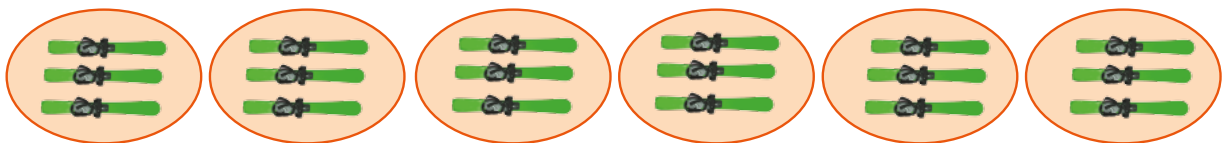
- 3** Wykonaj działania, a następnie połącz je z odpowiednimi rysunkami.



$$18 : 3 = \begin{array}{|c|c|c|c|} \hline & & & \\ \hline & & & \\ \hline \end{array}$$

$$14 : 7 = \begin{array}{|c|c|c|c|} \hline & & & \\ \hline & & & \\ \hline \end{array}$$

$$24 : 6 = \begin{array}{|c|c|c|c|} \hline & & & \\ \hline & & & \\ \hline \end{array}$$





Praca domowa



KARTA:

Z KLASY:

Razem z Rodzicami



Wyszukajcie informacje o tym, gdzie i kiedy odbędą się najbliższe zimowe igrzyska olimpijskie.

1

Najbliższe zimowe igrzyska olimpijskie odbędą się

Handwriting practice lines for the answer to question 1.

Razem z Rodzicami



Poproś rodziców, aby pomogli Ci połączyć zawodników z uprawianymi przez nich dyscyplinami sportowymi.

2

Justyna Kowalczyk

Kamil Stoch

Zbigniew Bródka

Wojciech Fortuna

Adam Małysz

Katarzyna Bachleda-Curuś

Katarzyna Woźniak

Tomasz Sikora

biegi narciarskie

skoki narciarskie

łyżwiarstwo szybkie

biathlon



KAPITAŁ LUDZKI
NARODOWA STRATEGIA SPÓJNOŚCI



OŚRODEK
ROZWOJU
EDUKACJI



UNIA EUROPEJSKA
EUROPEJSKI
FUNDUSZ SPOŁECZNY

