

KARTA:

Z KLASY:




Łyżwiarstwo i jazda na łyżwach


1 Dopisz wyrazy pokrewne do wyrazu **łyżwy**.

łyżwy – _____, _____,
_____, _____


2 Narysuj obrazki do historyjki zgodnie z opisami.




1. Ada i Jaś umawiają się na łyżwy.



2. Na lodowisku Jaś uczy Adę jazdy na łyżwach.



3. Ada i Jaś biorą udział w szkolnych zawodach w łyżwiarstwie.



4. Ada wygrywa zawody.



KARTA:

Z KLASY:



3 Nadaj tytuły poszczególnym wydarzeniom z historyjki.

1.

2.

3.

4.

4 Ułóż opowiadanie z rozsypanki zdaniowej z punktu widzenia Ady. Przepisz zdania we właściwej kolejności.

- Wkrótce razem ścigaliśmy się na lodowisku.
- Warto było potrenować.
- Wygrałam w szkolnych zawodach.
- Wczoraj umówiliśmy się z Jasiem, że pójdziemy na łyżwy.
- Od dziś lubię łyżwiarstwo.
- Jaś mnie uczył, a ja szybko robiłam postępy.





KARTA:

Z KLASY:

5 Uzupełnij tabelę, wpisując nazwy obiektów przedstawionych na ilustracjach.



Rzeczowniki

nazwy osób	nazwy roślin	nazwy zwierząt	nazwy rzeczy

KARTA:

Z KLASY:



3 Oblicz.

$$\cdot 2 \begin{array}{|c|c|c|c|c|} \hline 2 & 4 & & 8 & \\ \hline & & 12 & & 20 \\ \hline \end{array} : 2$$

$$+ 2 \begin{array}{|c|c|c|c|c|} \hline 2 & 4 & & 8 & \\ \hline & & 8 & & 12 \\ \hline \end{array} - 2$$

4 Przeanalizuj tabelę, a następnie uzupełnij tekst.

Wyniki par biorących udział w zawodach w łyżwiarstwie figurowym:

Para	Zdobyte punkty
z Czech	4
z Niemiec	6
z Polski	5
z Rosji	5

W zawodach w łyżwiarstwie figurowym wzięły udział pary

z _____, _____, _____

i _____.

Zawody wygrała para z _____, która otrzymała za swój występ _____ punktów.

Pary z _____ i _____ otrzymały po _____ punktów.

Najmniej punktów otrzymała para z _____.



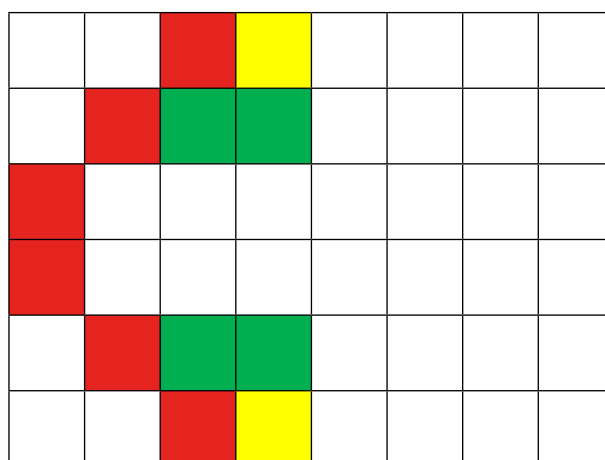
KARTA:

Z KLASY:

5 Zamaluj pola z wynikami większymi od 12.

$18 : 2$	$1 \cdot 3$	$3 \cdot 4$	$12 : 4$	$0 \cdot 4$
$6 : 2$	$2 \cdot 7$	$20 : 2$	$25 : 5$	$4 \cdot 2$
$15 : 5$	$3 \cdot 8$	$3 \cdot 2$	$7 \cdot 4$	$12 \cdot 1$
$14 : 2$	$5 \cdot 6$	$5 \cdot 5$	$3 \cdot 3$	$3 \cdot 1$
$8 \cdot 1$	$8 \cdot 2$	$2 \cdot 3$	$10 : 2$	$1 \cdot 4$
$10 : 5$	$30 : 2$	$9 \cdot 2$	$4 \cdot 6$	$16 : 2$
$9 : 3$	$16 : 8$	$8 : 4$	$7 \cdot 1$	$10 \cdot 1$

6 Dokończ rysunek.





KARTA:

Z KLASY:



- 1 Przeczytaj tekst. Podkreśl w nim wyrazy, w których występuje **ż**.

Łyżwiarstwo figurowe to sport dla wytrwałych. Aby je uprawiać, należy zacząć ćwiczyć, kiedy ma się kilka lat. Treningi odbywają się wczesnie rano. Potem małe dzieci idą do przedszkola, a starsze – do szkoły. Zawody odbywają się w różnych kategoriach. Są zawody dla dzieci, dla młodzieży i dla dorosłych.

- 2 Ułóż 2 zdania z wyrazami podkreślonymi w zadaniu 1 i napisz je starannie.

- 3 W łyżwiarstwie synchronicznym do utworzenia jednej figury potrzebnych jest 18 zawodników. Dzielą się oni na 3 grupy po tyle samo osób, a następnie ustawiają w figurę geometryczną o 3 bokach. Narysuj tę figurę i przy każdym boku zapisz, z ilu zawodników się on składa.