

KARTA:

Z KLASY:



Poznajemy tradycje i obrzędy wielkanocne w Polsce

- 1 Odczytaj z mapy nazwy krain geograficznych Polski. Następnie pokoloruj mapę zgodnie z legendą.



KARTA:

Z KLASY:



- 2 Przeczytaj tekst. Wypisz z niego nazwy wymienionych w nim regionów Polski.

Tradycje wielkanocne w różnych częściach Polski

W różnych regionach Polski panują różne zwyczaje wielkanocne. Na przykład na Kaszubach rankiem w niedzielę wielkanocną chodzi się nad strumień, rzekę lub jezioro, aby obmyć się z grzechów i chorób. W lany poniedziałek natomiast nikt nie leje wody, tylko chłopcy smagają dziewczęta po nogach gałązkami jałowca. Na Kujawach niegdyś w lany poniedziałek chłopcy smagali dziewczęta wierzbowymi witkami lub polewali wodą, a następnego dnia – dziewczęta oblewały chłopców! Tradycyjne wielkanocne pisanki na Kaszubach i Kujawach to kraszanki, czyli jajka w jednym kolorze. Na Śląsku natomiast pisanki są bogato zdobione. Bardzo ważną sprawą jest ich kolor. Kolor czerwony oznacza miłość, a kolor zielony – nadzieję. Jeżeli chłopak otrzyma od dziewczyny żółtą pisanekę, oznacza to, że dziewczyna go nie chce.

- 3 Podkreśl w tekście odpowiednimi kolorami fragmenty dotyczące:

a) śmigusa-dyngusa.

b) wielkanocnych pisanek.




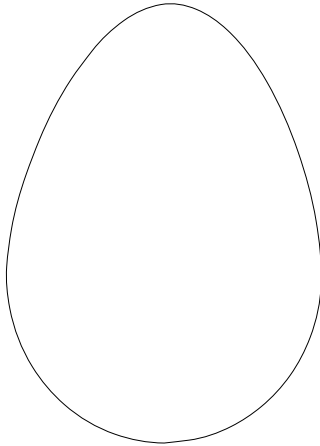
KARTA:

Z KLASY:

4 Pokoloruj śląskie pisanki tak, aby wyrażały opisane uczucia.

Mam nadzieję, że mnie polubisz.

Bardzo cię kocham, Mamo!



5 Połącz ramki, które do siebie pasują.

święta
stałe

święta
ruchome

Są to święta, które co roku
są w innym terminie.

Boże
Narodzenie

Wielkanoc

Są to święta, które każdego roku
przypadają w tym samym terminie.



6 Napisz, który z wielkanocnych zwyczajów podoba Ci się najbardziej i dlaczego.



KARTA:

Z KLASY:

- 3 Rodzice Jasia robią zakupy na świąteczne przyjęcie. Które wędliny należy zdjąć, żeby na wadze pozostał 1 kg szynki, 1 kg kiełbasy i 1 kg pasztetu? Skreśl te wędliny.



- 4 Popatrz uważnie na ilustrację i uzupełnij zdania.



Maku jest o dag _____ niż cukru.

Cukru jest o _____ niż maku.

KARTA:

Z KLASY:



5 Do sklepu dostarczono 20 kg jabłek i o 8 kg więcej ziemniaków.

- Ile ważą ziemniaki?

Odpowiedź:

- Sprzedano już 9 kilogramów jabłek. Ile kilogramów jabłek zostało w sklepie?

Odpowiedź:

6 Oblicz.

Jeżeli cukrowy zajaczek waży 20 dag, to 5 zajaczków waży .




Praca domowa









KARTA:

Z KLASY:

1 Pokoloruj rysunek zgodnie z wynikami działań.



- 23 - 
- 50 - 
- 17 - 
- 66 - 
- 48 - 
- 34 - 



KAPITAŁ LUDZKI
NARODOWA STRATEGIA SPÓJNOŚCI



OŚRODEK
ROZWOJU
EDUKACJI



UNIA EUROPEJSKA
EUROPEJSKI
FUNDUSZ SPOŁECZNY

