



KARTA: .....

Z KLASY: .....

## Z kart historii....

1 Opisz flagę Unii Europejskiej.



Handwriting lines for describing the flag.

2 Pokoloruj na mapie Europy obszary tych państw, które należą do Unii Europejskiej.



KAPITAŁ LUDZKI  
NARODOWA STRATEGIA SPÓJNOŚCI



OŚRODEK  
ROZWOJU  
EDUKACJI



UNIA EUROPEJSKA  
EUROPEJSKI  
FUNDUSZ SPOŁECZNY



KARTA: .....

Z KLASY: .....



## Z kart historii

1 Wykreśl co drugą sylabę, odczytaj i zapisz hasło.

U	KA	NIA	KA	E
KA	U	KA	RO	KA
PEJ	KA	SKA		

---



---



---

2 Określ liczbę podanych rzeczowników.

kraje – liczba mnoga

państwo – \_\_\_\_\_

hymn – \_\_\_\_\_

stolice – \_\_\_\_\_

obszar – \_\_\_\_\_

flagi – \_\_\_\_\_

statuetki – \_\_\_\_\_

waluta – \_\_\_\_\_

języki – \_\_\_\_\_



KARTA: .....

Z KLASY: .....



- 3 Uzupełnij odpowiednimi literami nazwy państw Unii Europejskiej i ich stolic.

iszpania – adryt

itwa – ilno

rancja – aryż

iemcy – erlin

olska –

łochy – zym

- 4 Wypisz informacje na temat wybranego kraju Unii Europejskiej.

Kraj: \_\_\_\_\_

Powierzchnia: \_\_\_\_\_

Ludność: \_\_\_\_\_

Język: \_\_\_\_\_

Waluta: \_\_\_\_\_

#### Młody naukowiec

- 5 Który kraj Unii Europejskiej podoba Ci się najbardziej pod względem kultury? Uzasadnij swoją odpowiedź.

\_\_\_\_\_

\_\_\_\_\_

\_\_\_\_\_

\_\_\_\_\_

\_\_\_\_\_

\_\_\_\_\_

\_\_\_\_\_







KARTA: .....

Z KLASY: .....



3 Wpisz w kratki odpowiednie liczby.

$24 + \begin{array}{|c|c|c|c|} \hline & & & \\ \hline & & & \\ \hline & & & \\ \hline & & & \\ \hline \end{array} = 76$


$\begin{array}{|c|c|c|c|} \hline & & & \\ \hline & & & \\ \hline & & & \\ \hline & & & \\ \hline \end{array} + 31 = 85$

$59 - \begin{array}{|c|c|c|c|} \hline & & & \\ \hline & & & \\ \hline & & & \\ \hline & & & \\ \hline \end{array} = 43$


$\begin{array}{|c|c|c|c|} \hline & & & \\ \hline & & & \\ \hline & & & \\ \hline & & & \\ \hline \end{array} - 45 = 98$

4 Oblicz obwody figur na podstawie rysunków.

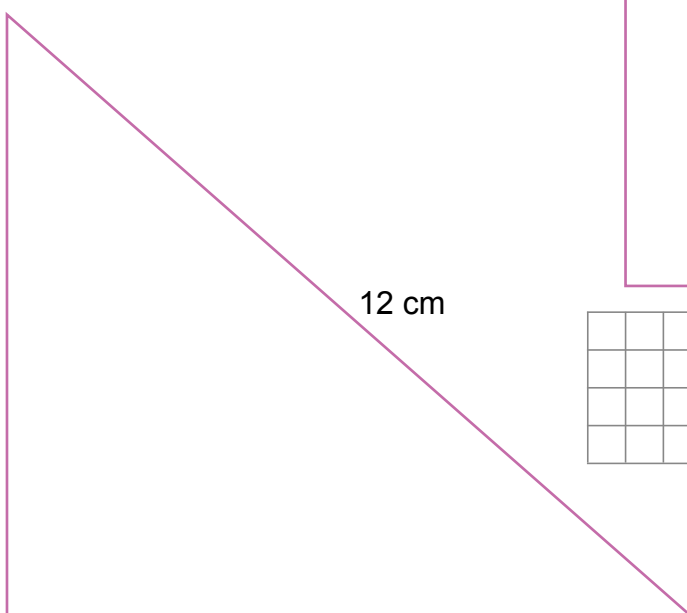
6 cm




7 cm



8 cm



9 cm





KARTA: .....

Z KLASY: .....



5 Przeczytaj informacje. Napisz, jakiego zmysłu dotyczy każda z nich.

Dzięki temu zmysłowi możesz obserwować ptaki i inne zwierzęta.

.....

Zmysł ten sprawia, że czujesz, czy coś jest chropowate, czy gładkie.

.....

Dzięki temu zmysłowi możesz słuchać swojej ulubionej muzyki.

.....

Zmysł ten pozwala Ci odczuć, co jest gorzkie, a co słodkie.

.....

Jest to zmysł, dzięki któremu poczujesz zapach dymu przy ognisku.

.....

6 Przeczytaj tekst. Napisz imię i nazwisko opisanego w nim odkrywcy.

Ten odkrywca był żeglarzem.  
Chciał odkryć drogę do Indii,  
a dotarł aż do Ameryki.

Był to .....



KARTA: .....

Z KLASY: .....

**1** Uzupełnij wyrazy brakującymi literami **ó** lub **u**.r  da wiewi  rkap  ste p  dełkor  żowa s  kienkadł  gi samoch  dż  łta r  żap  szysty kr  likd  że k  łko**2** Uzupełnij tabelkę

17	
67	
87	
47	
27	
57	
7	
37	

+ 13