



KARTA: .....

Z KLASY: .....



### 3 Uzupełnij wyrazy brakującymi literami.

Mama got  je.Tata mal  je.Dziecko dzięk  je.Babcia haft  je.Dziadek pielęgn  je.Turysta wędr  je.

### 4 Uzasadnij pisownię wyrazów.

mierzy – bo \_\_\_\_\_

pierce – bo \_\_\_\_\_

starzec – bo \_\_\_\_\_

marzec – bo \_\_\_\_\_

dworze – bo \_\_\_\_\_

orzeł – bo \_\_\_\_\_

ubierze – bo \_\_\_\_\_

skórze – bo \_\_\_\_\_

### 5 Uzupełnij zdania właściwymi wyrazami.

Kasia jest moją najlepszą \_\_\_\_\_ .

Jaś zjadł za dużo słodyczy i boli go \_\_\_\_\_ .

Latem słońce mocno \_\_\_\_\_ .

Między lekcjami jest \_\_\_\_\_ .

Przed domem rośnie wysokie \_\_\_\_\_ .





KARTA: .....

Z KLASY: .....

## Wyczaruję dla mamy...

- 1 Jak myślisz, czym są ekonomiczne zakupy? Napisz, kiedy można użyć takiego wyrażenia.

---



---



---



---



---

- 2 Wykonaj polecenia.

- Porównaj ceny z listy zakupów z tymi, które są na paragonie. Wyższe ceny podkreśl na zielono.

### Lista zakupów:







- dżem – 4 zł
- woda mineralna – 1,50 zł
- sok pomidorowy – 4 zł
- groszek – 1,90 zł
- chleb – 2 zł
- jabłka – 2,30 zł

Sklep spożywczy KA  
40-007 Katowice ul. Uniwersytecka 1  
2015-05-31 1011291  
**PARAGON FISKALNY**

dżem	3,45 zł
woda mineralna	1,20 zł
sok pomidorowy	4,12 zł
groszek	1,60 zł
chleb	2,50 zł
jabłka	2,00 zł

-----  
Sprzed. opodatk. A  
Kwota PTU A 22 %  
ŁĄCZNA KWOTA PTU  
**SUMA**  
-----  
Gotówka  
Reszta  
0360 #Kasa 3 Kasjer nr 131  
RET 04104507  
Nr sys.: 782

- Oblicz, o ile różni się wartość planowanych zakupów od zrobionych zakupów.

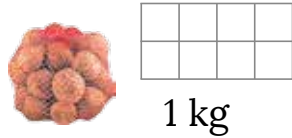
																																												
<table border="1"><tr><td> </td><td> </td><td> </td><td> </td><td> </td><td> </td><td> </td><td> </td></tr></table>									<table border="1"><tr><td> </td><td> </td><td> </td><td> </td><td> </td><td> </td><td> </td><td> </td></tr></table>									<table border="1"><tr><td> </td><td> </td><td> </td><td> </td><td> </td><td> </td><td> </td><td> </td></tr></table>									<table border="1"><tr><td> </td><td> </td><td> </td><td> </td><td> </td><td> </td><td> </td><td> </td></tr></table>									<table border="1"><tr><td> </td><td> </td><td> </td><td> </td><td> </td><td> </td><td> </td><td> </td></tr></table>								
																																												
<table border="1"><tr><td> </td><td> </td><td> </td><td> </td><td> </td><td> </td><td> </td><td> </td></tr></table>									<table border="1"><tr><td> </td><td> </td><td> </td><td> </td><td> </td><td> </td><td> </td><td> </td></tr></table>									<table border="1"><tr><td> </td><td> </td><td> </td><td> </td><td> </td><td> </td><td> </td><td> </td></tr></table>									<table border="1"><tr><td> </td><td> </td><td> </td><td> </td><td> </td><td> </td><td> </td><td> </td></tr></table>									<table border="1"><tr><td> </td><td> </td><td> </td><td> </td><td> </td><td> </td><td> </td><td> </td></tr></table>								





KARTA: .....

Z KLASY: .....

**3** Oblicz ceny produktów, znając wartość zakupów.

8,16 zł

8 szt



1 szt



6 zł

6 szt



1 szt

**4** Połącz pojęcie z pasującym do niego opisem.**reszta**

To, ile coś jest warte.

**wartość**

Suma pieniędzy, którą wydasz na zapłacenie za coś.

**koszt**

Pieniądze, które otrzymasz, jeżeli dasz przy kasie więcej pieniędzy, niż wynosi należność.

**5** Ola zrobiła zakupy potrzebne do gotowania obiadu dla 4 osób. Zapłaciła za nie 36 zł. Ile będzie kosztował obiad dla jednej osoby?

--	--	--	--	--	--	--	--	--	--	--	--	--	--	--	--	--	--	--	--	--	--	--

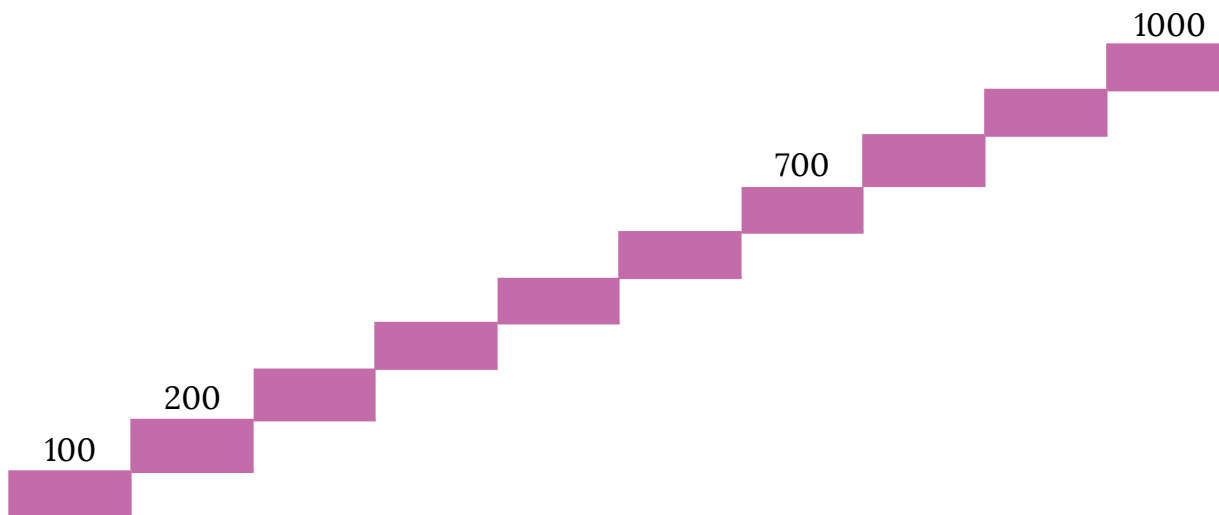
Odpowiedź:



KARTA: .....

Z KLASY: .....

6 Dopisz brakujące liczby.



7 Oblicz.

$57 + 32 =$ 

--	--	--	--	--	--

$29 + 76 =$ 

--	--	--	--	--	--

$73 - 45 =$ 

--	--	--	--	--	--

$25 : 5 =$ 

--	--	--	--	--	--

$21 : 7 =$ 

--	--	--	--	--	--

$6 \cdot 3 =$ 

--	--	--	--	--	--

$8 \cdot 3 =$ 

--	--	--	--	--	--

$7 \cdot 6 =$ 

--	--	--	--	--	--

$85 - 23 =$ 

--	--	--	--	--	--

$91 - 17 =$ 

--	--	--	--	--	--

$38 + 42 =$ 

--	--	--	--	--	--

$67 - 29 =$ 

--	--	--	--	--	--

$9 \cdot 2 =$ 

--	--	--	--	--	--

$35 : 5 =$ 

--	--	--	--	--	--

$48 : 8 =$ 

--	--	--	--	--	--

$56 + 19 =$ 

--	--	--	--	--	--

