



KARTA:

Z KLASY:

Koncert z kwiatuszkiem i z serduszkiem w tle

1 Odgadnij zagadkę. Zapisz rozwiązanie w liniach.

Dziś obchodzę święto ważne,
powiem głośno wiersz poważny,
pieśń zaśpiewam uroczyście
To _____, oczywiście!

2 Napisz, jakie są ulubione zajęcia Twojej mamy.

3 Wypisz nazwy czynności, które najczęściej wykonuje Twoja mama.



KARTA:
Z KLASY:

- 4 Uzupełnij nazwiska córek swoich mam według wzoru. Podkreśl końcówki.

Adamczyk – Adamczykówna

Litwińczyk – _____

Józwiak – _____

Kowalczyk – _____

Dominiak – _____

Dmitruk – _____

- 5 Dokończ zdania.

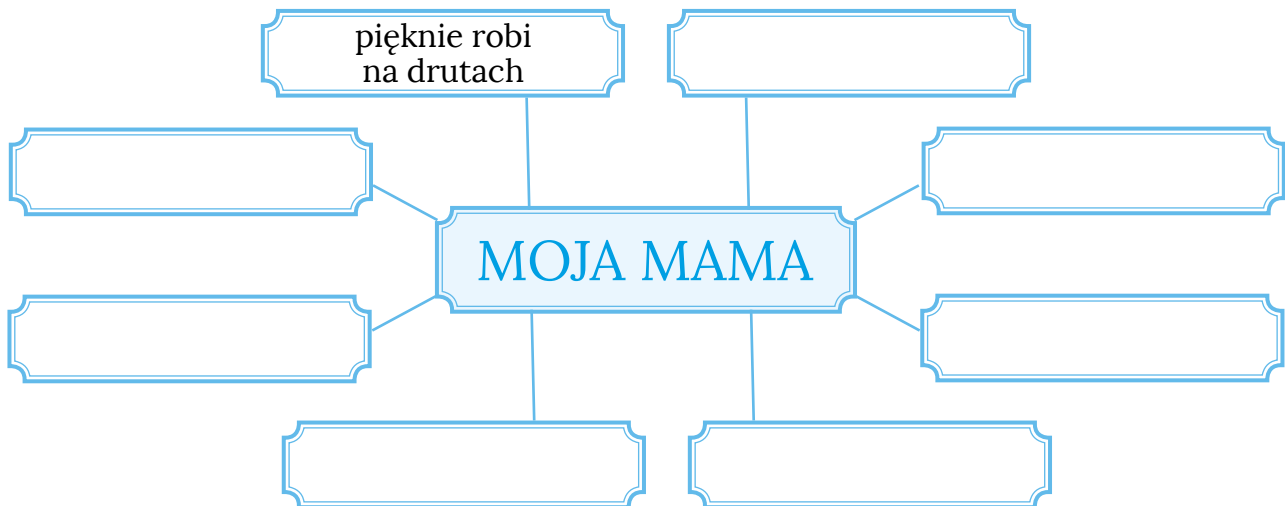
Moja mama lubi _____ .

Cenię i szanuję ją za _____ .

Pomogę jej _____ .

W przyszłości _____ .

- 6 Dopisz kilka skojarzeń związanych z Twoją mamą.






KARTA:

Z KLASY:

Koncert z kwiatusem i z serduszkem w tle

- 1 Policz za pomocą mnożenia i dodawania, ile jest elementów na wszystkich rysunkach.





- 2 Dzieci przygotowały dla swoich mam ciasteczka. Mamy podzieliły je równo pomiędzy wszystkich członków rodziny. Po ile ciastek dostaną członkowie rodzin składających się z:

- 3 osób.

--	--	--	--	--	--	--	--	--	--	--	--	--	--	--	--	--	--	--	--	--
- 4 osób.

--	--	--	--	--	--	--	--	--	--	--	--	--	--	--	--	--	--	--	--	--
- 6 osób.

--	--	--	--	--	--	--	--	--	--	--	--	--	--	--	--	--	--	--	--	--
- 8 osób.

--	--	--	--	--	--	--	--	--	--	--	--	--	--	--	--	--	--	--	--	--



KARTA:

Z KLASY:



3 Oblicz.

$6 \cdot 8 =$

 $4 \cdot 9 =$

 $8 \cdot 2 =$

$50 : 5 =$

 $35 : 7 =$

 $20 : 1 =$

$7 \cdot 3 =$

 $5 \cdot 3 =$

$42 : 6 =$

 $28 : 4 =$

4 Ułóż w zeszycie zadania do działań. Rozwiąż działania.

$4 \cdot 7 =$

$45 : 9 =$

5 Przekształć zadania tak, aby otrzymać zadanie na mnożenie. Zapisz je w zeszycie.

- W klasie Jacka jest 27 uczniów. Dzieci siedzą w trzech rzędach po tyle samo osób w rzędzie. Ile osób siedzi w każdym rzędzie?
- Pizzę najczęściej dzieli się na 8 kawałków. Ile pizz należy zamówić dla 32 osoby?

6 Skreśl błędne części zadań. Następnie zapisz te części poprawnie.

- W pięciu gwiazdozbiorach jest po 6 gwiazd. Ile jest ufoludków we wszystkich gwiazdozbiorach?

- Jedna ciężarówka może mieć 10 kół. Ile lusterek ma 5 ciężarówek?



KARTA:

Z KLASY:



Far, far north

- 1 Look, listen and read. Popatrz, przeczytaj i posłuchaj.



I live in Anchorage. It's in the far north. It's Alaska. We've got long winter and short summer.



KAPITAŁ LUDZKI
NARODOWA STRATEGIA SPÓJNOŚCI



OŚRODEK
ROZWOJU
EDUKACJI



UNIA EUROPEJSKA
EUROPEJSKI
FUNDUSZ SPOŁECZNY






KARTA:

Z KLASY:



2 Look, listen and repeat. Popatrz, posłuchaj i powtórz.



3 Look, say and complete the sentences. Popatrz, powiedz i uzupełnij zdania.



1. Portsmouth is in the _____
2. Liverpool is in the _____
3. York is in the _____
4. Grimsby is in the _____



KARTA:

Z KLASY:



1 Look and complete the sentences. Popatrz i uzupełnij zdania.



1. _____ is in the south.
2. _____ is in the north.
3. _____ is in the west.
4. _____ is in the east.

2 Where is your town? Gdzie znajduje się Twoja miejscowość? Poproś rodziców o pomoc, a następnie opisz jej położenie.

