



KARTA:

Z KLASY:

Przygody w Stumilowym Lesie

1 Zaznacz prawidłowe zakończenia zdań.

1. Sowa należy do

- A. ssaków.
- B. ptaków.
- C. owadów.

3. Króliki mają


- A. długie uszy i ostre zęby.
- B. krótkie uszy i ostre zęby.
- C. krótkie uszy i tępe zęby.

2. Kangury żyją w

- A. Afryce.
- B. Europie.
- C. Australii.

4. Niedźwiedzie zimują w

- A. dziuplach drzew.
- B. gawrach.
- C. gnieździe.





KARTA:

Z KLASY:

Przygody w Stumilowym Lesie

- 1 Maleństwo, Puchatek, Prosiaczek, Królik i Krzyś zbierali kwiaty na bukiet dla Mamy Kangurzycy. Okazało się, że każdy zerwał 7 kwiatków. Z ilu kwiatków składał się bukiet?

--	--	--	--	--	--	--	--	--	--	--	--	--	--	--	--	--	--	--	--	--	--	--

Odpowiedź:

- 2 Kubaś ustawił 18 baryłek miodu na 3 półkach (na każdej tyle samo baryłek). Ile baryłek stało na każdej półce?

--	--	--	--	--	--	--	--	--	--	--	--	--	--	--	--	--	--	--	--	--	--	--

Odpowiedź:

- 3 Uzupełnij kratki.

	· 3		
7	X		
	:		

KARTA:

Z KLASY:



4 Uzupełnij tabelki.

	$\cdot 4$	
0		
1		
2		
3		
4		
5		
6		
7		
8		
9		
10		
	$: 4$	

	$: 5$	
5		
10		
15		
20		
25		
30		
35		
40		
45		
50		
	$\cdot 5$	

	$+ 100$	
100		
200		
300		
400		
500		
600		
700		
800		
900		
	$- 100$	

5 Ułóż w zeszycie zadania do działań.

- $300 + 200$
- $800 - 600$
- $4 \cdot 8$
- $36 : 6$



KARTA:

Z KLASY:

- 6 Ile dni zostało do wakacji? Ile razy w tym czasie pójdziesz do szkoły?

CZERWIEC 2016

Pn	Wt	Śr	Czw	Pt	Sob	Nd
		1	2	3	4	5
6	7	8	9	10	11	12
13	14	15	16	17	18	19
20	21	22	23	24	25	26
27	28	29	30			

Odpowiedź:

Do wakacji

Do szkoły pójde jeszcze

- 7 Ile całych miesięcy upłynie do Twoich urodzin?

Odpowiedź:

- 8 Ile jeszcze całych miesięcy do Bożego Narodzenia?

Odpowiedź:



KARTA:

Z KLASY:

Round up

1 Look, complete and play. Popatrz, uzupełnij i zagraj.

<p>START</p>	 <p>The cinema is the shop and library</p>	 <p>She's</p>	 <p>.....</p>
 <p>He can</p>	 <p>.....</p>	 <p>I like</p>	 <p>She's got a</p>
 <p>He blue eyes.</p>	 <p>.....</p>	 <p>.....</p>	 <p>She's</p>
 <p>.....</p>	 <p>She swim.</p>	 <p>He a dog.</p>	 <p>She's</p>
 <p>I don't like</p>	 <p>The post office is the park.</p>	 <p>.....</p>	<p>META</p>






KARTA:

Z KLASY:




2 Look and write. Popatrz i napisz.



He _____ .

He _____ .

3 Look, count and write. Popatrz, policz i napisz.





KARTA:

Z KLASY:

Razem z Rodzicami



1

Ustalcie, na których kontynentach żyją niedźwiedzie, kangury, króliki i sowy. Potem uzupełnijcie mapę świata według legendy.



S – sowy

KR – króliki

K – kangury

N – niedźwiedzie

LEGENDA:



KAPITAŁ LUDZKI
NARODOWA STRATEGIA SPÓJNOŚCI



OŚRODEK
ROZWOJU
EDUKACJI



UNIA EUROPEJSKA
EUROPEJSKI
FUNDUSZ SPOŁECZNY

