

KARTA: .....

Z KLASY: .....



## „Jesień liścia Jasia”

1 Uzupełnij informacje dotyczące lektury „Jesień liścia Jasia”.

bohaterowie: \_\_\_\_\_

miejsce akcji: \_\_\_\_\_

czas akcji: \_\_\_\_\_

2 Wymień uczucia, które towarzyszyły Ci podczas czytania „Jesieni liścia Jasia”.

\_\_\_\_\_

\_\_\_\_\_

\_\_\_\_\_

\_\_\_\_\_

\_\_\_\_\_

\_\_\_\_\_

\_\_\_\_\_

3 Połącz terminy z odpowiednimi wyjaśnieniami.

opowieść

Szereg zdarzeń związanych z jednym bohaterem literackim.

dialog

Utwór literacki średnich rozmiarów, napisany prozą.

wątek

Rozmowa dwóch lub większej liczby osób.





KARTA: .....

Z KLASY: .....

### Młody naukowiec

4 Pomyśl, jakie etapy można wyróżnić w życiu człowieka. Opisz jeden z tych etapów.

Proponowane etapy:

Three horizontal lines for writing proposed stages.

Opis etapu:

Five horizontal lines for describing a stage.



5 Dobierz w pary i przepisz wyrazy podane w ramce.

nurek • marzec • pora • podwórko • na skórze • wierzyć •  
darzy • morze • zanurzyć • marcowy • w porze • podwórze •  
skóra • morski • dary • wiara.

Four horizontal lines for matching and writing words.



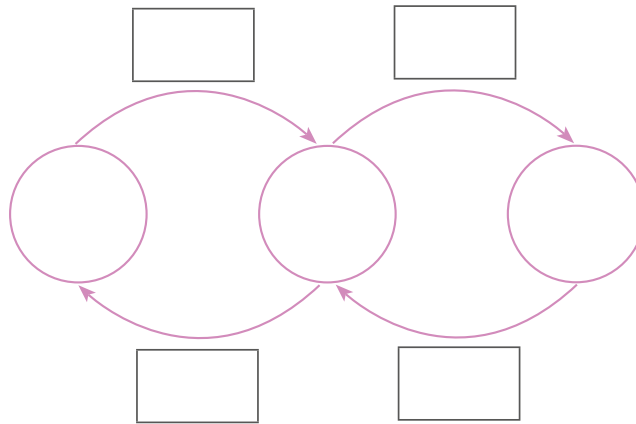


KARTA: .....

Z KLASY: .....

## „Jesień liścia Jasia”

- 1 Pewną liczbę zmniejszono o 4, a następnie wynik zwiększono o 8 i otrzymano 89. Co to za liczba? Zapisz działania w grafie i uzupełnij zdanie.



Szukana liczba to 

|  |  |
|--|--|
|  |  |
|  |  |

.

- 2 W bibliotece szkolnej zgromadzono 68 książek przyrodniczych i 32 książki historyczne. Uczniowie wypożyczyli 9 książek przyrodniczych i 7 książek historycznych. Ile książek przyrodniczych, a ile książek historycznych jest teraz w bibliotece?

|  |  |  |  |  |  |  |  |  |  |  |  |  |  |  |  |  |  |  |  |  |  |  |  |  |  |
|--|--|--|--|--|--|--|--|--|--|--|--|--|--|--|--|--|--|--|--|--|--|--|--|--|--|
|  |  |  |  |  |  |  |  |  |  |  |  |  |  |  |  |  |  |  |  |  |  |  |  |  |  |
|--|--|--|--|--|--|--|--|--|--|--|--|--|--|--|--|--|--|--|--|--|--|--|--|--|--|

Odpowiedź:

---



---



---





KARTA: .....

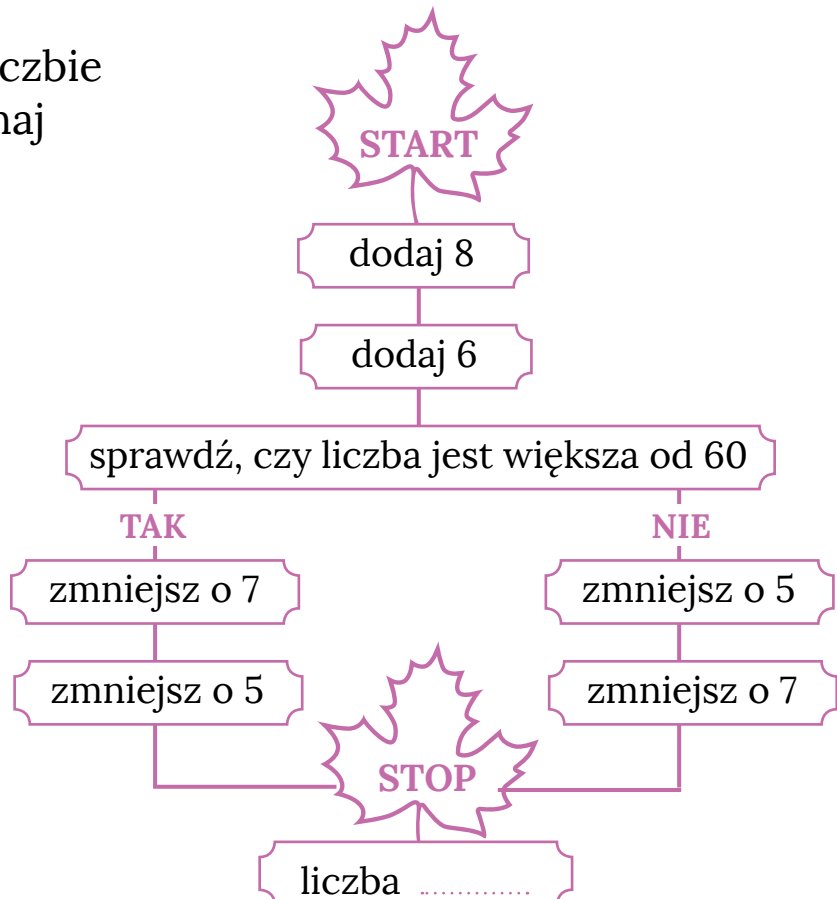
Z KLASY: .....

**3** Przeczytaj informacje i uzupełnij tabelę.

W pewnej szkole w klasach pierwszych uczy się 30 dziewcząt i 48 chłopców, a w klasach drugich – 75 uczniów, w tym 32 dziewczynki. W klasach trzecich uczy się 73 uczniów, w tym 27 chłopców.

| Klasy    | Liczba wszystkich uczniów  | Liczba dziewczynek | Liczba chłopców |  |  |  |  |  |  |  |  |  |  |  |  |  |  |  |  |  |  |  |  |  |  |  |  |  |  |  |  |  |  |  |  |  |  |  |  |
|----------|--|--------------------|-----------------|--|--|--|--|--|--|--|--|--|--|--|--|--|--|--|--|--|--|--|--|--|--|--|--|--|--|--|--|--|--|--|--|--|--|--|--|
| pierwsze | <table border="1"><tr><td></td><td></td><td></td><td></td><td></td><td></td></tr><tr><td></td><td></td><td></td><td></td><td></td><td></td></tr></table> |                    |                 |  |  |  |  |  |  |  |  |  |  | <table border="1"><tr><td></td><td></td><td></td><td></td><td></td><td></td></tr><tr><td></td><td></td><td></td><td></td><td></td><td></td></tr></table> |  |  |  |  |  |  |  |  |  |  |  |  | <table border="1"><tr><td></td><td></td><td></td><td></td><td></td><td></td></tr><tr><td></td><td></td><td></td><td></td><td></td><td></td></tr></table> |  |  |  |  |  |  |  |  |  |  |  |  |
|          |  |                    |                 |  |  |  |  |  |  |  |  |  |  |  |  |  |  |  |  |  |  |  |  |  |  |  |  |  |  |  |  |  |  |  |  |  |  |  |  |
|          |  |                    |                 |  |  |  |  |  |  |  |  |  |  |  |  |  |  |  |  |  |  |  |  |  |  |  |  |  |  |  |  |  |  |  |  |  |  |  |  |
|          |  |                    |                 |  |  |  |  |  |  |  |  |  |  |  |  |  |  |  |  |  |  |  |  |  |  |  |  |  |  |  |  |  |  |  |  |  |  |  |  |
|          |  |                    |                 |  |  |  |  |  |  |  |  |  |  |  |  |  |  |  |  |  |  |  |  |  |  |  |  |  |  |  |  |  |  |  |  |  |  |  |  |
|          |  |                    |                 |  |  |  |  |  |  |  |  |  |  |  |  |  |  |  |  |  |  |  |  |  |  |  |  |  |  |  |  |  |  |  |  |  |  |  |  |
|          |  |                    |                 |  |  |  |  |  |  |  |  |  |  |  |  |  |  |  |  |  |  |  |  |  |  |  |  |  |  |  |  |  |  |  |  |  |  |  |  |
| drugie   | <table border="1"><tr><td></td><td></td><td></td><td></td><td></td><td></td></tr><tr><td></td><td></td><td></td><td></td><td></td><td></td></tr></table> |                    |                 |  |  |  |  |  |  |  |  |  |  | <table border="1"><tr><td></td><td></td><td></td><td></td><td></td><td></td></tr><tr><td></td><td></td><td></td><td></td><td></td><td></td></tr></table> |  |  |  |  |  |  |  |  |  |  |  |  | <table border="1"><tr><td></td><td></td><td></td><td></td><td></td><td></td></tr><tr><td></td><td></td><td></td><td></td><td></td><td></td></tr></table> |  |  |  |  |  |  |  |  |  |  |  |  |
|          |  |                    |                 |  |  |  |  |  |  |  |  |  |  |  |  |  |  |  |  |  |  |  |  |  |  |  |  |  |  |  |  |  |  |  |  |  |  |  |  |
|          |  |                    |                 |  |  |  |  |  |  |  |  |  |  |  |  |  |  |  |  |  |  |  |  |  |  |  |  |  |  |  |  |  |  |  |  |  |  |  |  |
|          |  |                    |                 |  |  |  |  |  |  |  |  |  |  |  |  |  |  |  |  |  |  |  |  |  |  |  |  |  |  |  |  |  |  |  |  |  |  |  |  |
|          |  |                    |                 |  |  |  |  |  |  |  |  |  |  |  |  |  |  |  |  |  |  |  |  |  |  |  |  |  |  |  |  |  |  |  |  |  |  |  |  |
|          |  |                    |                 |  |  |  |  |  |  |  |  |  |  |  |  |  |  |  |  |  |  |  |  |  |  |  |  |  |  |  |  |  |  |  |  |  |  |  |  |
|          |  |                    |                 |  |  |  |  |  |  |  |  |  |  |  |  |  |  |  |  |  |  |  |  |  |  |  |  |  |  |  |  |  |  |  |  |  |  |  |  |
| trzecie  | <table border="1"><tr><td></td><td></td><td></td><td></td><td></td><td></td></tr><tr><td></td><td></td><td></td><td></td><td></td><td></td></tr></table> |                    |                 |  |  |  |  |  |  |  |  |  |  | <table border="1"><tr><td></td><td></td><td></td><td></td><td></td><td></td></tr><tr><td></td><td></td><td></td><td></td><td></td><td></td></tr></table> |  |  |  |  |  |  |  |  |  |  |  |  | <table border="1"><tr><td></td><td></td><td></td><td></td><td></td><td></td></tr><tr><td></td><td></td><td></td><td></td><td></td><td></td></tr></table> |  |  |  |  |  |  |  |  |  |  |  |  |
|          |  |                    |                 |  |  |  |  |  |  |  |  |  |  |  |  |  |  |  |  |  |  |  |  |  |  |  |  |  |  |  |  |  |  |  |  |  |  |  |  |
|          |  |                    |                 |  |  |  |  |  |  |  |  |  |  |  |  |  |  |  |  |  |  |  |  |  |  |  |  |  |  |  |  |  |  |  |  |  |  |  |  |
|          |  |                    |                 |  |  |  |  |  |  |  |  |  |  |  |  |  |  |  |  |  |  |  |  |  |  |  |  |  |  |  |  |  |  |  |  |  |  |  |  |
|          |  |                    |                 |  |  |  |  |  |  |  |  |  |  |  |  |  |  |  |  |  |  |  |  |  |  |  |  |  |  |  |  |  |  |  |  |  |  |  |  |
|          |  |                    |                 |  |  |  |  |  |  |  |  |  |  |  |  |  |  |  |  |  |  |  |  |  |  |  |  |  |  |  |  |  |  |  |  |  |  |  |  |
|          |  |                    |                 |  |  |  |  |  |  |  |  |  |  |  |  |  |  |  |  |  |  |  |  |  |  |  |  |  |  |  |  |  |  |  |  |  |  |  |  |

**4** Pomyśl o dowolnej liczbie dwucyfrowej i wykonaj działania zgodnie ze schematem.






KARTA: .....


Z KLASY: .....

5 Przeczytaj wypowiedzi Ady i Jasia i odpowiedz na pytania.

W naszym  
autobusie jedzie  
4 opiekunów  
i 50 dzieci.



W naszym  
autobusie jedzie  
3 opiekunów  
i 43 dzieci.



a) Ile dzieci jedzie w obu autobusach?

|  |  |  |  |  |  |  |  |  |  |  |  |  |  |  |  |  |  |  |  |  |  |  |
|--|--|--|--|--|--|--|--|--|--|--|--|--|--|--|--|--|--|--|--|--|--|--|
|  |  |  |  |  |  |  |  |  |  |  |  |  |  |  |  |  |  |  |  |  |  |  |
|--|--|--|--|--|--|--|--|--|--|--|--|--|--|--|--|--|--|--|--|--|--|--|

Odpowiedź:

---



---



---

b) Ile dzieci i ilu dorosłych jedzie tymi dwoma autobusami?  
Pamiętaj, że autobusem kieruje kierowca.

|  |  |  |  |  |  |  |  |  |  |  |  |  |  |  |  |  |  |  |  |  |  |  |
|--|--|--|--|--|--|--|--|--|--|--|--|--|--|--|--|--|--|--|--|--|--|--|
|  |  |  |  |  |  |  |  |  |  |  |  |  |  |  |  |  |  |  |  |  |  |  |
|--|--|--|--|--|--|--|--|--|--|--|--|--|--|--|--|--|--|--|--|--|--|--|

Odpowiedź:

---



---



---





Praca  
domowa



KARTA: .....

Z KLASY: .....



1 Dorysuj drugą część liści.



2 Ułóż dialog dowolnych bohaterów książki „Jesień liścia Jasia”.



Handwriting practice lines consisting of alternating blue and pink horizontal lines.



KAPITAŁ LUDZKI  
NARODOWA STRATEGIA SPÓJNOŚCI



OŚRODEK  
ROZWOJU  
EDUKACJI



UNIA EUROPEJSKA  
EUROPEJSKI  
FUNDUSZ SPOŁECZNY

