




KARTA:

Z KLASY:

Wystarczy chcieć

1 Jaki prezent można by wręczyć Świętemu Mikołajowi?



2 Pomyśl, jaki prezent, który nie jest rzeczą, możesz podarować:

a) rodzicom

b) dziadkom

c) przyjaciółce lub przyjacielowi





KARTA:

Z KLASY:

Wystarczy chcieć

1 Oceń prawdziwość podanych informacji. Wybierz P, jeśli informacja jest prawdziwa, albo F, jeśli jest fałszywa.

• Wolontariat to sumienna praca za pieniądze.

P F

• Wolontariat to dobrowolna, bezpłatna praca na rzecz innych.

P F

• Wolontariat to pomoc niesiona tylko przyjaciołom.

P F

2 Jakie cechy, Twoim zdaniem, powinien mieć wolontariusz? Wypisz je.

WOLONTARIUSZ



.....

.....

.....

.....

.....

.....

.....

.....

.....

.....

.....

KARTA:

Z KLASY:



3 Uzasadnij pisownię wyrazów.

potężny – _____

ważyć – _____


obrażać – _____

wozę – _____

rozdroże – _____

każę – _____

grozę – _____



4 Zapisz wyrazy, za pomocą których możesz wyjaśnić pisownię następujących liczebników porządkowych: szósty, siódmy, ósmy. Jakie to części mowy?

szósty – _____

siódmy – _____

ósmy – _____

Są to _____ .

5 Napisz według wzoru.

5 – pięć – piąty – piątka

9 – _____ – _____ – _____

6 – _____ – _____ – _____

10 – _____ – _____ – _____

12 – _____ – _____ – _____

15 – _____ – _____ – _____




KARTA:


Z KLASY:

Wystarczy chcieć

- 1 Narysuj w każdej figurze brakujący bok. Skorzystaj z linijki.



- 2 Dokończ rysowanie kwadratów.

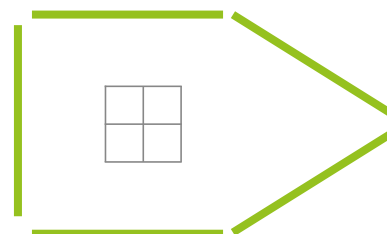
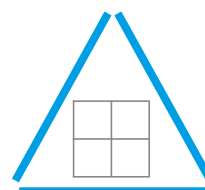
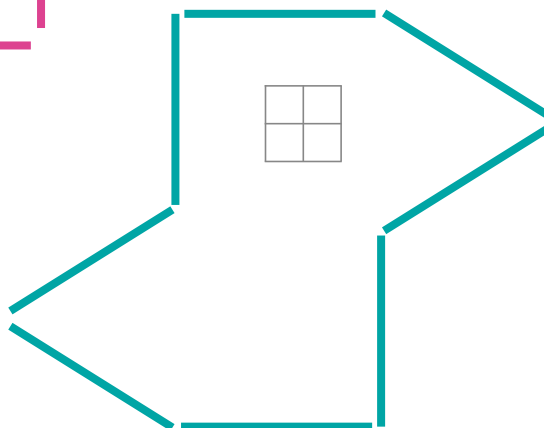



KARTA:


Z KLASY:



3 Zapisz w każdej figurze ułożonej z patyczków, ile ma boków.



4 Popatrz, jak Ada buduje z patyczków kwadraty. Każdy kolejny kwadrat ma mieć bok o jeden patyczek dłuższy. Dwa pierwsze kwadraty wyglądają tak:



a) Z ilu patyczków będzie zbudowany trzeci kwadrat?

Z patyczków.

b) Z ilu patyczków będzie zbudowany czwarty kwadrat?

Z patyczków.

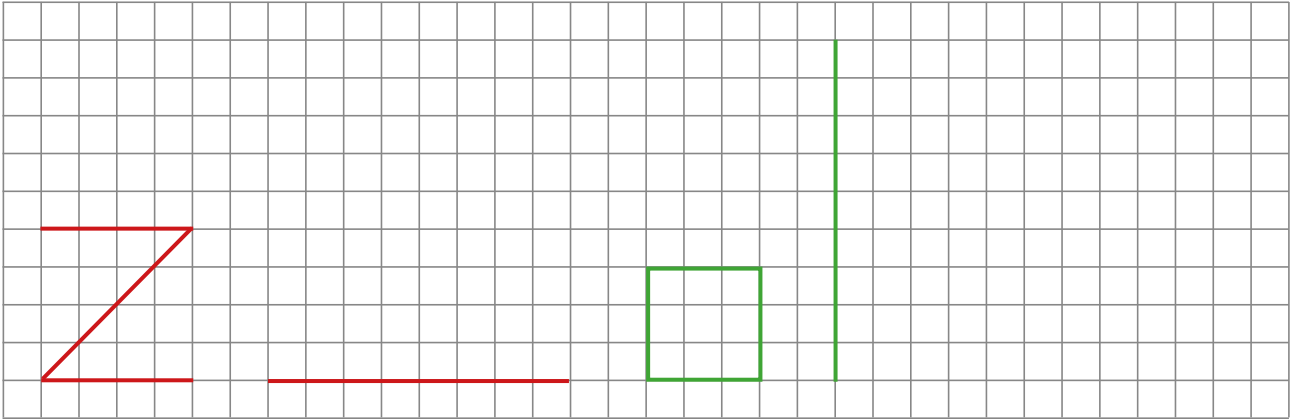





KARTA:

Z KLASY:


5 Narysuj taki sam obiekt, ale powiększony.



6 Narysuj prostokąt dwa razy większy.



7 Narysuj dwa razy mniejszy kwadrat.



Praca domowa



KARTA:

Z KLASY:



Razem z Rodzicami




Poszukajcie informacji o wybranym wolontariacie. Na ich podstawie uzupełnij zdania.

1 Wolontariat, o którym chcę napisać, to _____

Jest on skupiony przy _____

Wolontariusze pomagają _____

2 Zaprojektuj znaczek dla wolontariuszy pomagających chorym zwierzętom.



KAPITAŁ LUDZKI
NARODOWA STRATEGIA SPÓJNOŚCI



OŚRODEK
ROZWOJU
EDUKACJI



UNIA EUROPEJSKA
EUROPEJSKI
FUNDUSZ SPOŁECZNY

