

KARTA:

Z KLASY:



Przygotowania do świętowania

1 Wykonaj ćwiczenia.

a) Przeczytaj głośno sylaby. Najpierw wolno, potem coraz szybciej.

da da da da ko ko ko ko
re re re re lo lo lo lo
pa ra pa ra pa ra pa ra
tra la tra la tra la tra la

b) Zaśpiewaj sylaby na melodię „Wlazł kotek na płotek”.

tra la la tra la la tra la la
tra la la tra la la tra la la
tra la la tra la la tra la la
tra la la tra la la tra la la



c) Przeczytaj głośno wyrazy.

żaba rzeka żona brzeg
chrabąszcz chrupie szczupak rzekł
żmija zmyka smyku smyk



KARTA:

Z KLASY:



2 Dopisz wyrazy, których można użyć do napisania instrukcji wykonania szopki bożonarodzeniowej.

- rzeczowniki: słoma, _____
- czasowniki: przygotuj, _____
- przymiotniki: staranny, _____

3 Napisz instrukcję wykonania szopki bożonarodzeniowej. Skorzystaj ze zgromadzonego słownictwa.

Blank lined area for writing instructions.



KARTA:

Z KLASY:



4 Zapisz po dwa przykłady zdań:

a) oznajmujących.

b) pytających.

c) rozkazujących.

5 Uzupełnij tekst odpowiednimi znakami interpunkcyjnymi.

Do wykonania szopki użyliśmy słomy deseczek kolorowego kartonu folii aluminiowej Czy o czymś nie zapomnieliśmy
Wiem Powinniśmy jeszcze zrobić gwiazdę i figurki pasterzy

6 Uzupełnij wyrazy w tekście. Wpisz **-ą** lub **-om**.

Ania jest dobr harcerk . Pomaga innym druhn w nauce.
Jej cenzurk można się pochwalić.


KARTA:

Z KLASY:



Przygotowania do świętowania


- 1 Połącz matematyczne bombki choinkowe malejąco i odczytaj hasło.




$$38 - 24 : 3 = \begin{array}{|c|c|} \hline & \\ \hline & \\ \hline \end{array}$$



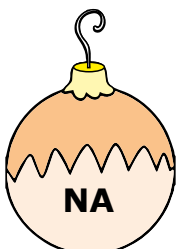
$$37 + 8 \cdot 4 = \begin{array}{|c|c|} \hline & \\ \hline & \\ \hline \end{array}$$



$$67 - 48 + 55 = \begin{array}{|c|c|} \hline & \\ \hline & \\ \hline \end{array}$$



$$4 \cdot 4 + 16 = \begin{array}{|c|c|} \hline & \\ \hline & \\ \hline \end{array}$$



$$48 : 6 + 45 = \begin{array}{|c|c|} \hline & \\ \hline & \\ \hline \end{array}$$



$$34 + 29 + 25 = \begin{array}{|c|c|} \hline & \\ \hline & \\ \hline \end{array}$$

- 2 Do sklepu rybnego przywieziono przed świętami dostawę świeżych ryb: skrzynię karpia, skrzynię śledzi i skrzynię tuńczyków. Uzupełnij brakujące dane w tabeli.

	Waga brutto	Waga netto	Waga tara
skrzynia z karpami	38 kg	35 kg	
skrzynie ze śledziami	29 kg		3 kg
skrzynie z tuńczykami		25 kg	2 kg
razem			

