



KARTA: .....

Z KLASY: .....



## Zapusty w Polsce

1 Uzupełnij zdania.

Karnawał jest to \_\_\_\_\_

Karnawał trwa od \_\_\_\_\_ do \_\_\_\_\_.

Zapustami nazywamy \_\_\_\_\_

2 Ułóż w punktach program klasowego balu karnawałowego.



Large lined area for writing the program of the carnival ball.



KAPITAŁ LUDZKI  
NARODOWA STRATEGIA SPÓJNOŚCI



OŚRODEK  
ROZWOJU  
EDUKACJI



UNIA EUROPEJSKA  
EUROPEJSKI  
FUNDUSZ SPOŁECZNY



KARTA: .....

Z KLASY: .....



3 Utwórz przysłówki od podanych przymiotników, a następnie uzupełnij zdania.

słoneczny – \_\_\_\_\_

deszczowy – \_\_\_\_\_

mglisty – \_\_\_\_\_

wietrzny – \_\_\_\_\_

pochmurny – \_\_\_\_\_

przejrzysty – \_\_\_\_\_

pogodny – \_\_\_\_\_

ciepły – \_\_\_\_\_

chłodny – \_\_\_\_\_

zimny – \_\_\_\_\_



• Wczoraj było \_\_\_\_\_ , \_\_\_\_\_

i \_\_\_\_\_ .

• Dzisiaj jest \_\_\_\_\_ , \_\_\_\_\_

i \_\_\_\_\_ dzień.

4 Uzupełnij zdania, wpisując odpowiedni, taki sam, przysówek.

- \_\_\_\_\_ czytam książki.
- Książki kupuję \_\_\_\_\_ .
- \_\_\_\_\_ , kiedy się nudzę, słucham muzyki.
- Telewizję oglądam \_\_\_\_\_ .
- \_\_\_\_\_ staram się nie marnować czasu.



KARTA: .....

Z KLASY: .....



## Zapusty w Polsce

- 1 Do dekoracji karnawałowej dzieci z klasy Ady i Jasia wykorzystwały figury geometryczne o podanych wymiarach. Oblicz obwody tych figur.

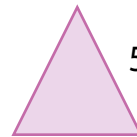


7 cm




12 cm

3 cm



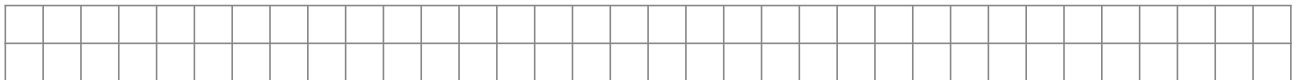
4 cm

5 cm



- 2 Ustal, jaką długość ma bok kwadratu:

a) o obwodzie 36 cm.



Odpowiedź:

---

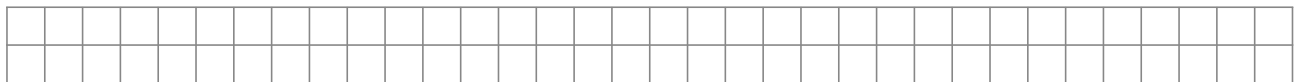


---



---

b) o obwodzie 16 cm.



Odpowiedź:

---



---



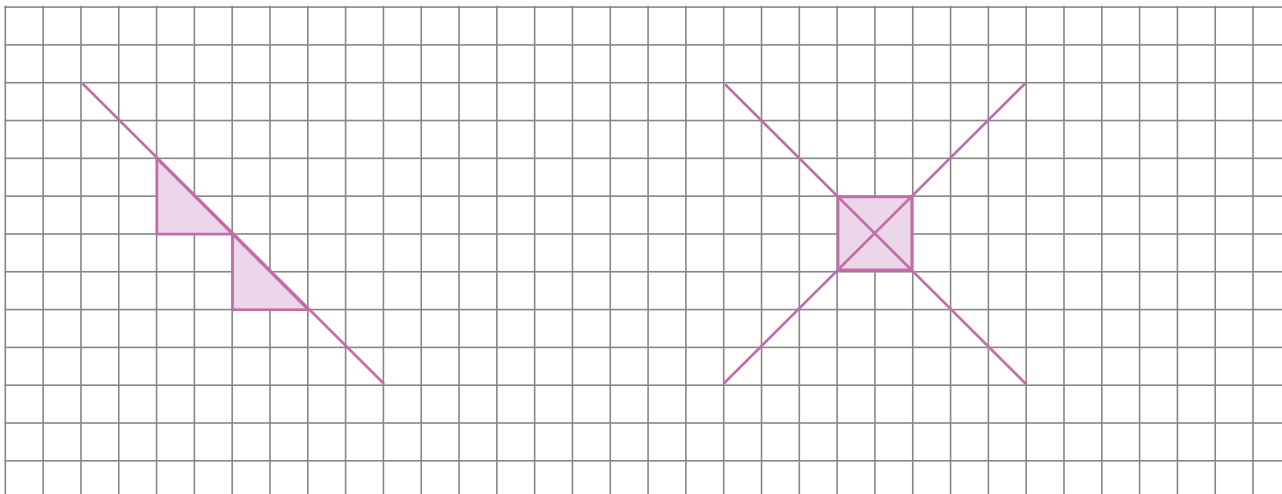
---



KARTA: .....

Z KLASY: .....

Proste prostopadłe i proste równoległe możesz rysować na kartce w kratkę.



3 Narysuj pięć prostych prostopadłych i pięć prostych równoległych.

