



KARTA:

Z KLASY:




Sprawdzian

1 Połącz opisy z odpowiednimi figurami geometrycznymi.



- Ma 4 boki.
- Ma po 2 boki równe.
- Ma 3 kąty.
- Ma 4 kąty.
- Ma 3 boki.
- Obwód tej figury można obliczyć, mnożąc długość boku przez 4.
- Ma wszystkie boki równe.

2 Narysuj prostokąt, którego jeden bok ma 3 cm, a drugi bok jest o 5 cm dłuższy. Oblicz obwód tego prostokąta. Uzupełnij odpowiedzi.



• Długość boków prostokąta:

• Obwód prostokąta:


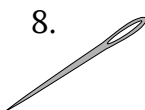
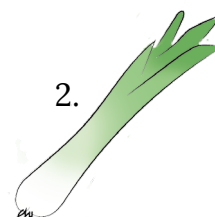
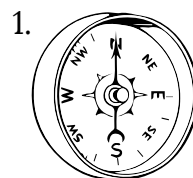
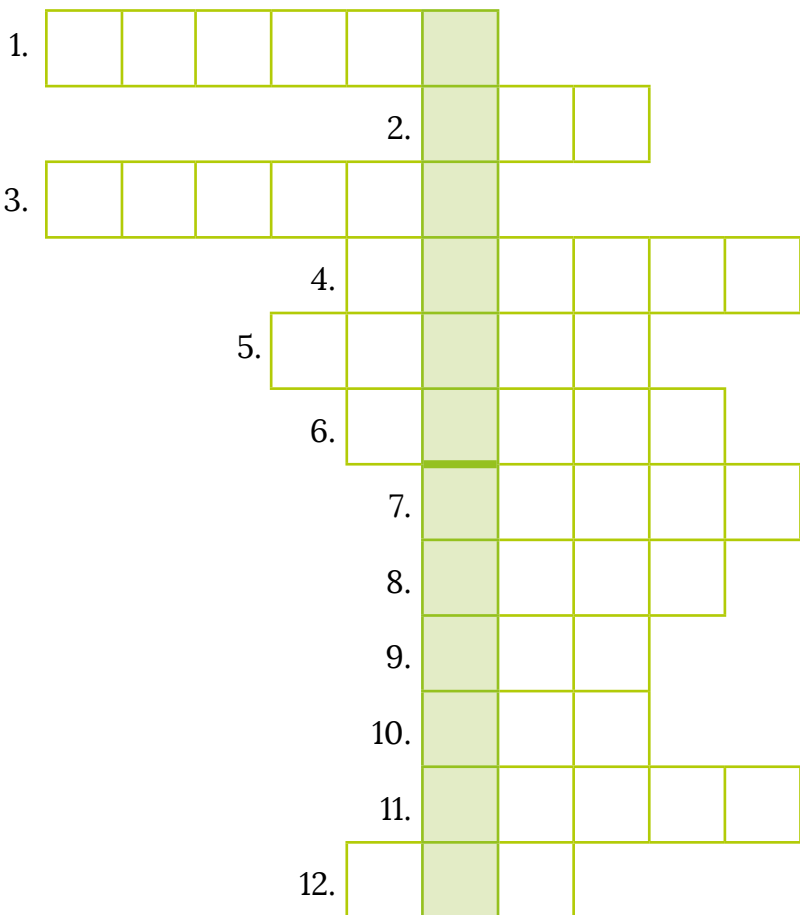


KARTA:

Z KLASY:

Bezpieczne i pomysłowe ferie zimowe

1 Wpisz nazwy obrazków do krzyżówki i odczytaj hasło.





KARTA:

Z KLASY:

2 Dobierz sprzęt sportowy do dyscypliny sportowej. Narysuj w zeszycie te dyscypliny sportowe, których ilustracji tu nie było.



- curling
- skeleton
- saneczkarstwo
- slalom gigant
- łyżwiarstwo szybkie
- hokej
- bobsleje
- skoki narciarskie
- biathlon
- łyżwiarstwo figurowe

3 Wymień pięć najważniejszych Twoim zdaniem zasad bezpieczeństwa, o których należy pamiętać podczas uprawiania sportów zimowych.

- I. _____
- II. _____
- III. _____
- IV. _____
- V. _____





KARTA:

Z KLASY:



Numbers 1-100

- 1 Listen, point and say the rhyme. Posłuchaj, wskaż i powiedz rymowanąkę.

Mummy, mummy!
 What's the matter, honey?
 I can't sleep.
 Then let's count sheep!
 One, two, three, four, five,
 six, seven, eight, nine, ten,
 eleven, twelve, thirteen, fourteen, fifteen,
 sixteen, seventeen, eighteen, nineteen, twenty...
 What's next?



- 2 Read, listen and point. Przeczytaj, posłuchaj i wskaż.

10 – ten

60 – sixty

20 – twenty

70 – seventy

30 – thirty

80 – eighty

40 – forty

90 – ninety

50 – fifty

100 – one hundred





KARTA:

Z KLASY:



3 Write the numbers. Napisz liczby.

twenty-seven

eighty-five

sixty-one

ninety-three

a hundred

thirty-eight

fifty

seventy-four

forty-nine

4 Write the words. Napisz wyrazy.

64 – sixty-four

29 – _____

46 – _____

72 – _____

34 – _____

58 – _____

83 – _____

67 – _____

99 – _____



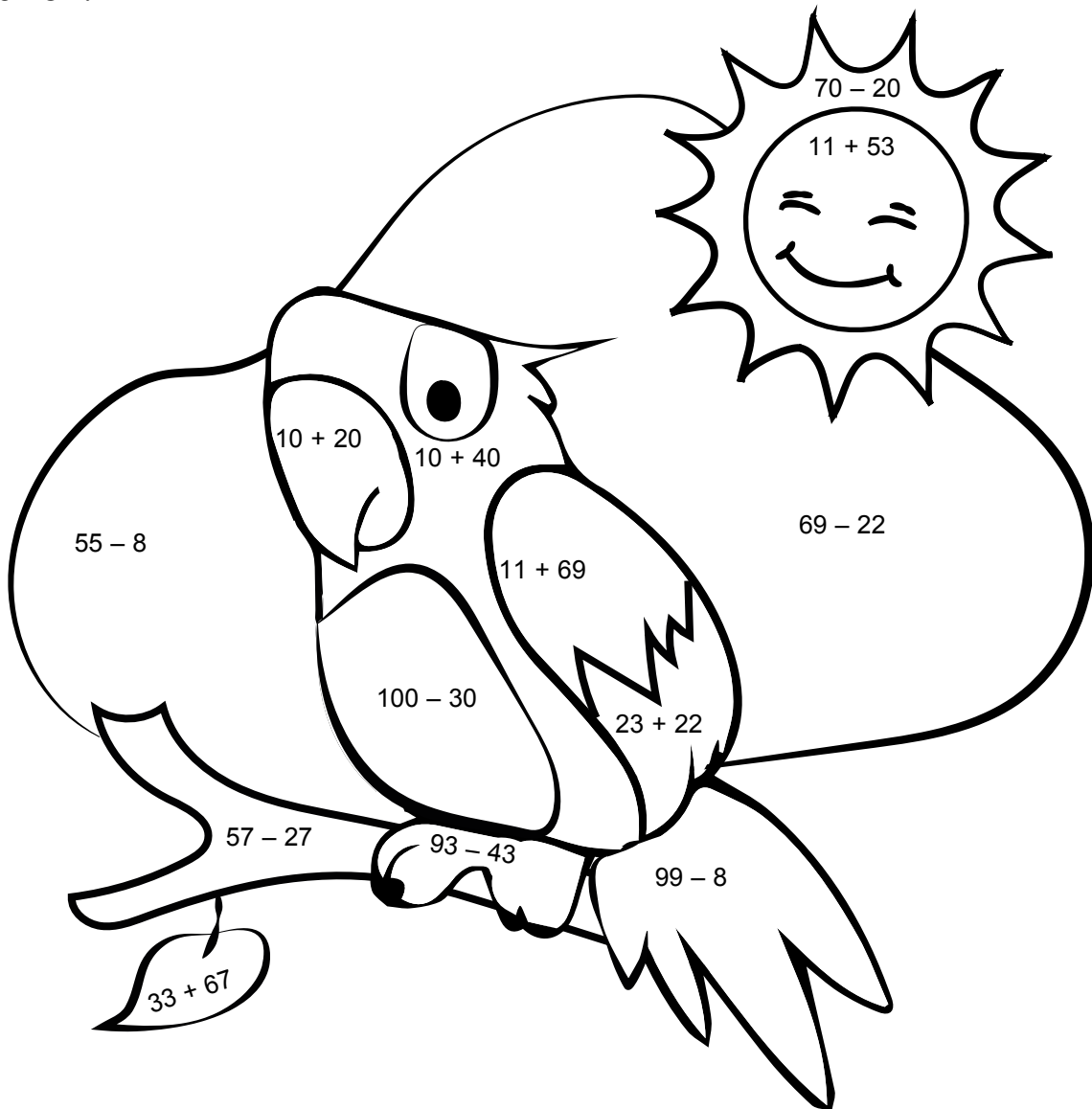
Praca domowa



KARTA:

Z KLASY:

1 Count, say the numbers, look at the tips and colour the picture.
Policz, powiedz, jakie to liczby, popatrz na wskazówki i pokoloruj obrazek.



KAPITAŁ LUDZKI
NARODOWA STRATEGIA SPÓJNOŚCI



OŚRODEK
ROZWOJU
EDUKACJI



UNIA EUROPEJSKA
EUROPEJSKI
FUNDUSZ SPOŁECZNY

