



KARTA:

Z KLASY:



Morskie opowieści

1 Odpowiedz na pytania dotyczące Morza Bałtyckiego.

a) Gdzie jest położone?

b) Czy jest to morze młode, czy stare?

c) Czy jest to morze bardzo słone?

d) Czy jest to morze zanieczyszczone, czy czyste?

e) Jakie rośliny i zwierzęta żyją w Morzu Bałtyckim?

rośliny:

zwierzęta:



KAPITAŁ LUDZKI
NARODOWA STRATEGIA SPÓJNOŚCI



OŚRODEK
ROZWOJU
EDUKACJI



UNIA EUROPEJSKA
EUROPEJSKI
FUNDUSZ SPOŁECZNY





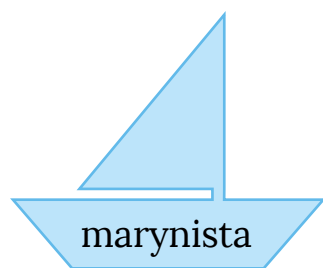
KARTA:

Z KLASY:

- 2 Podpisz na mapce konturowej polskiego wybrzeża największe miasta i rzeki uchodzące do Bałtyku.



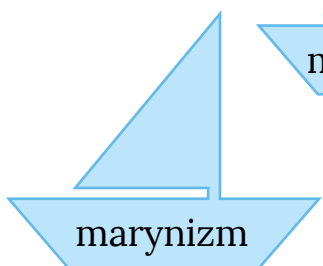
- 3 Dopasuj do pojęć właściwe wyjaśnienia.



marynista



marynistyka



marynizm

morska tematyka
w literaturze i sztuce

autor dzieł artystycznych
o tematyce morskiej

twórczość artystyczna
o tematyce morskiej

KARTA:

Z KLASY:



4 Dopisz do podanych czasowników określające je przysłówki.

płynął (jak?)

szumiało (jak?)

spojrzał (jak?)

podszedł (jak?)

stały (jak?)

latały (jak?)

uśmiechnęła się (jak?)

dotknęła (jak?)



5 Wypisz jak najwięcej wyrazów kojarzących Ci się z Morzem Bałtyckim.

6 Uzasadnij pisownię wyrazów, dopisując wyraz pokrewny.

starzec –

dworzanin –

uwierzyć –

morze –

wzorzysty –

rowerzysta –

scenarzysta –



KARTA:

Z KLASY:

Morskie opowieści

- 1** Przeczytaj tytuły piosenek zamieszczone w ramce. Następnie przepisz je do odpowiednich kolumn tabeli.

„Wędrowiec”, „Morskie opowieści”, „Pod żaglami Zawiszy”, „Płonie ognisko w lesie”, „Bieszczadzki szlak”, „Dziesięć w skali Beauforta”

Piosenki żeglarskie	Piosenki turystyczne

- 2** Zapisz poniżej, o czym najczęściej opowiadają szanty.

1. _____
2. _____
3. _____

- 3** Zaznacz na mapie Polski rozmieszczenie latarni morskich.

- 4** Zanotuj w wyznaczonym miejscu jeden układ nut nadany przez nauczyciela za pomocą sygnałów świetlnych.



KAPITAŁ LUDZKI
NARODOWA STRATEGIA SPÓJNOŚCI



OŚRODEK
ROZWOJU
EDUKACJI



UNIA EUROPEJSKA
EUROPEJSKI
FUNDUSZ SPOŁECZNY





Praca domowa



KARTA:

Z KLASY:

Razem z Rodzicami

1



Poszukajcie informacji o tym:

- jakie państwa leżą nad Morzem Bałtyckim,
- jaki jest największy nadbałtycki port,
- jaka jest największa bałtycka wyspa.

Państwa leżące nad Morzem Bałtyckim to:

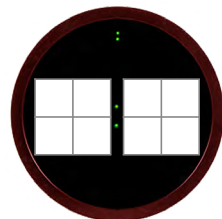
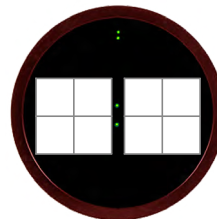
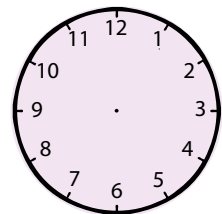
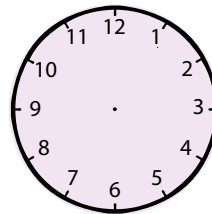
Największym nadbałtyckim portem jest _____.

Największą wyspą położoną na Morzu Bałtyckim jest _____.

- Odpowiedz na pytanie Ady. Dorysuj wskazówki i zapisz godziny na zegarkach elektronicznych i zwykłych.



Jest godzina 15.15.
Która godzina będzie za godzinę i 20 minut?



KAPITAŁ LUDZKI
NARODOWA STRATEGIA SPÓJNOŚCI



OŚRODEK
ROZWOJU
EDUKACJI



UNIA EUROPEJSKA
EUROPEJSKI
FUNDUSZ SPOŁECZNY

