



KARTA:

Z KLASY:

- 3 Oblicz, który z wyników będzie najmniejszy. Podkreśl go.

$$2 \cdot 9 + 3 \cdot 6$$

$$2 + 9 \cdot 9$$

$$2 \cdot 8 + 5$$

$$100 : 10 - 9$$

- 4 Rozwiąż zadanie, zastosuj działanie z okienkiem.
Ada i Zosia zbierają kartki z kwiatami. Ada miała więcej karteczek. Gdy Ada dała Zosi 22 karteczki, to obie dziewczynki miały ich po 78. Ile karteczek miała Ada na początku?

Odpowiedź:

- 5 Oblicz, jaka liczba jest na początku.

$$(\square + 5) : 3 = 5$$



KARTA:

Z KLASY:

Jak zobaczyć powietrze?

- 1 Oblicz. Uporządkuj wyniki malejąco, a dowiesz się, co jest niezbędne do życia na Ziemi.

$4 \cdot 1 = E$

$9 \cdot 9 = P$

$64 : 8 = T$

$54 : 9 = RZ$

$48 + 14 = W$

$72 - 6 = O$

$6 \cdot 8 = E$

$8 \cdot 7 = I$

liczby								
litery								

- 2 Uzupełnij zdania.

Powietrze jest Powietrze stawia spadającym ciałom. Jednym ze składników powietrza jest tlen. Jest on niezbędny do

- 3 Ułóż zdanie z rozsypanki wyrazowej, a otrzymasz odpowiedź na pytanie: **Co to jest wiatr?**

poziomy

względem

wywołany

ciśnienie

powietrza

ziemi.

atmosferycznych

Wiatr

ruch

różnicą

powierzchni

to



KARTA:
Z KLASY:

4 Rozwiąż rebusy i rozszyfruj nazwy różnych rodzajów wiatru.




~~ak~~



k = lny



~~lajno~~ +



kieta = gan



lant = za

5 Napisz w zeszycie, w jaki sposób człowiek wykorzystuje siłę wiatru.



KARTA:

Z KLASY:



St Patrick's Day

1 Read. Przeczytaj.



St Patrick was born in the 4th century in Britain. He was a shepherd and then became a priest. He used a shamrock to teach about God. On 17th March people around the world celebrate St Patrick's Day. There are parade in most towns and villages, people wear green clothes, girls wear green ribbons because green is the colour of Ireland.



KAPITAŁ LUDZKI
NARODOWA STRATEGIA SPÓJNOŚCI



OŚRODEK
ROZWOJU
EDUKACJI



UNIA EUROPEJSKA
EUROPEJSKI
FUNDUSZ SPOŁECZNY





KARTA:


Z KLASY:


2 Read and circle T or F. Przeczytaj i zakreśl T lub F.

- | | | |
|---|----------------------------|----------------------------|
| 1. St Patrick was born in Poland. | <input type="checkbox"/> T | <input type="checkbox"/> F |
| 2. St Patrick was a priest. | <input type="checkbox"/> T | <input type="checkbox"/> F |
| 3. St Patrick's Day is on 1st March. | <input type="checkbox"/> T | <input type="checkbox"/> F |
| 4. On St Patrick's Day people wear green clothes. | <input type="checkbox"/> T | <input type="checkbox"/> F |
| 5. Orange is the colour of Ireland. | <input type="checkbox"/> T | <input type="checkbox"/> F |
| 6. Leprechaun lives in forest of Britain. | <input type="checkbox"/> T | <input type="checkbox"/> F |

3 Look at the pictures and write the words. Popatrz na obrazki i napisz słowa.

shamrock, priest, ribbon, parade, leprechaun, pot, treasure





4 Complete the sentence. Uzupełnij zdanie.

A _____ and a _____ are the symbols of Ireland.





KARTA:


Z KLASY:




1 Colour the pictures and write. Pokoloruj obrazki i podpisz.



.....



.....



.....

