

KARTA: .....

Z KLASY: .....




## Gdzie żyją zwierzęta egzotyczne?

1 Pokoloruj zwierzęta egzotyczne.



2 Przeczytaj nazwy zwierząt, a następnie zapisz je po śladzie.



kobra



tygrys



wieloryb

3 Przeczytaj, a potem przepisz nazwy kontynentów, na których żyją zwierzęta egzotyczne.

**Afryka, Ameryka, Australia, Azja**

---



---



---

4 Przyjrzyj się nazwom kontynentów z zadania 3. Powiedz, czy mają one coś wspólnego?





KARTA: .....

Z KLASY: .....

5 Narysuj po śladzie kontur Afryki.



6 Połącz sylaby w takich samych ramkach. Odczytaj wyrazy i zapisz dwa z nich.

po hi

le ra

błąd tam

wiel po mur zeb

---



---



---

7 Napisz, ile sylab ma najdłuższy wyraz z zadania 6.





KARTA: .....

Z KLASY: .....


## Gdzie żyją zwierzęta egzotyczne?

- 1 Przekreśl czerwoną kredką obrazki, na których pokazano, jak nie można zachowywać się w zoo.



- 2 Powiedz, co oznacza ten piktogram.






KARTA: .....

Z KLASY: .....


## Gdzie żyją zwierzęta egzotyczne?

1 Zapisz w kratkach, którą godzinę wskazują zegary.

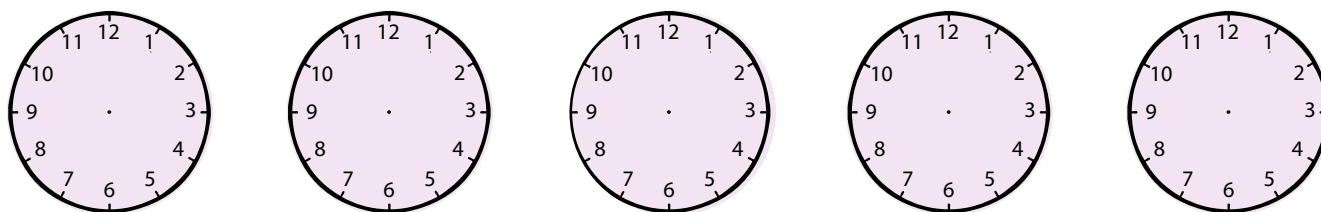
### Rano




### Po południu




2 Zaznacz wskazówki na zegarach tak, aby pokazywały godzinę zapisaną pod spodem.



3.00

14.00

8.00

17.00


12.00



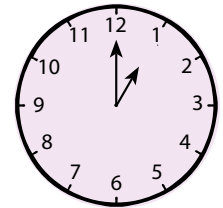
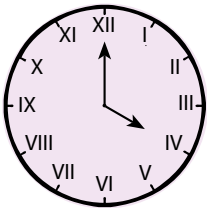


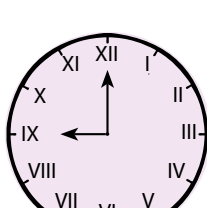
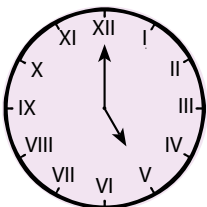
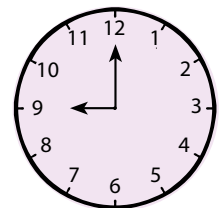

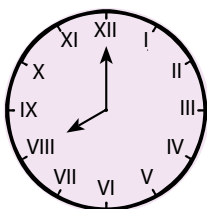
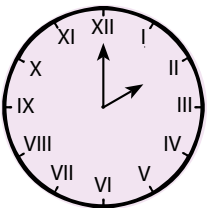


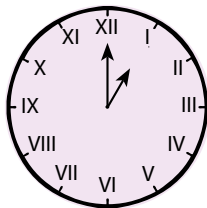
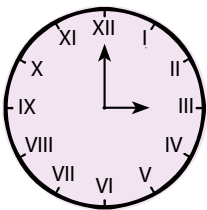
KARTA: .....

Z KLASY: .....

3 Zapisz godziny na tarczy zegara, używając znaków rzymskich.



4 Połącz strzałkami zegary wskazujące tę samą godzinę.





KARTA: .....

Z KLASY: .....

## Gdzie żyją zwierzęta egzotyczne?

- 1 Zamaluj klawisz, który pozwala przenieść tekst do następnej linijki.



- 2 Rozpoznaj zwierzęta na ilustracjach. Wpisz ich nazwy w pliku.



- 3 Pokoloruj te klawisze, które należy nacisnąć, aby napisać podane niżej znaki rzymskie.



I, II, III



KAPITAŁ LUDZKI  
NARODOWA STRATEGIA SPÓJNOŚCI



OŚRODEK  
ROZWOJU  
EDUKACJI



UNIA EUROPEJSKA  
EUROPEJSKI  
FUNDUSZ SPOŁECZNY





KARTA: .....

Z KLASY: .....

1 Czyje to oko? Połącz fotografie oczu z fotografiami zwierząt.



Razem z Rodzicami



Poszukajcie w dostępnych źródłach informacji, która godzina jest Limie, leżącej w Ameryce Południowej, jeżeli w Waszej miejscowości jest godzina 14.00. Zaznacz obie godziny na zegarach.

