


KARTA:

Z KLASY:



Internet

- 1 Podaj nazwy czynności przedstawionych na obrazkach, związanych z korzystaniem z internetu. Przeczytaj zdanie. Napisz po śladzie literę ć.



Ć ć

ćma

ćwiczyć

Cici

ciocia

cielę


Dzięki internetowi można pisać listy,
rozmawiać z innymi osobami, czytać
ciekawe informacje i grać w gry.



KARTA:

Z KLASY:

5 Narysuj po śladzie.



6 Dokończ pisanie liter **Ć**, **ć**. Policz, ile literek udało Ci się zmieścić. Sprawdź, ile literek udało się wpisać Twojej koleżance lub Twojemu koledze. Kto zapisał ich więcej?

Ć

ć

7 Napisz pięć czynności, które lubisz wykonywać najbardziej.

Najbardziej lubię



KARTA:

Z KLASY:



8 Podpisz obrazki. Narysuj modele dźwiękowe wyrazów.











9 Przeczytaj głośno część alfabetu. Wymyśl rytm, który pomoże Ci zapamiętać kolejność liter.

A, A, B, C, C, D, E, E, F, G, H, I, J, K, L, L, M, N, N, O, O, P, R, S

10 Połącz strzałkami pasujące do siebie wyrazy.

- | | |
|------------|------------|
| gotować • | • dywan |
| zmywać • | • obiad |
| odkurzać • | • ubrania |
| prasować • | • naczynia |
| czytać • | • gazetę |



KARTA:

Z KLASY:

- 4 Wpisz w kratki literę oznaczającą działanie, które pasuje do zadania.

	Ada ma cztery sukienki w kratkę i trzy w paski. Ile sukienek ma Ada?
	Ania ma dwie koszatniczki. Urodziło im się siedmoro młodych. Ile koszatniczek ma teraz Ania?
	Weronika uczy się grać na fortepianie. Jeździ na lekcje 20 razy w miesiącu. W lutym była już 17 razy. Ile lekcji gry na luty jej zostało?
	Artur zbiera modele samolotów. Ma ich już 19, w tym 12 metalowych. Pozostałe modele są plastikowe. Ile plastikowych samolotów ma Artur?
	Magda każdego dnia przez 1 godzinę czyta książki. Ile godzin w tygodniu Magda czyta książki?
	Robert urządza bal karnawałowy. Zaprosił 8 kolegów i 9 koleżanek. Ile dzieci będzie na zabawie?
	Mikołaj ma odmierzyć 2 litry wody, ale ma tylko pojemniki o pojemności 5 i 3 litrów. Jak może odmierzyć 2 litry?

A	A _z	B	C	Ć	D	E
20 - 17	8 + 9 + 1	4 + 3	1 + 1 + 1 + 1 + 1 + 1 + 1	5 - 3	2 + 7	19 - 12

Praca
domowa



KARTA:

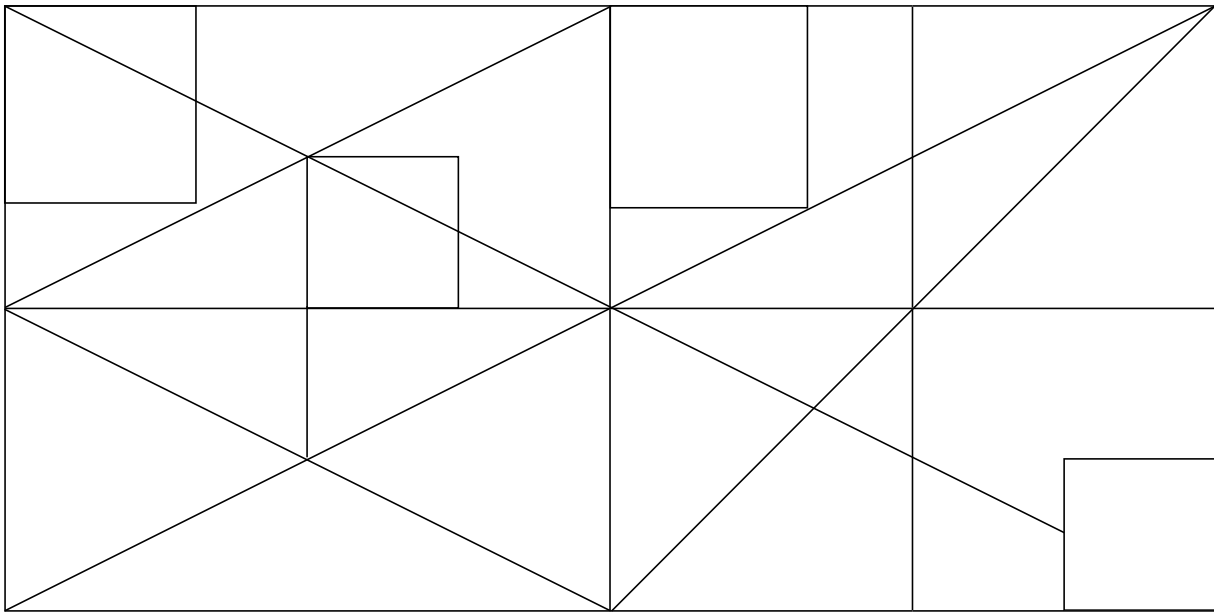
Z KLASY:



Porozmawiaj z rodzicami o tym, czy ich zdaniem internet ma więcej wad, czy zalet.

Młody naukowiec

Policz, ile jest kwadratów, a ile trójkątów.



KAPITAŁ LUDZKI
NARODOWA STRATEGIA SPÓJNOŚCI



OŚRODEK
ROZWOJU
EDUKACJI



UNIA EUROPEJSKA
EUROPEJSKI
FUNDUSZ SPOŁECZNY

