

KARTA:

Z KLASY:




Zwierzęta hodowane przez człowieka

- 1 Oddziel linią nazwy zwierząt domowych od nazw zwierząt gospodarskich.

krowa kot pies kanarek
 cielę owca chomik
 koza prosię patyczak
 kura kaczka jagnię koń

- 2 Połącz zwierzęta z nazwami miejsc, w których się je hoduje.



chlew


kurnik

ul

stajnia

obora

- 3 Wpisz pod obrazkami zwierząt nazwy produktów, dla których hoduje się te zwierzęta.




KARTA:

Z KLASY:




- 4 Policz głoski w wyrazach. Połącz wyrazy z kostkami, na których jest tyle samo oczek, co głosek w danym wyrazie.

owca




kaczka



koń

cielę




krowa

- 5 Dokończ pisanie wyrazów.

hodowla

hodować

- 6 Dokończ zdanie.




To są

KARTA:


Z KLASY:



- 7 Porównaj jajka zwierząt pod względem wielkości. Połącz je od największego do najmniejszego.



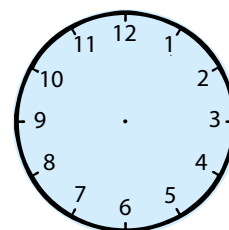
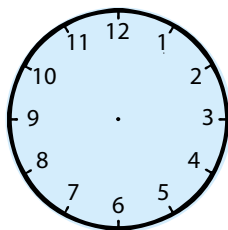
- 8 Porównaj jajka zwierząt pod względem wagi. Które jajko jest cięższe? Wstaw odpowiedni znak.



- 9 Dziadek Jasia, kiedy był młody, mieszkał w gospodarstwie. Jego tata, czyli pradziadek Jasia, wstawał codziennie o piątej rano, żeby wydoić i nakarmić krowy. Dziadek Jasia wstawał dwie godziny później. Zaznacz na zegarach, o których godzinach wstawali pradziadek i dziadek Jasia.

dziadek

pradziadek





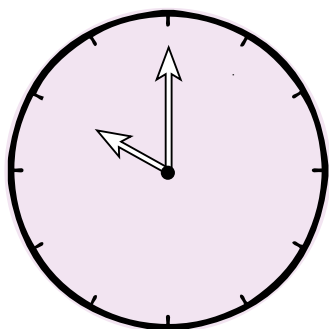
KARTA:

Z KLASY:

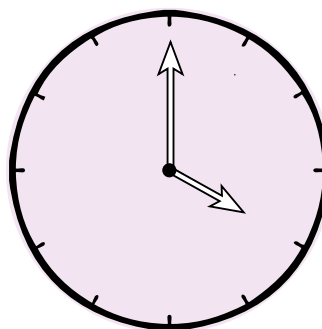
Zwierzęta hodowane przez człowieka

- 1 Zapisz na zegarach godziny w podany sposób.

znaki arabskie

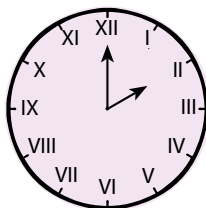


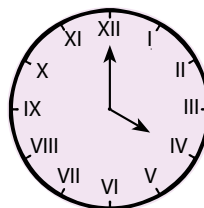
znaki rzymskie





- 2 Pokoloruj w zadaniu 1 wskazówki minutowe na czerwono, a godzinowe – na niebiesko.

- 3 Odczytaj, którą godzinę wskazują zegary. Zapisz odpowiedzi.









Praca domowa



KARTA:

Z KLASY:


1 Jeśli w Polsce jest teraz 10.00, to:



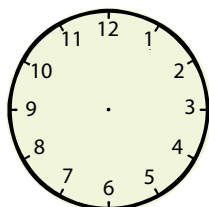
- w Kairze jest godzinę później.
- w Tokio jest 8 godzin później.
- w Nowym Jorku jest 6 godzin wcześniej.
- w Londynie jest godzinę wcześniej.

Oblicz, która godzina jest kolejno w Kairze, Tokio, w Nowym Jorku i w Londynie. Zaznacz te godziny na zegarach.


Polska



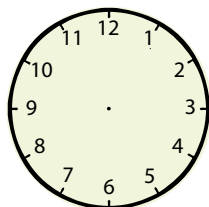
Kair



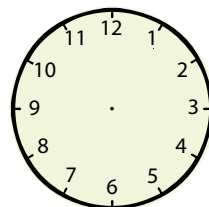
Tokio



Nowy Jork



Londyn




Młody naukowiec

2

Połącz wyrazy z rysunkiem. Odczytaj wyrażenia i powiedz, co one oznaczają. Czy każdy wyraz pasuje do tego obrazka?

morski

mechaniczny



gniady

rączy



KAPITAŁ LUDZKI
NARODOWA STRATEGIA SPÓJNOŚCI



OŚRODEK
ROZWOJU
EDUKACJI



UNIA EUROPEJSKA
EUROPEJSKI
FUNDUSZ SPOŁECZNY

