



KARTA:

Z KLASY:



Wielkanocne świętowanie

1 O czym należy pamiętać, organizując przedstawienie? Zapisz odpowiedź w punktach.

Kiedy organizuje się przedstawienie, należy pamiętać o:

Handwriting practice lines for the first question.

2 Napisz notatkę do kroniki klasowej o Waszym przedstawieniu.

Kronika klasowa

Handwriting practice lines for the second question.



KAPITAŁ LUDZKI
NARODOWA STRATEGIA SPÓJNOŚCI



OŚRODEK
ROZWOJU
EDUKACJI



UNIA EUROPEJSKA
EUROPEJSKI
FUNDUSZ SPOŁECZNY



KARTA:

Z KLASY:



- 3 Zaznacz **P**, jeśli informacja jest prawdziwa, lub **F**, jeśli jest fałszywa.

Słowo Wielkanoc zawiera trzy sylaby.	P	F
W słowie Wielkanoc są cztery samogłoski.	P	F
Wielkanoc to nazwa letniego święta.	P	F
Święta wielkanocne rozpoczynają się od uroczystej wigilii.	P	F

- 4 Zaplanuj świąteczny dzień zgodnie z tradycjami wielkanocnymi panującymi w Twoim domu.

Rano:

Przed południem:

Po południu:

Wieczorem:



KARTA:

Z KLASY:

Wielkanocne świętowanie

1 Porównaj sumy i różnice. Wstaw odpowiedni znak: $>$, $<$ lub $=$.

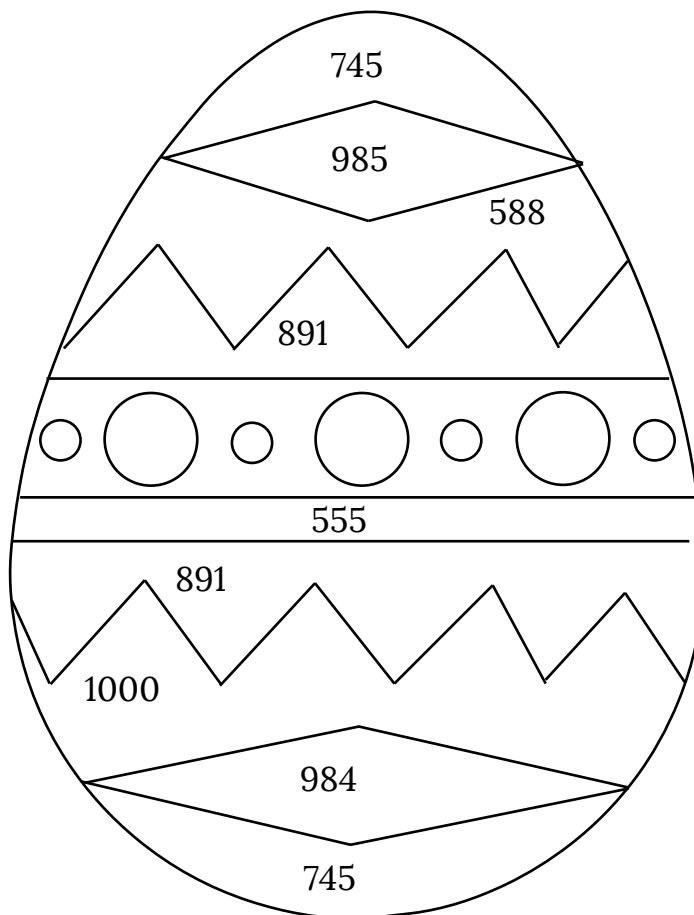
$$260 + 32 \quad \square \quad 867 - 333$$

$$521 + 59 \quad \square \quad 900 - 420$$

$$735 - 611 \quad \square \quad 670 + 111$$

$$421 + 342 \quad \square \quad 1000 - 250$$

2 Oblicz. Pokoloruj według kodu.



$$733 + 252 =$$

$$1000 - 255 =$$

$$277 + 311 =$$

$$390 + 501 =$$

$$777 - 222 =$$

KARTA:

Z KLASY:



3 Wpisz w okienka właściwą liczbę.

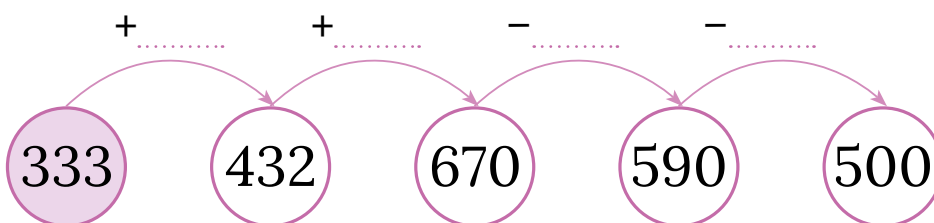
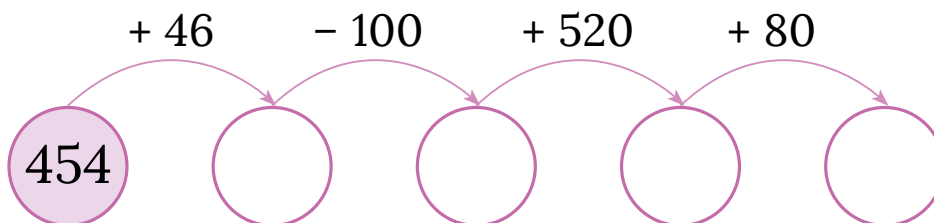
$$78 + \boxed{} = 80$$

$$\boxed{} + 25 = 100$$

$$\boxed{} + 550 = 1000$$

$$135 + \boxed{} = 200$$

4 Uzupełnij grafy.



Praca
domowa



KARTA:

Z KLASY:



Razem
z Rodzicami



Ułóżcie dla siebie życzenia wielkanocne. Mogą być rymowane!

1

Moje życzenia

Życzenia rodziców



KAPITAŁ LUDZKI
NARODOWA STRATEGIA SPÓJNOŚCI



OŚRODEK
ROZWOJU
EDUKACJI



UNIA EUROPEJSKA
EUROPEJSKI
FUNDUSZ SPOŁECZNY

