

KARTA: .....

Z KLASY: .....



## Jak uczyć się mądrze?

- 1 Zaznacz **P**, jeżeli informacja jest prawdziwa, lub **F**, jeżeli jest fałszywa.

Pamięć to zdolność umysłu do zachowywania wrażeń, przeżyć i utrwalania informacji.	P	F
Pamięć to urządzenie przechowujące informacje, stosowane głównie w komputerach.	P	F
Pamięć to zdolność do zapominania.	P	F

- 2 Wyjaśnij znaczenie zwrotu „mieć krótką pamięć”.

---

---

---

---

---

---

---

---

---

---

- 3 Zapisz dwa zalecenia, które mogłyby się znaleźć w „Poradniku dla trenujących pamięć”.

---

---

---

---

---

---

---

---

---

---



KARTA: .....

Z KLASY: .....

4 Określ rodzaj rzeczowników według wzoru.

butelka	jedna butelka	ta butelka	rodzaj żeński
książka			
obrus			
wiadro			
zabawka			



5 Dopisz do podanych przymiotników rzeczowniki z ó niewymiennym.

stroma – góra

ruda – \_\_\_\_\_

zielony – \_\_\_\_\_

magiczna – \_\_\_\_\_

posłuszna – \_\_\_\_\_

czerwona – \_\_\_\_\_



KARTA: .....

Z KLASY: .....

## Jak uczyć się mądrze?

**1** Oblicz sposobem pisemnym.

$321 + 611$

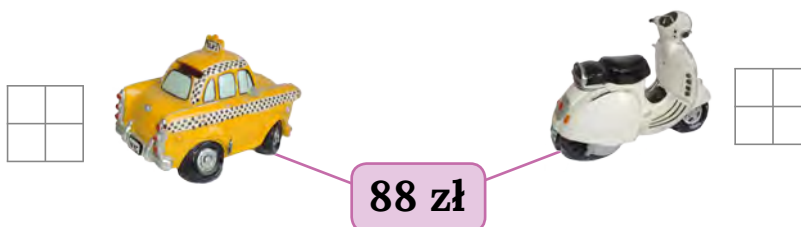
$700 + 563$

$895 - 444$

$966 - 333$

$689 - 380$


**2** W dwóch skarbonkach było razem 88 zł. W pierwszej skarbonce było 25 zł. Ile pieniędzy było w drugiej skarbonce?




W drugiej skarbonce były \_\_\_\_\_

**3** Jaś miał 99 zł. Chciał kupić piórnik za 40 zł, 2 długopisy po 10 zł jeden i książkę za 25 zł. Czy Jasiowi starczyło pieniędzy na zakupy? Oblicz, a następnie podkreśl właściwą odpowiedź.


TAK / NIE






**KARTA:** .....

**Z KLASY:** .....

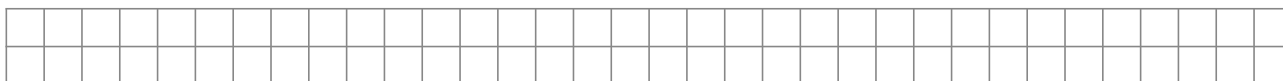
- 4** Pomóż mamie Ady policzyć, ile zapłaci za zakupy na przyjęcie urodzinowe dla 5 osób. Wykonaj obliczenia i uzupełnij rachunek.

PRODUKT	CENA
tort	45 zł
owoce	15 zł
czekolada	5 zł x 3 sztuki
soczek (mały kartonik)	2 zł x 5 sztuk
serwetki	5 zł
czapeczka na urodziny	4 zł x 5 sztuk
trąbki - tutki	3 zł x 5 sztuk
serpentyna	5 zł
balony	5 zł



RACHUNEK			
Produkt	Liczba	Cena	Wartość
.....	.....	.....	.....
.....	.....	.....	.....
.....	.....	.....	.....
.....	.....	.....	.....
.....	.....	.....	.....
<b>Razem</b> .....			.....

- 5** Ada ma w skarbonce tylko banknoty dziesięciozłotowe. Jaś ma w skarbonce 220 zł. Ada twierdzi, że ma o 50 zł więcej od Jasia. Ile złotych ma Ada?



Ada ma .....

Czy możesz zadać jeszcze inne pytanie do tego zadania?

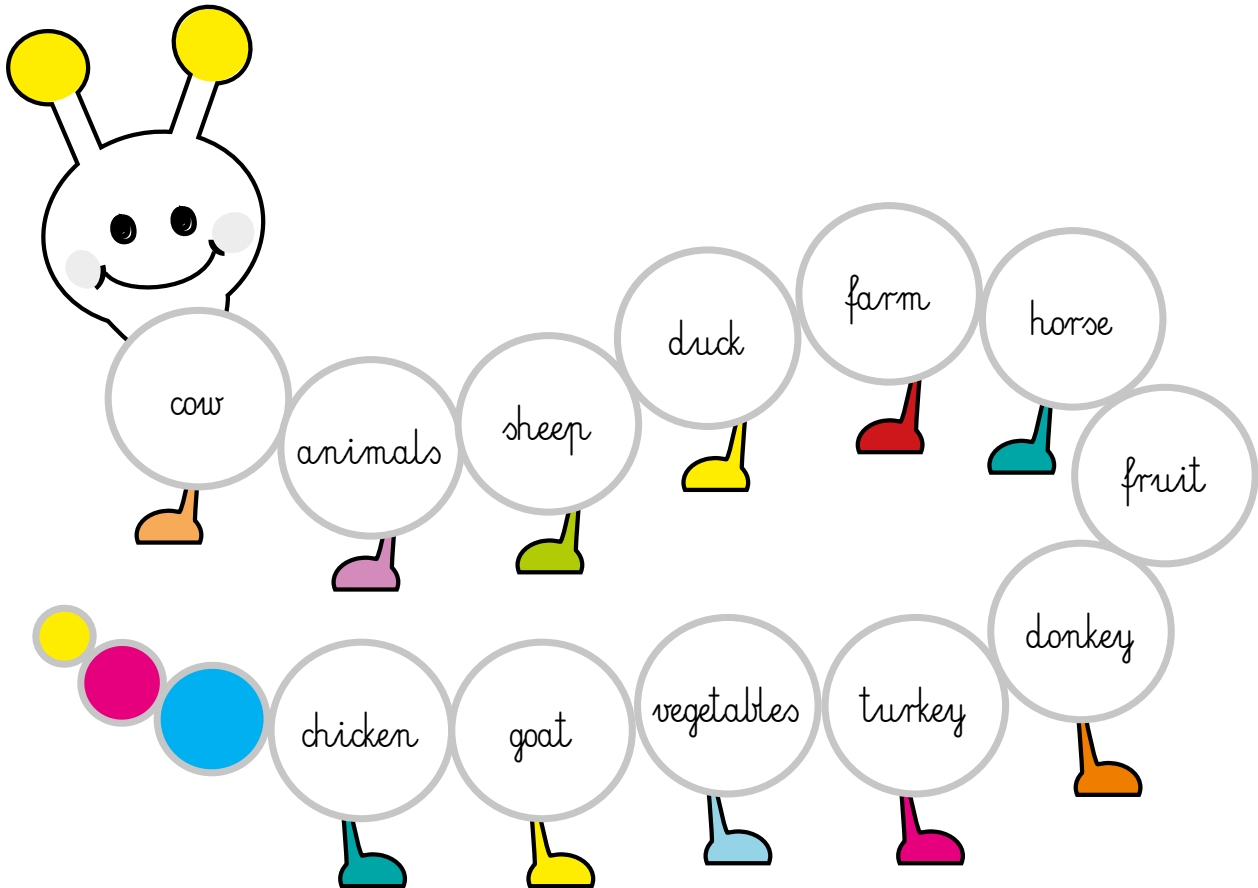


KARTA: .....

Z KLASY: .....

## Let's revise!

- 1 Listen, read and stick. Then play. Posłuchaj, przeczytaj i wklej. Następnie zagraj.



KAPITAŁ LUDZKI  
NARODOWA STRATEGIA SPÓJNOŚCI



OŚRODEK  
ROZWOJU  
EDUKACJI



UNIA EUROPEJSKA  
EUROPEJSKI  
FUNDUSZ SPOŁECZNY





KARTA: .....

Z KLASY: .....

2

Listen and circle. Posłuchaj i zakreśl.

1.



3.



5.



2.



4.



6.



3

Play Bingo. Zagraj w bingo.

B I N G O

cow	cucumber	fruit
meat	sheep	butter
vegetables	peas	animals






KARTA: .....

Z KLASY: .....



1 Look and write six sentences describing the picture. Popatrz i napisz sześć zdań opisujących obrazek.



Handwriting practice lines consisting of alternating blue and pink horizontal lines.

