



KARTA:

Z KLASY:

Nad Bałtykiem

1 Wykonaj działania zapisane na rybach. Znajdź wynik w tabeli i wpisz nad nim właściwą literę. Odczytaj hasło.

95	21	49	8	7	5	9	8	73	37	31	49	5	40	9	8	17
----	----	----	---	---	---	---	---	----	----	----	----	---	----	---	---	----

$63 : 9 =$ **O**

$74 - 25 =$ **A**

$25 : 5 =$ **Ł**

$45 : 9 + 48 =$ **D**

$5 \cdot 8 =$ **T**

$46 + 38 =$ **R**

$56 - 12 - 27 =$ **U**

$(17 + 15) : 8 =$ **L**

$56 : 7 =$ **K**

$64 - 43 =$ **M**

$54 : (65 - 56) =$ **Ż**

$36 : 4 =$ **Y**

$52 + 14 + 29 =$ **S**

$6 \cdot 5 + 43 =$ **I**

$56 : 7 + 29 =$ **Z**

$37 - 24 : 4 =$ **B**

$50 + 50 =$ **P**

$8 \cdot 8 - 36 =$ **E**

$5 \cdot (7 + 2) =$ **Ś**

$96 - 18 - 26 =$ **G**






KARTA:

Z KLASY:

Nad Bałtykiem

1 Rozwiąż krzyżówkę, a dowiesz się, jaką wspólną nazwę mają oceany i morza na Ziemi.



1											
2											
3											
4											
5											
6											
7											
8											
9											
10											
11											

1. Bajkowa postać z różdżką.
2. Wawelski.
3. Dom króla.
4. Mieszkaniec Grenlandii.
5. Chciała zostać żoną buraka.
6. Żaba chciała, aby nawłókł dla niej igłę.
7. Narząd wzroku.
8. Produkuje się go z trzciny cukrowej lub buraków cukrowych.
9. Ma go telewizor i kino.
10. Okrągły, zielony owoc z czerwonym soczystym mięszem w środku.
11. Nastaje po dniu.

2 Zapisz nazwy wszystkich oceanów występujących na Ziemi. Podkreśl nazwę największego z nich.





KARTA:

Z KLASY:

3 Wymień różnice między morzem a oceanem.

4 Uzupełnij tekst odpowiednimi wyrazami.

Morze Bałtyckie jest _____ wielkości, _____ morzem szelfowym. Należy ono do grupy mórz wewnątrzkontynentalnych. Należy też do mórz _____ słabo _____. Z Morzem Północnym łączy się przez _____. Do Morza Bałtyckiego wpada _____ rzek. Bałtyk ze względu na swoje położenie jest morzem silnie _____.

5 Wymień typy wybrzeży Bałtyku.

6 Napisz, co jest symbolem parków narodowych położonych nad Bałtykiem.

Symbolem Słowińskiego Parku Narodowego jest _____. Na znaku będącym symbolem Wolińskiego Parku Narodowego znajduje się _____.

7 Zapisz w tabeli po 2 przykłady flory i fauny obu parków.

Woliński Park Narodowy	Słowiński Park Narodowy





KARTA:

Z KLASY:



School rules!

1 Look and read. Popatrz i przeczytaj.



I like my school very much. My teacher is nice and I've got a lot of friends in school. My classroom is big and colourful. There is a board and there are some chairs and desks in my classroom. These are our school rules:

- Don't be late!
- Don't cheat!
- Listen to your teacher!
- Don't chew a gum!
- Don't talk!
- Say 'good morning'!
- Study!
- Don't run in corridors!

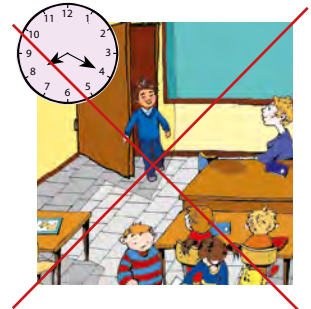






KARTA:

Z KLASY:

2 Look and write. Popatrz i napisz.



3 Say the words and circle the odd one out. Powiedz słowa i wykreśl te, które nie pasują.

1. talk run walk clock
2. doll ball cow small
3. cheat meat swim read
4. train plane car rain

4 Speak. Powiedz.

Imagine you are a headmaster. What are the rules in your school?




KARTA:

Z KLASY:



1 Find the rules and write. Odnajdź zasady (zachowania w szkole) i napisz je.



2 Match the words that sounds similar. Połącz wyrazy, które brzmią podobnie.

doll walk meat

clock cheat talk train

rain small read

plane ball

