



KARTA:

Z KLASY:



Sprawdzian

1 Kto jest autorem obrazu „Konstytucja 3 Maja 1971 roku”?

- A. Jan Matejko.
- B. Wojciech Kossak.
- C. Antoni Malczewski.

2 Kto jest autorem hymnu Polski?

- A. Henryk Dąbrowski.
- B. Józef Wybicki.
- C. Jan Matejko.

3 Uzupełnij tekst.

W maju obchodzimy dwa święta narodowe. Przypadają one w dniach _____ i _____ maja.

Polskie zabytki wpisane na listę UNESCO znajdują się między innymi w _____ i _____.

4 Wyjaśnij znaczenie wyrazów.

emigracja – _____

nostalgia – _____



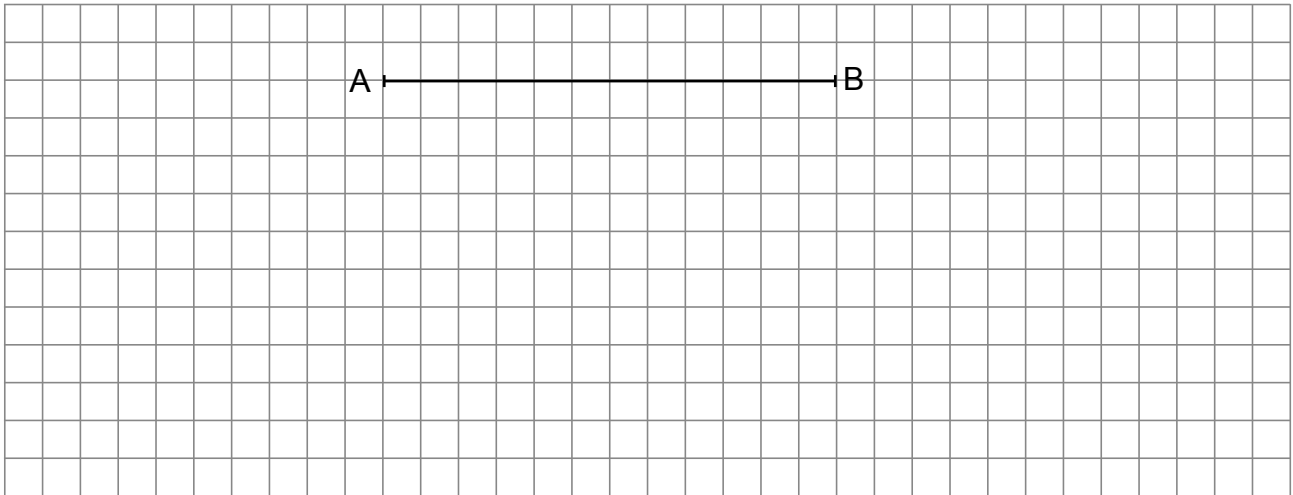


KARTA:

Z KLASY:


Nasze małe i duże problemy

- 1 Zmierz długość odcinka AB i wykonaj polecenia.



- Narysuj odcinek CD o 4 cm dłuższy od odcinka AB.
- Narysuj odcinek EF o 5 cm krótszy od odcinka CD.
- Narysuj odcinek GH o długości równej sumie odcinka AB i EF.

- 2 Narysuj prostą o długości 8 cm. Oznacz ją w dowolny sposób. Narysuj dwie niebieskie proste prostopadłe i dwie zielone proste równoległe do tej prostej.






KARTA:


Z KLASY:

3 Wykonaj polecenia.

- Narysuj brązową linię łamaną zamkniętą, składającą się z siedmiu odcinków.
- Narysuj żółtą linię łamaną otwartą krótszą o dwa odcinki od linii łamanej zamkniętej.



4 Pokoloruj figury, które mają jedną lub kilka osi symetrii.



5 Oblicz obwód narysowanego prostokąta i narysuj drugi prostokąt, o obwodzie krótszym o 6 cm. Narysuj prostokąt tak, aby dłuższy bok był położony poziomo, a krótszy pionowo.

