



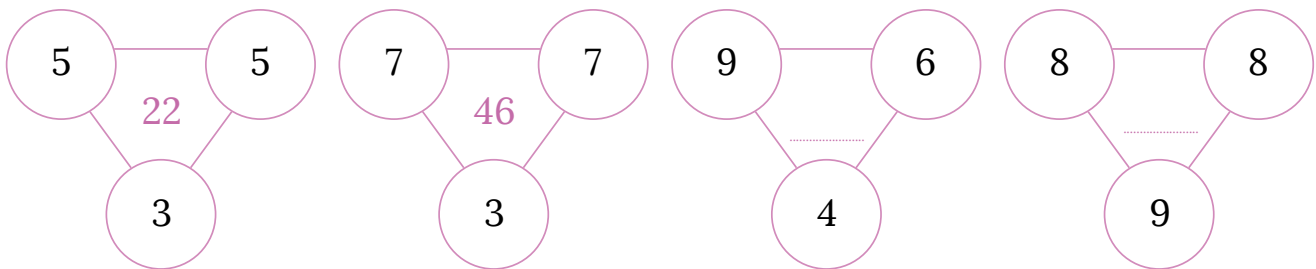
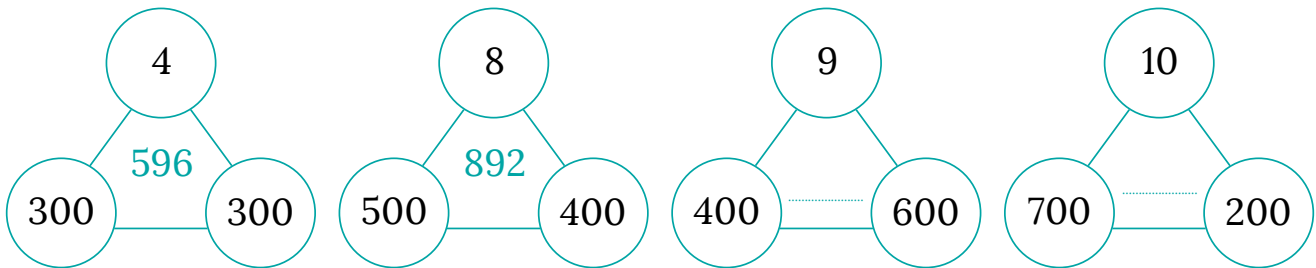
KARTA: .....

Z KLASY: .....



## Sprawdzian

- 1 Ustal, według jakiej zasady zapisano kolorowe liczby w diagramach. Uzupełnij następne diagramy według tej samej zasady.



- 2 Zamaluj tym samym kolorem tabliczki, które pokazują taki sam upływ czasu.

1 godzina

60 minut

15 minut

4 kwadransy

45 minut

1 kwadrans

pół godziny

24 godziny

3 kwadransy

30 minut

1 doba

2 kwadransy







KARTA: .....

Z KLASY: .....

## Palcem po mapie


- 1 Zamaluj na mapce państwa, które tworzą Unię Europejską.





KARTA: .....  
 Z KLASY: .....

2 Połącz budowlę z nazwą państwa, w którym się ona znajduje.



Francja

Grecja

Niemcy

3 Połącz ramki z pasującymi do siebie informacjami.

Alfred Nobel

Szwedzka pisarka, autorka książki „Dzieci z Bullerbyn”

Johann Strauss

Astronom, który udowodnił, że Ziemia krąży wokół Słońca.

Mikołaj Kopernik

Szwedzki wynalazca dynamitu. Fundator nagrody.

Astrid Lindgren

Muzyk na dworze cesarza Austrii. Twórca najpiękniejszych walców, m.in. „Nad pięknym modrym Dunajem”.





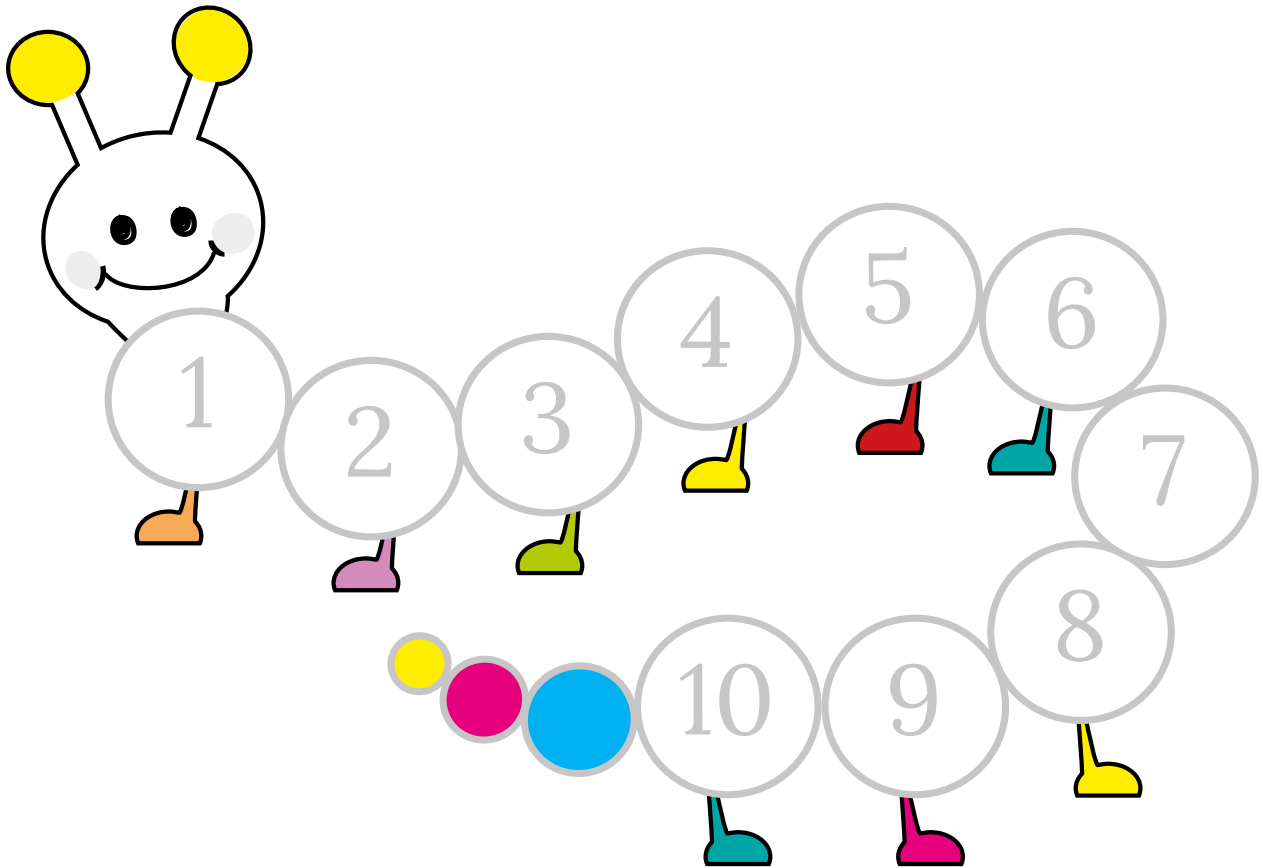
KARTA: .....

Z KLASY: .....



## Let's revise!

1 Listen and stick. Then play. Posłuchaj i wklej. Następnie zagraj.



KAPITAŁ LUDZKI  
NARODOWA STRATEGIA SPÓJNOŚCI



OŚRODEK  
ROZWOJU  
EDUKACJI



UNIA EUROPEJSKA  
EUROPEJSKI  
FUNDUSZ SPOŁECZNY





KARTA: .....

Z KLASY: .....

2 Listen and circle. Posłuchaj i zakreśl.








3 Play Bingo. Zagraj w bingo.



lizard	parrot	village
town	aunt	rat
uncle	cousin	city







KARTA: .....

Z KLASY: .....



1 Look and write. Popatrz i napisz.



2 Look. Popatrz.

