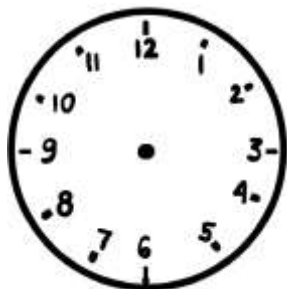
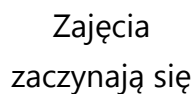




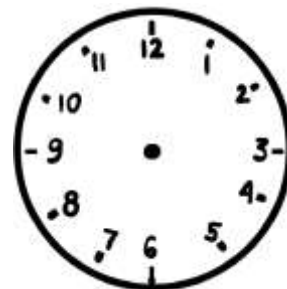
Karta pracy – Zegar – plan zawodów

Zajęcia na basenie zaczynają się o godzinie 10.00, a kończą się o godzinie 12.00. Oblicz, ile godzin trwają zajęcia na basenie?

Zaznacz na tarczy zegara odpowiednią godzinę.



Zajęcia kończą się



Rozwiązanie:

[illegible]

Odpowiedź:

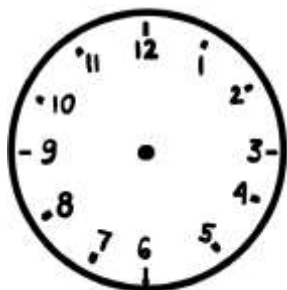
[illegible]



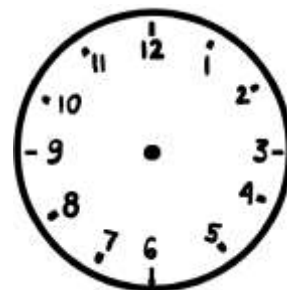
Zadanie 2

Wyścigi zaczynają się o godzinie 8.00, a kończą się o godzinie 11.00. Ile godzin trwają wyścigi?
Zaznacz na tarczy zegara odpowiednią godzinę.

Wyścig zaczyna
się



Wyścig kończy się



Rozwiązanie:

[illegible]

Odpowiedź:


[illegible]




Zadanie 3

O której godzinie Piotrek skończy trening?:

od 10:00



do



Rozwiązanie:

[illegible]

Odpowiedź:

[illegible]