

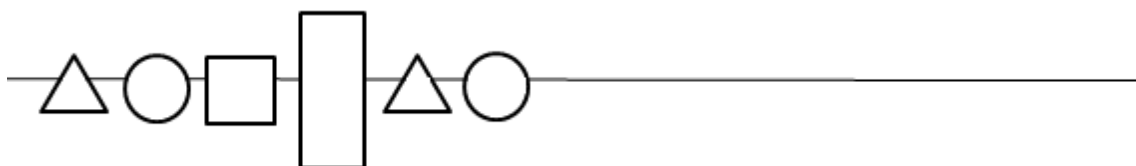


Projekt współfinansowany przez Unię Europejską w ramach Europejskiego Funduszu Społecznego.

TEST SPRAWDZAJĄCY Nr 6

Zadanie 1.

Rysuj dalej zgodnie z podanym rytmem:



Zadanie 2.

W spiżarni na półce stoją słoje z kompotami na półkach. Jedna półka jest już wypełniona. Dorysuj na kolejnych półkach tyle kompotów, aby na każdej półce było ich po tyle samo.






Projekt współfinansowany przez Unię Europejską w ramach Europejskiego Funduszu Społecznego.

Zadanie 3.

Zaznacz czerwoną pętlą zbiór czapek, a zieloną czapki i szaliki w paski. Pokoloruj część wspólną.



Zadanie 4.

Dopisz właściwe liczby, których brakuje na osi.





KAPITAŁ LUDZKI
CZŁOWIEK – NAJLEPSZA INWESTYCJA!

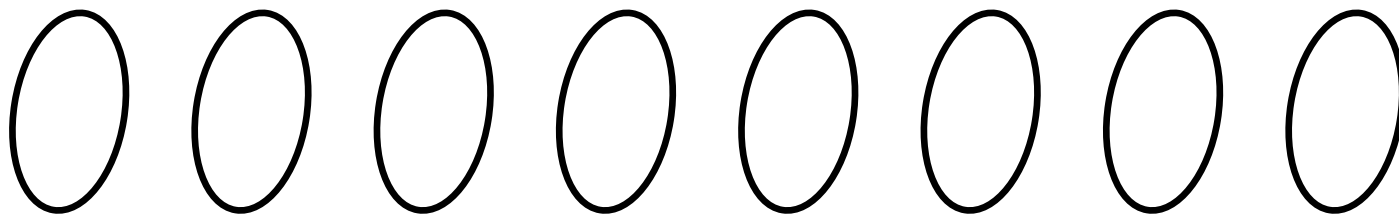
UNIA EUROPEJSKA
EUROPEJSKI
FUNDUSZ SPOŁECZNY



Projekt współfinansowany przez Unię Europejską w ramach Europejskiego Funduszu Społecznego.

Zadanie 5.

Narysuj w dziupli tyle orzechów, ile wskazuje cyfra. Wpisz między nimi właściwe znaki < ; > ; =.



1

1

2

3

4

5

6

5



Zadanie 6. (dodatkowe)

Rozwiąż zadanie.

W koszyku były 4 orzechy. Jaś dołożył jeszcze 4. Oblicz, ile orzechów jest w koszyku. Rozwiąż zadanie i uzupełnij odpowiedź.

Rysunek:

[illegible]

Działanie:

[illegible]

Odpowiedź: W koszyku jest orzechów.

Liczba uzyskanych punktów:

Ocena nauczyciela:



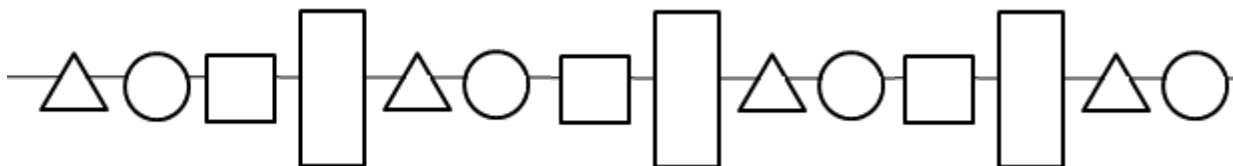
Projekt współfinansowany przez Unię Europejską w ramach Europejskiego Funduszu Społecznego.

INFORMACJE O TEŚCIE SPRAWDZAJĄCYM NR 3

Sprawdzian z edukacji matematycznej w klasie pierwszej – rytmy, zbiory część wspólna, zbiory dopełnianie, cyfry 0 – 6, znaki. Sprawdzian przeprowadzamy na koniec listopada.

Zadanie 1

Rysuj dalej zgodnie z podanym rytmem:



Zadanie 2

W spiżarni na półce stoją słoje z kompotami na półkach. Jedna półka jest już wypełniona. Dorysuj na kolejnych półkach tyle kompotów, aby na każdej półce było ich po tyle samo.



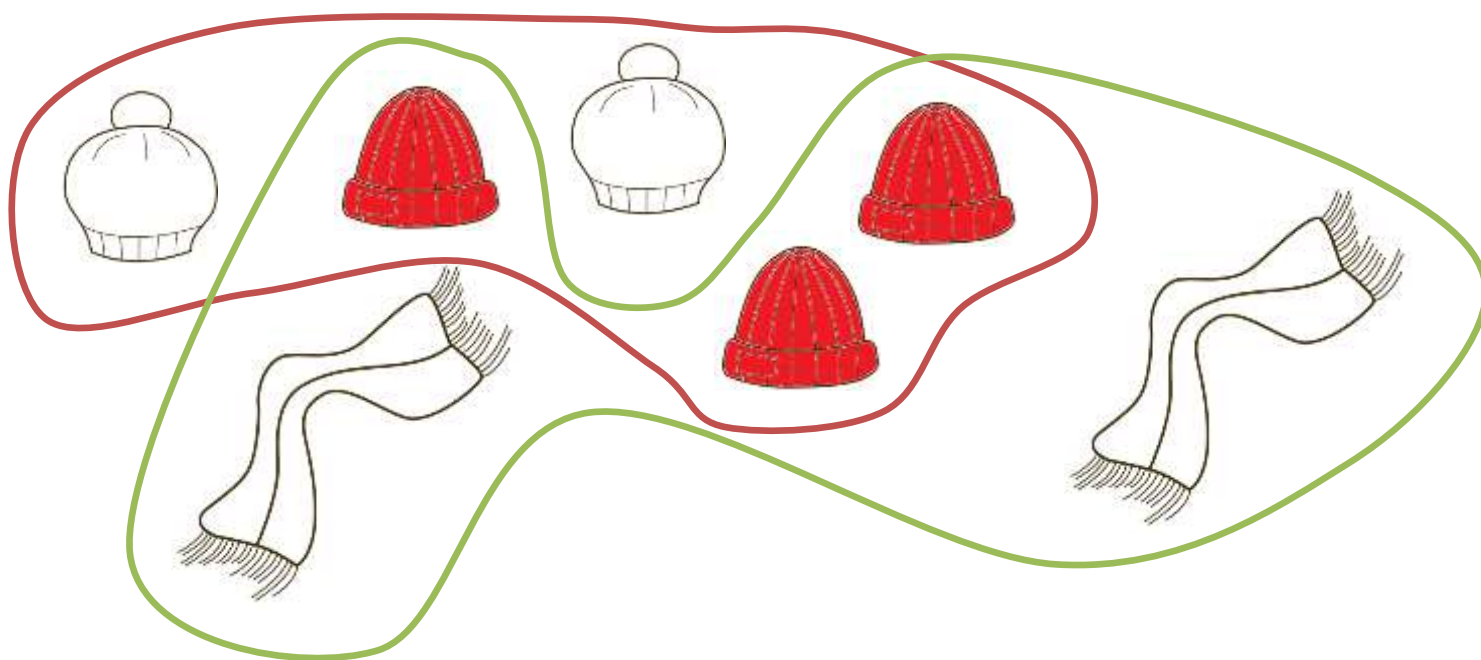


Projekt współfinansowany przez Unię Europejską w ramach Europejskiego Funduszu Społecznego.



Zadanie 3

Zaznacz czerwoną pętlą zbiór czapek, a zieloną czapki i szaliki w paski. Pokoloruj część wspólną.



Zadanie 4

Dopisz właściwe liczby, których brakuje na osi.

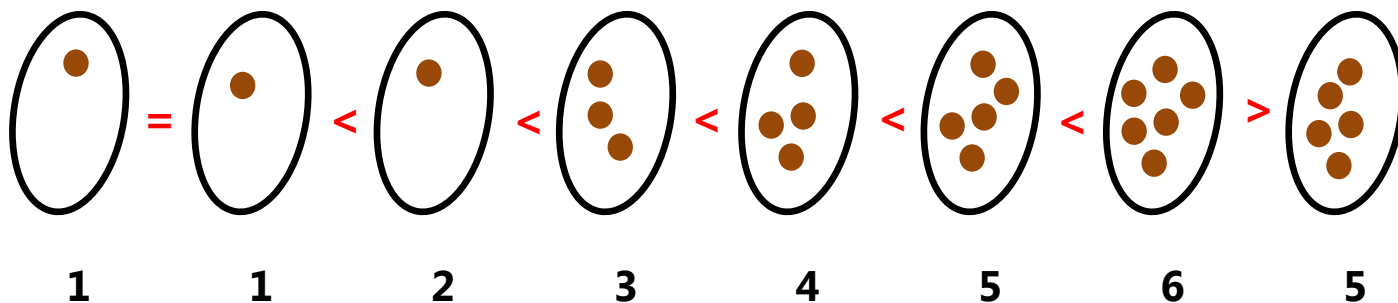




Projekt współfinansowany przez Unię Europejską w ramach Europejskiego Funduszu Społecznego.

Zadanie 5

Narysuj w dziupli tyle orzechów, ile wskazuje cyfra. Wpisz między nimi właściwe znaki $<$; $>$; $=$.




Zadanie 6 (dodatkowe)

Rozwiąż zadanie.

W koszyku były 4 orzechy. Jaś dołożył jeszcze 4. Oblicz, ile orzechów jest w koszyku. Rozwiąż zadanie i uzupełnij odpowiedź.

Rysunek:



Działanie: $4 + 4 = 8$

Odpowiedź: W koszyku jest 8 orzechów.

Projekt współfinansowany przez Unię Europejską w ramach Europejskiego Funduszu Społecznego.

Punktacja:

Zad. 1 – 1 pkt

Zad. 2 – 2 pkt

Zad. 3 – 2 pkt

Zad. 4 – 1 pkt

Zad. 5 – 4 pkt

Zad 6 – bez punktów

Maksymalna suma pkt – 10

Poziomy:

10 - 9 pkt – poziom wysoki

8 – 6 pkt – poziom średni

5 pkt i mniej – poziom niski