



Projekt współfinansowany przez Unię Europejską w ramach Europejskiego Funduszu Społecznego.

Klasa: I	Miesiąc - wrzesień
Imię i nazwisko ucznia:	

TEST SPRAWDZAJĄCY Nr 4

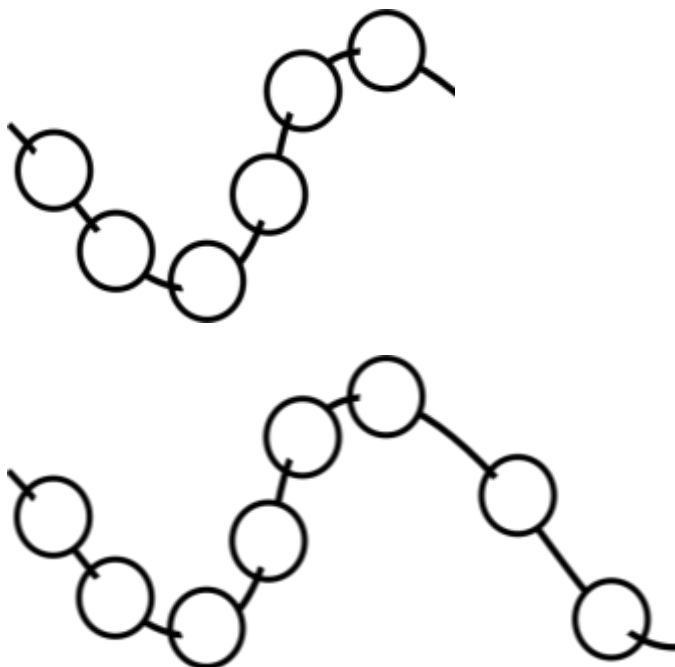
Zadanie 1

Pokoloruj na żółto pierwsze jabłko, na czerwono czwarte, na zielono szóste.



Zadanie 2

Pokoloruj na czerwono sznur z 6 koralami, na zielono z 8 koralami.









Projekt współfinansowany przez Unię Europejską w ramach Europejskiego Funduszu Społecznego.

Zadanie 3

Uzupełnij tabelkę według wzoru.

Zadanie 4

Policz zabawki na półkach. Narysuj w ramkach tyle kółek, ile jest samochodów, klocków i piłek.

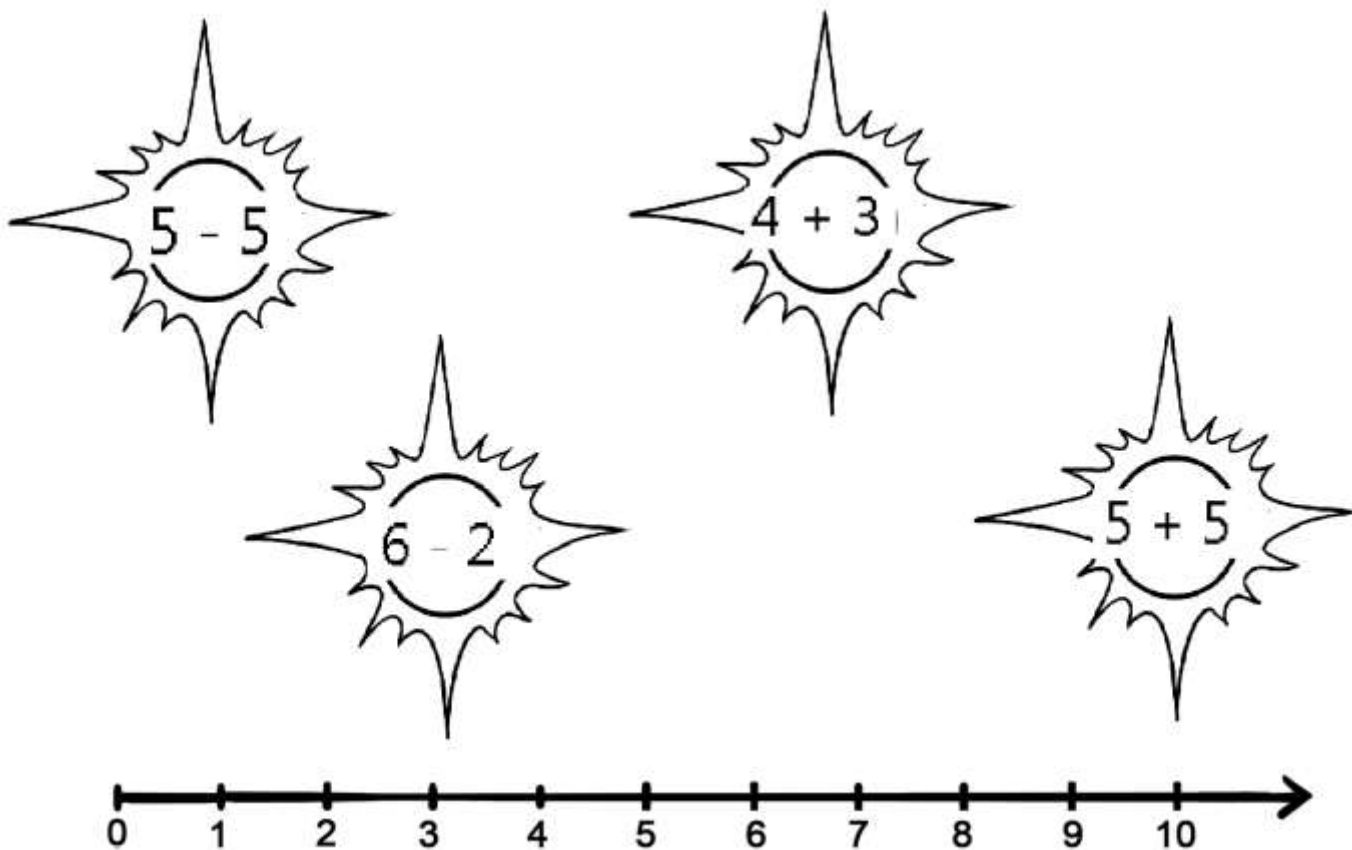




Projekt współfinansowany przez Unię Europejską w ramach Europejskiego Funduszu Społecznego.

Zadanie 5 (dodatkowe)

Oblicz działania znajdujące się w słoneczkach. Połącz słoneczka z liczbą na osi liczbowej odpowiadającą uzyskanemu wynikowi.



Liczba uzyskanych punktów:

Ocena nauczyciela:





Projekt współfinansowany przez Unię Europejską w ramach Europejskiego Funduszu Społecznego.

INFORMACJE O TEŚCIE SPRAWDZAJĄCYM NR 1

Sprawdzian z edukacji matematycznej w klasie pierwszej – przeliczanie w zakresie 10.

Zadanie 1

Pokoloruj na żółto pierwsze jabłko, na czerwono czwarte, na zielono szóste.

0 punktu za błędnie wykonane zadanie, 1 punkt za poprawnie wykonane zadanie

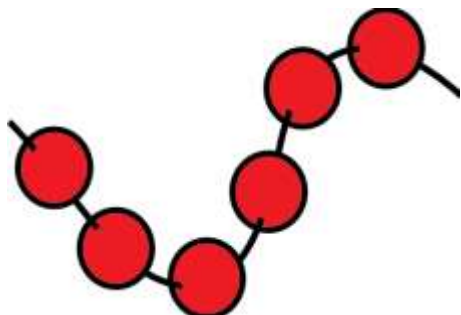


Zadanie 2

Pokoloruj na czerwono sznur z 6 koralami, na zielono z 8 koralami.

0 punktów za błędnie wykonane zadanie

1 punkt za poprawnie wykonane zadanie



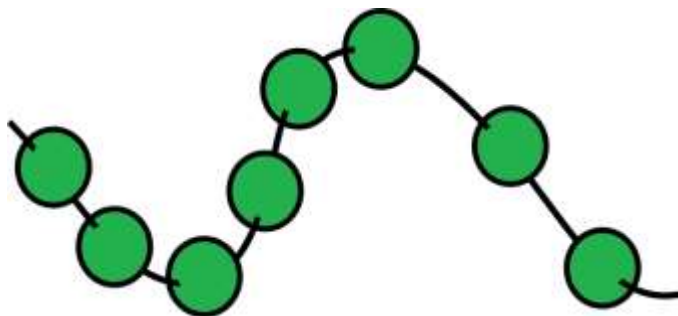


KAPITAŁ LUDZKI
CZŁOWIEK – NAJLEPSZA INWESTYCJA!

UNIA EUROPEJSKA
EUROPEJSKI
FUNDUSZ SPOŁECZNY



Projekt współfinansowany przez Unię Europejską w ramach Europejskiego Funduszu Społecznego.





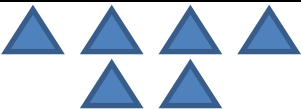






Zadanie 3

Uzupełnij tabelkę według wzoru.

0 punktów za błędnie wykonane zadanie

1 punkt za poprawnie wykonane każde działanie

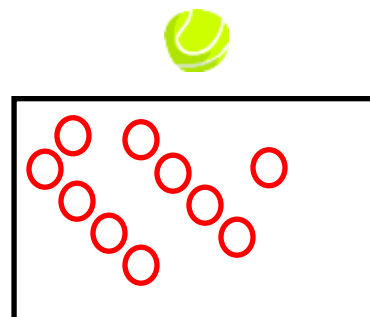
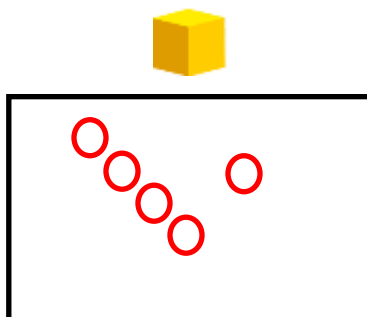
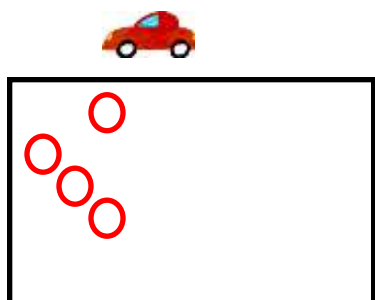
Zadanie 4

Policz zabawki na półkach. Narysuj w ramkach tyle kółek, ile jest samochodów, klocków i piłek.

0 punktów za błędnie wykonane zadanie.

1 punkt za poprawnie wykonane każde działanie.

Projekt współfinansowany przez Unię Europejską w ramach Europejskiego Funduszu Społecznego.



Zadanie 5 (dodatkowe)

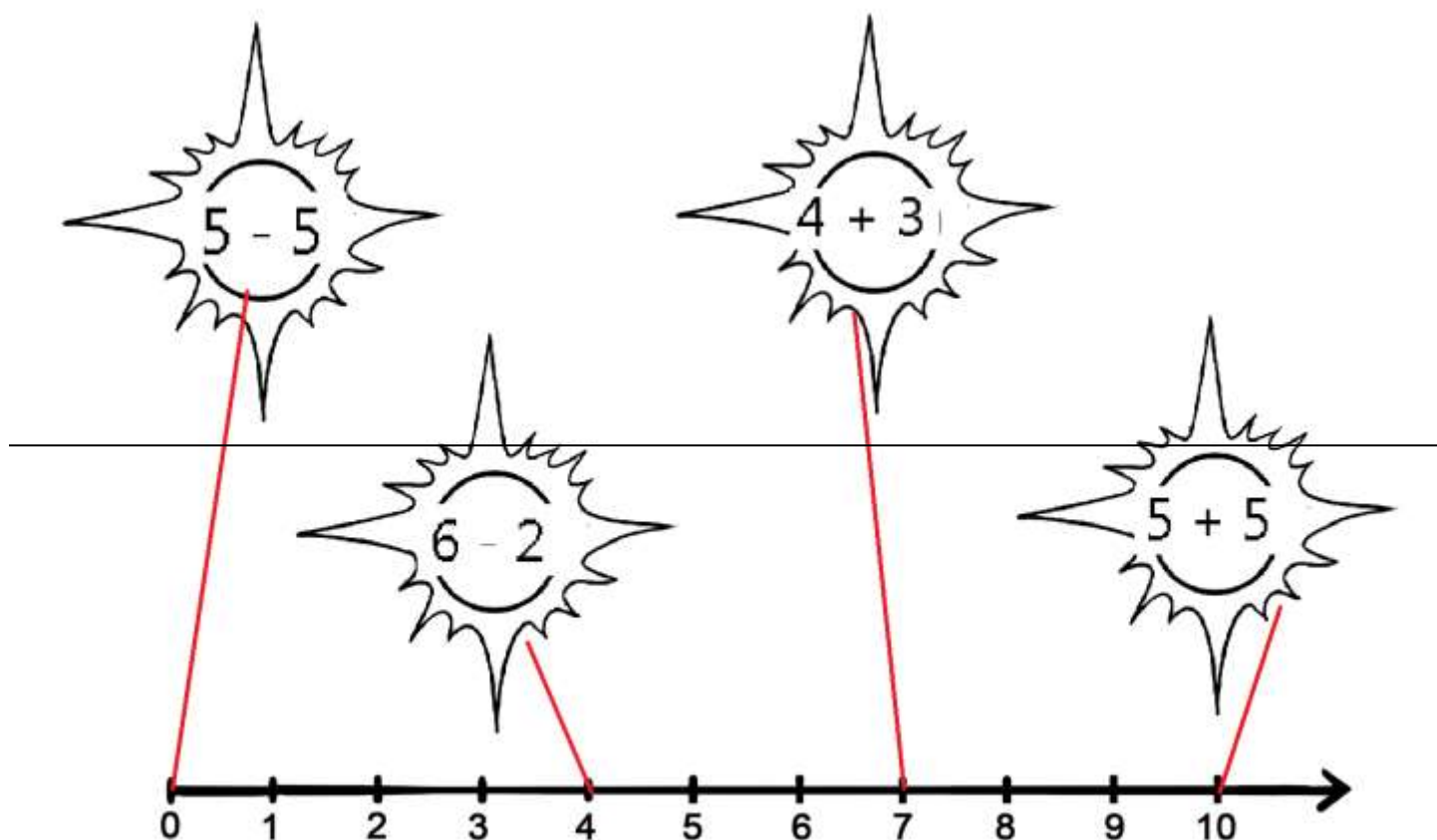
Oblicz działania znajdujące się w słoneczkach. Połącz słoneczka z liczbą na osi liczbowej odpowiadającą uzyskanemu wynikowi.

Jest to zadanie, które pozwala uzyskać dodatkowe punkty na szóstkę albo ustaloną w szkole najwyższą ocenę.

Za to zadanie przyznajemy 1 punkt za każde poprawnie wykonane działanie.



Projekt współfinansowany przez Unię Europejską w ramach Europejskiego Funduszu Społecznego.



Punktacja:

Zad. 1 – 1 pkt

Zad. 2 – 1 pkt

Zad. 3 – 2 pkt

Maksymalna suma pkt. – 7

Poziomy:

7 - 6 pkt – poziom wysoki

5 – 4 pkt – poziom średni

3 pkt i mniej – poziom niski

Punktacja do zadania dodatkowego: 1 punkt za każde poprawnie wykonane działanie.

Zadanie o wyższym stopniu trudności. Nie wprowadzone są jeszcze znaki +, -.