



Dobrze poukładany człowieczek

	a	b	c		
	d		////// //////	e	f
gg			h		i
	j			k	l
ł					m





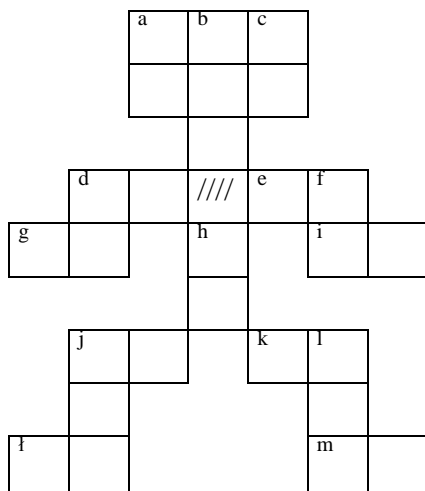
	POZIOMO		PIONOWO
d)	$5\frac{1}{4} \cdot 3\frac{1}{3} : \frac{1}{10} - 86 =$	a)	Oblicz czwartą część sumy wszystkich dzielników liczby 28.
e)	Która liczba jest większa? $0,12 \cdot 100 \dots\dots 112 : 100$	b)	$\frac{-32 : 2}{2 + (-10)} \cdot 257 : 2 =$
g)	Okresem ułamka $\frac{34}{99}$ jest liczba ...	c)	$8 \cdot (5\frac{1}{2} - 1\frac{5}{8}) + 5 =$
i)	$4 \cdot (4\frac{1}{2} : 0,3) + 2\frac{4}{5} \cdot 2,5 =$	d)	$(-11) \cdot (-8) - 4 =$
j)	$(-121 - 19) : (-4) + (-26 - 86) : (-2) =$	f)	Suma wszystkich dzielników liczby 12 pomniejszona o 2.
k)	Oblicz połowę z $\frac{2}{5}$ liczby 115	h)	$\frac{2}{3}$ liczby 87 =
l)	$20\frac{1}{3} + 40\frac{3}{5} + 3\frac{8}{15} : \frac{1}{2} - 1 =$	j)	$234,5 : 0,25 + 9 =$
m)	$(-10) \cdot (-10) - 0,22 : 0,02 =$	l)	Zapis rzymski liczby zamień na arabski: CCCLVIII



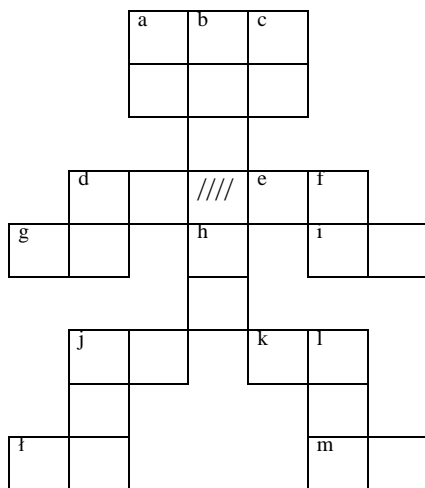


Małe krzyżówki dla uczniów do wykorzystania jako zadania domowe

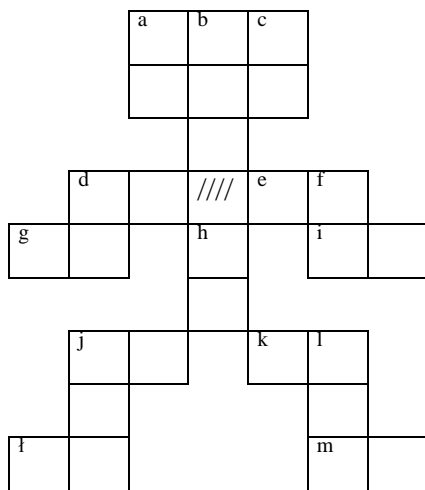
„dobrze poukładany człowieczek”



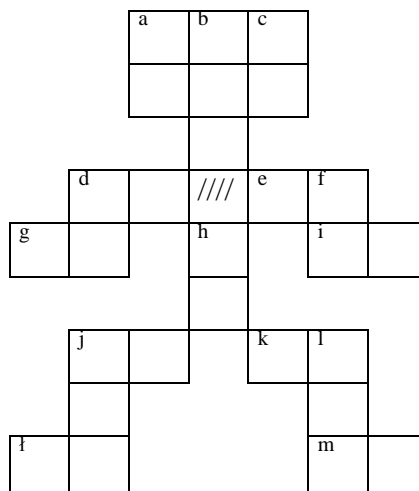
„dobrze poukładany człowieczek”



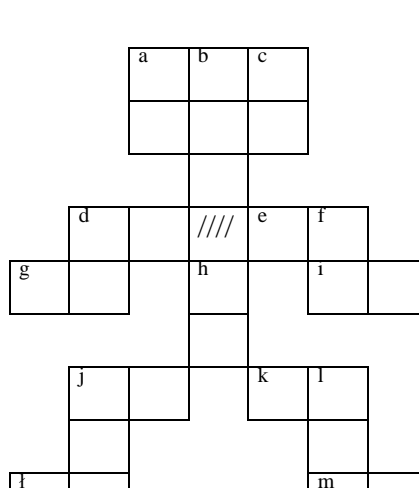
„dobrze poukładany człowieczek”



„dobrze poukładany człowieczek”



„dobrze poukładany człowieczek”



„dobrze poukładany człowieczek”

