

## LICZMANEK SPRAWDZA NASZE WIADOMOŚCI I UMIEJĘTNOŚCI



część 2/2

Praca ucznia/uczennicy .....

Zad. 1

ta pla ne ma zi wy wa pra do lo wis ko

.....


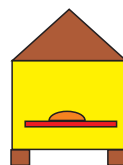

.....

.....

.....

Zad. 2

k . ra g . rał kr . tik . l g . ra



Zad. 3

bałwana. Adam dużego i ulepili Ola


.....

.....

.....

.....

Zad. 4



Zad. 5

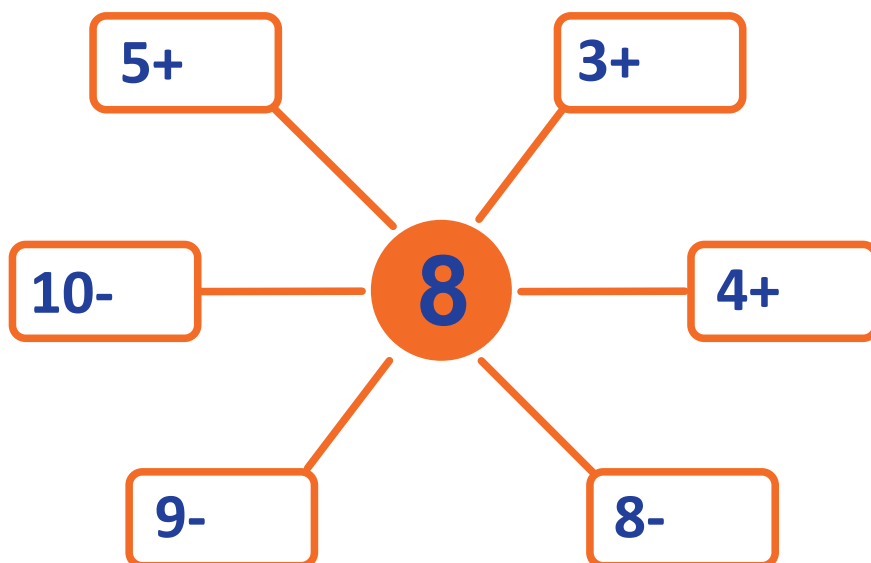


Test 2/2

Klasa I - luty - blok 4 - dzień I



Zad. 6



Zad. 7

**2, 4, 6, ..., ..., 12**

Test 2/2

Klasa I - luty - blok 4 - dzień I

Zad. 8

	5	3
6	3	
	2	6

Zad. 9

+3 ↻	3	2	7				-3 ↻
				8	3	10	

Zad. 10

1	2	3	4	5	6	7	8	9	10	11	12
								IX			



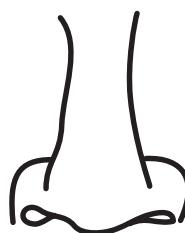

Zad. 11

**Kasia ma kota, psa i kanarka. Mieszka w górach.  
Ile nóg mają razem te zwierzęta?**

Rozwiązanie: .....

Odpowiedź: Razem mają .....

## Zad. 12



### Zad. 13






### Zad. 14



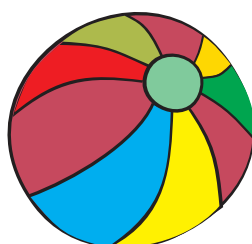

Test 2/2

Klasa I - luty - blok 4 - dzień I

## Zad. 15



## Zad. 16



## Zad. 17


1)



2)



3)



4)





LICZMANEK SPRAWDZA  
NASZE WIADOMOŚCI I UMIEJĘTNOŚCI

część 2/2

Instrukcja dla nauczyciela

**Wszystkie polecenia czyta nauczyciel.**

Słuchajcie uważnie czytanych poleceń. Pracujcie samodzielnie! Powodzenia!

**Zadanie 1.**

Ułóż wyrazy z podanych sylab i zapisz je.

(ta pla ne ma zi wy wa pra do lo wis ko)

**Zadanie 2.**

Uzupełnij brakujące litery w podanych wyrazach.

Kura, góral, królik, ul, góra

**Zadanie 3.**

Z podanych wyrazów ułóż zdanie i zapisz je

Bałwana. Adam dużego i ulepili Ola

**Zadanie 4**

Zmierz linijką długość drogi Liczmanka od domu do szkoły. Wynik wpisz w odpowiednie miejsce.

**Zadanie 5.**

Policz, kto ma więcej pieniędzy. Przy imieniu tej osoby narysuj kwiatek.

**Zadanie 6**

Wpisz brakujące liczby.

**Zadanie 7.**

Wpisz kolejne liczby.

2, 4, 6, ..., ..., 12

**Zadanie 8.**

Uzupełnij magiczny kwadrat. Wpisz takie liczby, aby po dodaniu do siebie 3 pionowo lub 3 poziomo był zawsze taki sam wynik.

	5	3
6	3	
	2	6

**Zadanie 9.**

Uzupełnij tabelkę. Wykonaj dodawanie lub odejmowanie.

+3 ↻	3	2	7				-3 ↻
				8	3	10	

**Zadanie 10.**

Pod cyfrą arabską wpisz cyfrę rzymską.

1	2	3	4	5	6	7	8	9	10	11	12
								IX			

**Zadanie 11.**

Rozwiąż zadanie.

**Zadanie 12.**

Połącz obrazki ze zmysłem, z którym one Ci się kojarzą.

**Zadanie 13.**

Otocz pętlą zwierzęta leśne.

**Zadanie 14.**

Zaznacz pętlą imię osoby, która wcześniej obchodzi urodziny.

**Zadanie 15.**

Otocz pętlą przedmioty, które możemy włożyć do plecaka obserwatora przyrody.

**Zadanie 16.**

Postaw znak x przy przedmiotach, które mogą się znaleźć w kąciku przyrodniczym.

**Zadanie 17.**

Otocz pętlą symbole, którymi zaznaczysz pogodę w pochmurny, dzień zimowy.

**Uwaga!**

Nauczyciel sam wg założeń szkolnego WSO, stosownie do grupy uczniów i własnych wymagań dobiera punktację i sposób oceny pracy ucznia.