

Sprawdzian

Klasa 2 - marzec - blok 4 - dzień 5

Sprawdzian Liczmanka nr 14

Zadanie 1

Na podstawie przedstawionego kalendarza - uzupełnij tabelkę wiedząc, że poniedziałek był najzimniejszym dniem w tygodniu z opadami śniegu z deszczem.



DZIEŃ TYGODNIA	TEMPERATURA	ZACHMURZENIE	OPADY
PONIEDZIAŁEK			
WTOREK	3°C		
ŚRODA	2°C PONIŻEJ ZERA		
CZWARTEK	3°C PONIŻEJ ZERA		
PIĄTEK	2°C		
SOBOTA	4°C		
NIEDZIELA	5°C		

/3p.

Sprawdzian

Klasa 2 - marzec - blok 4 - dzień 5

Zadanie 2

Na podstawie tabelki z zadania 1 opisz w kilku zdaniach.

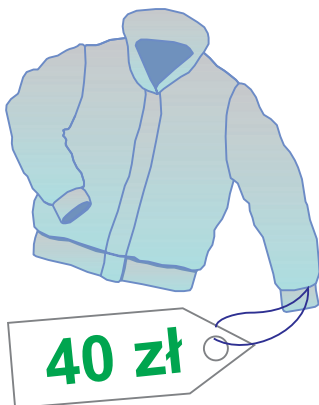
1. Jaka była pogoda w poniedziałek?

2. W których dniach słupek rtęci nie przekroczył 0°C ?

/2p.

Zadanie 3 Rozwiąż zadanie.

Popatrz na ceny wiosennych ubrań. Ułóż działania do pytań i napisz odpowiedzi.



Ile trzeba zapłacić za kaszkiet i trampki?

[illegible]

Ile trzeba zapłacić za kurtkę i kaszkiet?

[illegible]

/4p.

Sprawdzian

Klasa 2 - marzec - blok 4 - dzień 5

Zadanie 4

Przeczytaj zadanie. Rozwiąż je i zapisz odpowiedź.

Mama posadziła w ośmiu rzędach po pięć cebulek tulipanów. Ile tulipanów posadziła mama?

[illegible]




/2p.


Zadanie 5

Oblicz i wpisz odpowiednie znaki: <, >, =.

Podkreśl iloczyny większe od 30, a mniejsze od 36

6x3  7x4

7x5  6x6

8x4  4x8

$$6 \times 7 \quad \square \quad 5 \times 8$$

/3p

Zadanie 6 Wstaw takie liczby, aby wyniki działań były równe 6

**30 :


 = 6**

18 :

= 6

**24 :

 = 6**

36 :  **= 6**

12 :

= 6

48 :

 = 6

/3p.

Razem

/17 p.