

## Sprawdzian końcoworoczny Liczmana nr 20



### Część III

1. Napisz, jaka to liczba?

2d. 3j. —

11/11/2019

0d. 7j. —

--	--

2d. 0j. —

--

7j. 3d. —

--

**2. Ułóż pytanie do zadania i rozwiąż je.**

Ania miała w skarbonce 5 dwuzłotowych monet. Wyjęła ze skarbonki jedną monetę.

Ile .....  
.....

[illegible]

Odp.

---

---

---

---

3. Oblicz, a następnie połącz strzałkami działania z wynikami. W pustą kratę wpisz brakujące działanie.

**5x6**

4x7

## 6x6

28

30

42

36

25

40

## 5x5

7x6

11/11/2019

4. Pomóż Liczmankowi znaleźć drogę do sanek. Wykonaj działania, a następnie pokoloruj na niebiesko pola z wynikiem równym 5.



	$14:2$	$36:6$	$4 \times 6$
$25:5$	$15:3$	$30:5$	$5 \times 7$
$24:2$	$20:4$	$30:6$	$4 \times 9$
$2 \times 3$	$3 \times 9$	$1 \times 5$	$35:7$
$21:3$	$5 \times 8$	$42:7$	



5. Rozwiąż matematyczne zagadki i napisz odpowiedź.

a) Pomyślałam sobie pewną liczbę, dodałam do niej 25, a następnie odjęłam 15 i otrzymałam 35.

O jakiej liczbie myślałam?

Ta liczba to

b) Jeżeli od liczby, o której myślę odejmę 15, potem dodam do wyniku 17, a następnie odejmę 12 to otrzymam 10. O jakiej liczbie myślę?

Ta liczba to

6. Uzupełnij tabelkę kolejnymi liczbami rzymskimi i arabskimi.

I					VI						
1		3									

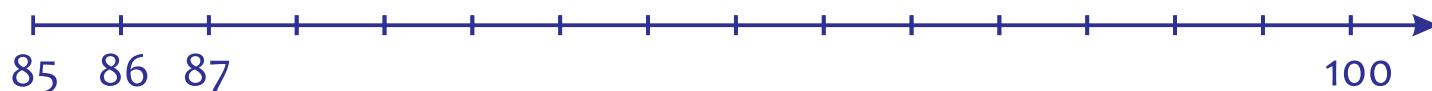
**7. Rozwiąż zadanie i napisz odpowiedź.**

W ogrodzie rośło 45 główek kapusty. Ogrodnik dosadził 18 główek, ale 6 z nich się nie przyjęło. Ile główek kapusty rośnie w ogrodzie?


[illegible]

Odp.

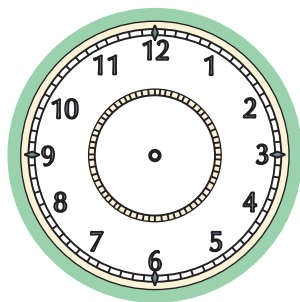
**8. Uzupełnij liczby na osi liczbowej.**




**9. Zaznacz godziny na zegarach.**




wpół do ósmej



czternasta dwadzieścia



za 10 piąta




dwunasta

**10. Przeczytaj polecenia i wykonaj ćwiczenia.**

a) Zmierz i zapisz długość odcinka AB. Narysuj odcinek CD o 2 cm krótszy.



b) Zaznacz najdłuższą linię łamaną na niebiesko, najkrótszą na zielono.  
Narysowane trzy linie łamane o różnej długości.



#### Część IV

1. Uzupełnij zdania. Możesz skorzystać ze zgromadzonego w ramce słownictwa.



**Ssaki, dwie, cztery, ptaki, rodzi się, pióra, sierść, wykluwa się z jaj, mlekiem.**

Kot i pies to ..... Ich potomstwo .....

..... i żywi się ..... matki.

Ciało ssaków pokrywa .....

Mają ..... nogi.

Kury i kaczki to ..... , bo ich potomstwo.....

.....

Ciało ptaków pokrywają .....

Mają ..... nogi, dziób i skrzydła.

2. Odpowiedz na pytania. Dokończ zdania.

a) Jak się nazywa przyrząd do pomiaru temperatury?

---

---

---

---

b) Do czego służy deszczomierz?

---

---

---

---

c) Pomiaru siły i kierunku wiatru dokonujemy za pomocą ...

---

---

---

---



3. Wymień co najmniej cztery elementy pogody.

[illegible]

#### 4. Uzupełnij zdania.

Narządem, dzięki któremu rozpoznajemy zapachy jest .....

Narządem, który umożliwia nam rozpoznawanie smaku, jest .....

5. Napisz, za pomocą jakiego zmysłu poznajemy wymienione w tabeli zwiastuny wiosny.

Zwiastuny wiosny	Zmysł, którym poznajemy
Śpiewy ptaków	
Pąki na drzewach	
Zmienna pogoda	
Słońce grzeje coraz mocniej	

6. Przeczytaj zdania. Podkreśl te, które są prawdziwe.



**Lód to zamrożnięta woda.**

**W temperaturze poniżej zera lód zaczyna się topić.**

**Lód jest bardzo twardy i ma silny zapach.**

**Śnieg wydaje się czysty, ale woda po jego roztopieniu jest brudna.**

7. Napisz w kilku zdaniach, w jaki sposób sprawdzisz, czy śnieg jest czysty:

---

---

---

---

---

---

---

---

---

---