


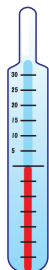


Sprawdzian Liczmanka nr 10

Klasa 2 - styczeń - blok 4 - dzień 4

Zadanie 1

Napisz, jaką temperaturę wskazują termometry.



/4p.

Zadanie 2

Zaznacz na termometrach podaną temperaturę: 10°C, 12°C, 0°C, 25°C,



/4p

Zadanie 4 Rozwiąż zadanie.

W poniedziałek temperatura w dzień wynosiła 14°C, w nocy była niższa o 6°C. Jaka temperatura była w nocy?


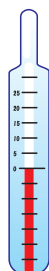


Rozwiązanie.....

Odpowiedź.....

/6p.

Zadanie 5

Ponumeruj termometry z temperaturą od najniższej do najwyższej.



/2p.

Razem...../16p