

Sprawdzian

Klasa 2 - maj - blok 3 - dzień 5

Sprawdzian Liczmanka nr 18



Zadanie 1

Zapisz liczby cyframi

pięćdziesiąt sześć

dziewięćdziesiąt dziewięć

czterdzieści siedem

dziewiętnaście

/2p.

Zadanie 2

Zapisz liczby wyrazami:

24

12

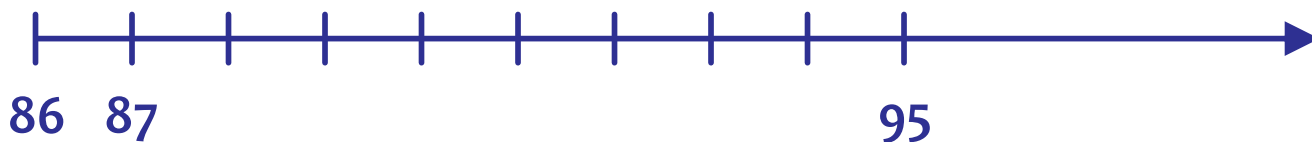
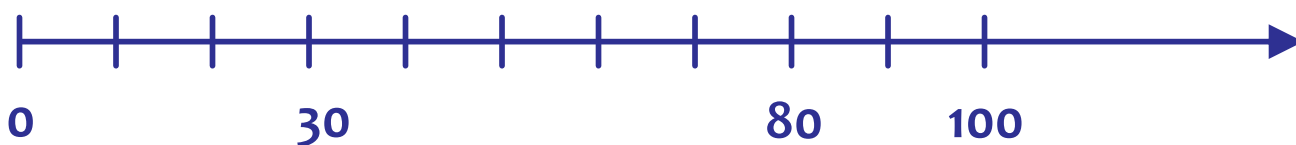
30

59

/2p.

Zadanie 3

Uzupełnij brakujące liczby na osiach.



/2p.

Zadanie 4

Porównaj liczby. Wstaw znak: <, >, =

46 64

59 60

22 11

77 77

/2p.

Sprawdzian

Klasa 2 - maj - blok 3 - dzień 5

Zadanie 5

Uzupełnij ciągi liczbowe:

10, 20, 30,

5, 15, 25,

100, 90, 80,

94, 84, 74,

/4p.




Zadanie 6

Rozwiąż zagadki matematyczne:

1) Pomyślałam o pewnej liczbie, dodałam do niej 42 i otrzymałam 56. O jakiej liczbie myślałam?

Ta liczba to



/1p.

2) Pomyślałam o pewnej liczbie. Odjęłam od niej 32 i otrzymałam 32. O jakiej liczbie myślałam?

Ta liczba to

/1p.

3) Jeżeli do liczby, o której myślę, dodam 17, potem odejmę od wyniku 4 i dodam 15, to otrzymam liczbę 53. O jakiej liczbie myślę?

Ta liczba to

/2p.

4) Jeżeli dodam do siebie liczbę 24 i 15, następnie od wyniku odejmę pewną liczbą, a potem dodam jeszcze 11, to otrzymam liczbę 41. Jaką liczbę mam na myśli?

Ta liczba to

/2p.

Zadanie 7

Rozwiąż zadanie i napisz odpowiedź.

W księgarni było 18 książek z bajkami. Z drukarni przywieziono jeszcze 14. W ciągu dwóch dni sprzedano 11 książek. Ile książek z bajkami jest teraz w księgarni?

Rozwiązanie

[illegible]

Odpowiedź

/2p.

Razem

/20 p.