


Zadanie 1


Polecenie: Jakie przybory można kupić za 20 zł?



2 zł



3 zł




7 zł



1 zł



8 zł



3 zł

Zadanie 2

Którą z poniższych kwot zapłacisz 2 monetami? Właściwą odpowiedź otocz pętlą.

8 zł

7 zł

5 zł

9 zł