

Zadanie 1

a) Ponumeruj monety i banknoty według ich wartości, od najmniejszej do największej.




Zadanie 2


Polecenie: Poniżej są ceny przyborów szkolnych. Jakie przybory można kupić za 10 zł?




2 zł



3 zł




7 zł



1 zł



8 zł



3 zł