









Zadanie 1






















Polecenie: Jakie liczby zasłoniły pszczoły. Zapisz je w kratce z pszczołą.

1			4	5		7	8	9	
	12	13	14		16		18		20

Zadanie 2

Polecenie: Pszczoła Maja leci do ula siadając na co trzecim kwiatku. Na ilu kwiatkach usiądzie zanim doleci do domu? Wynik zapisz pod ulem.



						
1	2	3	4	5	6	7
						
8	9	10	11	12	13	14
						
15	16	17	18	19	20	_____