






















Zadanie 1

Polecenie: Pszczoła Maja leci do ula siadając na co trzecim kwiatku. Na ilu kwiatkach usiądzie zanim doleci do domu? Wynik zapisz pod ulem.



 1	 2	 3	 4	 5	 6	 7
 8	 9	 10	 11	 12	 13	 14
 15	 16	 17	 18	 19	 20	 _____

Zadanie 2

Polecenie: Ile plastrów miodu zasłoniła Maja? Ile jest wszystkich plastrów?

