


Scenariusz nr 30

Karta pracy 1a


Zadanie

Polecenie: Po powrocie do domu Ania narysowała boiska do zabaw ruchowych, które zaobserwowała podczas spaceru. Wykorzystując umiejętność dodawania i mnożenia, oblicz liczbę kwadratów, które tworzą narysowane boiska.


a.



b.



c.



d.

