

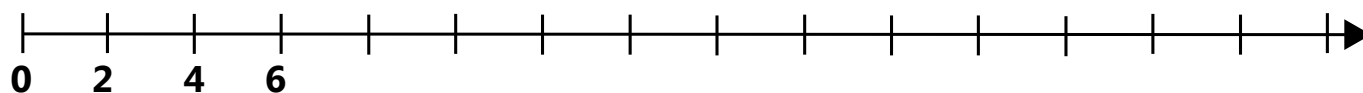
Scenariusz nr 31

Karta pracy nr 1a

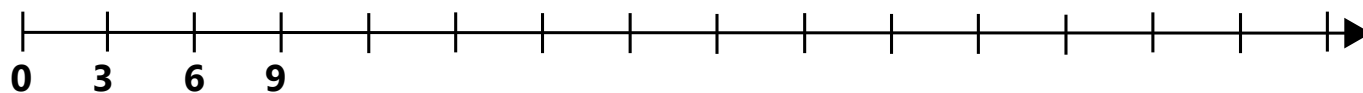
Polecenie:

Linia przedstawia tor, po którym jeżdżą wózki z węglem. Pionowymi kreskami zaznaczone są miejsca, w których wózek się zatrzymuje. Odkryj klucz, według którego wybrane liczby zostały zaznaczone na osi liczbowej, dokończ zapis zgodnie z odkrytym kluczem.

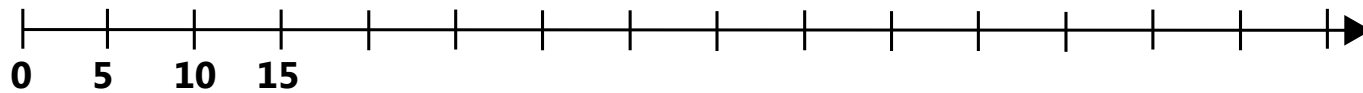
a)



b)



c)



d)

