


Scenariusz nr 34

Karta pracy nr 1a

Rozwiąż zadania.


Mateusz pracował w sklepie ze sprzętem elektronicznym, jego zadaniem było przeprowadzenie spisu urządzeń elektrycznych znajdujących się w sklepie. Zakasał więc rękawy i wziął się do pracy:

- a) Zaczął od telefonów komórkowych, w sklepie było 5 pudełek po 10 telefonów.
Ile telefonów było w sklepie?




Odpowiedź:.....

- b) Następnie sprawdził liczbę płyt CD. Było ich po 10 sztuk w 10 pudełkach.
Ile było płyt CD?



Odpowiedź:.....

- c) Kolejno liczył myszy komputerowe. Było 9 pudełek po 9 sztuk w każdym.
Ile było myszy komputerowych?



Odpowiedź:.....