


Scenariusz nr 55

Karta pracy nr 2a

Rozwiąż zadanie.

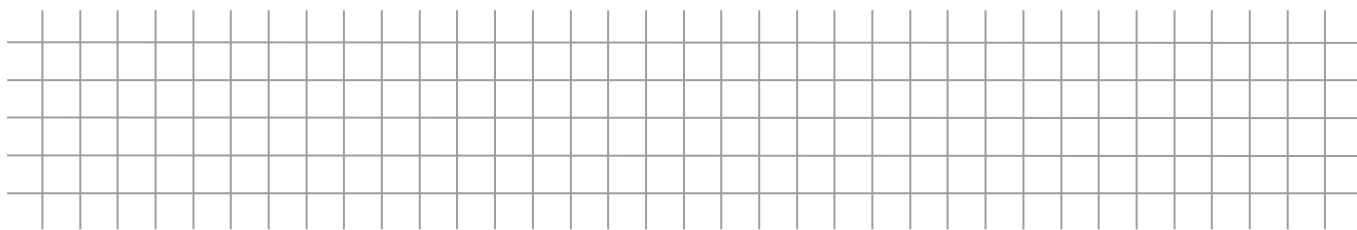
Podczas ferii uczniowie klasy III C i III D postanowili urządzić bitwę na śnieżki. Już od rana zaczęły się przygotowania śnieżek. Klasa III C po swojej stronie ulepiła 5 stanowisk po 20 śnieżek, natomiast klasa III D 4 stanowiska po 10 śnieżek i 3 po 15.

- a) Ile śnieżek przygotowała klasa III C? Zaproponuj działanie, rozwiąż je oraz zilustruj przygotowane stanowiska ze śnieżkami.



Odpowiedź:


- b)** Ile śnieżek przygotowała klasa III D? Zaproponuj działanie, rozwiąż je oraz zilustruj przygotowane stanowiska ze śnieżkami.



Odpowiedź:

- c)** Która klasa ulepiła więcej śnieżek?

- d)** Podczas pierwszej fazy zabawy klasa III C zużyła 3 stanowiska ze śnieżkami, natomiast klasa III D 2 stanowiska po 15 śnieżek. Ile śnieżek zużyła każda klasa? Ile śnieżek zostało jeszcze każdej klasie? Narysuj ile śnieżek zostało każdej klasie.



Odpowiedź:
