




## Karta pracy nr 107

Oblicz, ile godzin minęło i wpisz nazwę w odpowiednim miejscu w tabeli.

### Ile godzin minęło:

<b>1.</b> Od godziny 5.00 do 9.00	.....	<b>kapelusz</b>
<b>2.</b> Od godziny 12.00 do godziny 13.00	.....	<b>korale</b>
<b>3.</b> Od godziny 10.00 do godziny 20.00	.....	<b>chusta</b>
<b>4.</b> Od godziny 14.00 do 19.00	.....	<b>cucha</b>
<b>5.</b> Od godziny 20.00 do godziny 22.00	.....	<b>portki</b>
<b>6.</b> Od godziny 18.30 do godziny 21.30	.....	<b>kierpce</b>
<b>7.</b> Od godziny 11.00 do godziny 18.00	.....	<b>serdak</b>
<b>8.</b> Od godziny 15.15 do godziny 23.15	.....	<b>spódnica</b>
<b>9.</b> Od godziny 4.30 do godziny 13.30	.....	<b>gorset</b>
<b>10.</b> Od godziny 1.45 do godziny 7.45	.....	<b>parzenice</b>

ILOŚĆ GODZIN	NAZWA	ZDJĘCIE
1	.....	
2	.....	
3	.....	
4	.....	
5	.....	
6	.....	
7	.....	
8	.....	
9	.....	
10	.....	